

Муниципальное бюджетное образовательное учреждение
дополнительного образования

«Тугулымская станция юных туристов»



**Сборник олимпиад по краеведению, проводимых в
Тугулымском городском округе.
Школьный и муниципальные туры**

Информационно-методический сборник

Авторы-составители:


Т.А. Киселева,
А.В. Поротников,
А.Б. Селина, Г.Г. Селина,
МБОУДО Тугулымская
СЮТур

Тугулым, 2019 г.




Содержание:

Опыт проведения олимпиад по краеведению в Тугулымском городском округе	4
Источники информации, используемые при подготовке к краеведческим олимпиадам	11
Положение о проведении муниципального тура олимпиады по школьному краеведению в Тугулымском городском округе	14
Задания школьного этапа олимпиады школьников по краеведению	19
Задания для 5-6 классов	19
2017 год	19
2018 год	24
2019 год	28
Задания для 7-9 классов	33
2017 год	33
2018 год	38
2019 год	43
Задания для 10-11 классов	47
2017 год	47
2018 год	51
2019 год	60
Задания муниципального этапа олимпиады школьников по краеведению	67
Задания для 5-6 классов	67
2018 год	67
2019 год	73
Задания для 7-9 классов	78
2017 год	78
2018 год	87
2019 год	91
Задания для 10-11 классов	96
2017 год	96
2018 год	102
2019 год	110
Ответы на задания школьного этапа олимпиады по краеведению	118
5-6 классы	118
2017 год	118
2018 год	120
2019 год	121
7-9 классы	123
2017 год	123
2018 год	125
2019 год	126
10-11 класс	127
2017 год	127





2018 год	129
2019 год	131
Ответы на задания муниципального этапа олимпиады по краеведению	134
Задания для 5-6 классов	134
2018 год	134
2019 год	136
Задания для 7-9 классов	137
2017 год	137
2018 год	140
2019 год	141
Задания для 10-11 классов	143
2017 год	143
2018 год	147
2019 год	150
Список источников	153





Опыт проведения олимпиад по краеведению в Тугулымском городском округе

*А.В. Поротников,
заместитель директора
МБОУДО Тугулымская
СЮТур*

Краеведческие конкурсы в Тугулымском городском округе проходят постоянно. Они разнообразны: викторины в рамках туристских слетов, эколого-биологический брейн-ринг, районная краеведческая конференция, конкурсы для младших школьников «Я и мир вокруг меня», был опыт проведения аналогичной викторины для среднего и старшего школьного возраста, есть и другие конкурсы краеведческой направленности. Каждое из этих мероприятий имеет свой круг участников и определенный диапазон проверяемых знаний. Соответственно выявляются разные участники, показывающие некоторый уровень знаний, но сложно сравнить победителей разных конкурсов между собой. Так возникла необходимость проведения конкурса, который бы включал в себя как можно более широкий спектр знаний о родном крае и был привлекательным для всех участников образовательного процесса среднего и старшего школьного возрастов.


Таким мероприятием стала олимпиада по краеведению. Предложение о ее проведении поступило от администрации Тугулымской станции юных туристов и было встречено поддержкой Управления образования администрации Тугулымского городского округа. Статус мероприятия определили как олимпиаду, проводимую вначале на уровне школ. А затем участники, набравшие 50 и более процентов от максимального балла становились участниками второго, муниципального этапа, где выявлялись победители и призеры среди ребят одного возраста (то есть в каждой параллели).

Исходя из идеи мероприятия, вопросы, задания разрабатывались по всем темам, которые имеют развитие в краеведческой деятельности. Учитывая, что не во всех учебных учреждениях изучается краеведение на высоком уровне, вопросы составлялись на основе распространенных источников. Во многих вопросах предполагался выбор ответов. В отдельных заданиях ответ можно было получить путем логических рассуждений или по подсказкам. Нередко среди заданий встречались такие, которые опирались на школьные знания по смежным предметам: биологии, географии, истории и др.

Мы, как организаторы, постоянно опасались, что разработанные задания будут сложны для участников. Но практика проведения показала, что школьники хорошо знают свой край и, используя свой жизненный опыт и знания, могут дать ответы даже на те вопросы, которые касаются отдельных узких тем краеведения, не знакомых для широкой массы.

В каждой разработанной олимпиаде есть место творческому заданию на заданную тему. При выполнении этих заданий участники показывают свой навык написания исследовательских работ. Хоть здесь и не требуется большой объем исследования, но умение поставить проблему, привести аргументы, обосновать свою точку зрения и другие элементы, показывают уровень подготовленности обучающихся к исследовательской деятельности.

Обсуждая с коллегами результаты первой олимпиады, мы пришли к решению обозначить круг рассматриваемых вопросов для каждого возраста участников, тем самым распределили все темы, которые имеют развитие в настоящее время. Любой





обучающийся, который будет участником олимпиады на протяжении шести лет (с 5 по 11 класс) за это время покажет свои знания по всем темам.

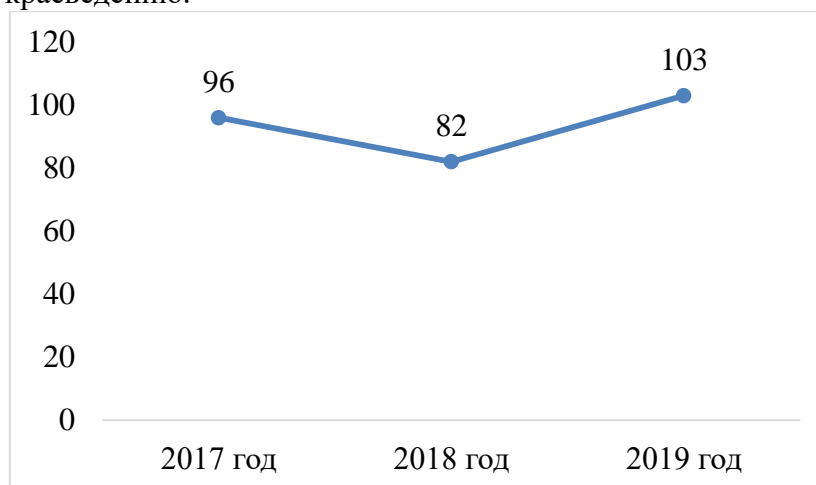
Следующий момент, который нашел отражение в заданиях – это разнообразие форм. Тесты, кроссворды, соответствия, пазлы, работа с историческими источниками, поиск и исправление ошибок и многое другое. Есть и такие редкие формы, как например, кроссворд-дуали. Все это дает пищу для ума и повышает заинтересованность ребят, поражает их воображение. Чем интереснее задание приходится решать, тем больше оно впоследствии обсуждается и запоминается. А какое наслаждение испытывают организаторы от своего педагогического творчества!

За три года опыта проведения олимпиады она прочно вошла в образовательный процесс детских объединений, работающих по туристско-краеведческому направлению. На этапе подготовки обучающиеся активизируют свои знания. Организуется повторение, изучение разных источников краеведческой информации. Заданные темы сужают диапазон рассматриваемых вопросов и заставляют их изучать детально. После проведения школьного этапа – обязательный разбор заданий, анализ выполненных работ, подведение итогов. Лучшие начинают второй этап подготовки, остальные помогают им в поиске сведений по заданным темам. «И снова бой». Второй тур приносит рейтинговую оценку. Вот тут можно говорить о тех, кто имеет повышенный и высокий уровень знаний по краеведению. Как правило, это ребята, которые в дальнейшем становятся участниками конкурсов исследовательских работ. Полученные знания становятся базой для эрудиции, творчества, направлений поисковой деятельности.


Существует также мнение, что такую олимпиаду следует проводить и для младших школьников. На сегодняшний день организаторы считают, что обучающиеся начальных классов накапливают знания по краеведению и показать свой уровень могут на районной игре «Я и мир вокруг меня». Она именно для этого и создана.

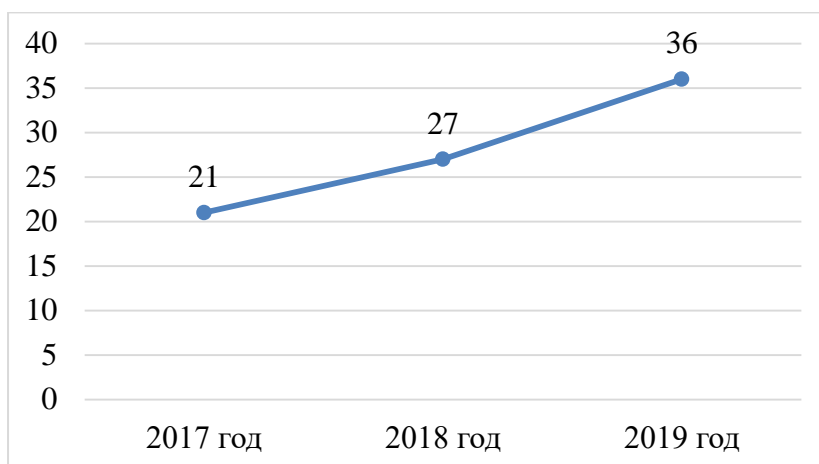
Теперь о результатах проведения олимпиады.

Ниже дана диаграмма общего количества участников школьного (первого) этапа олимпиады по краеведению.

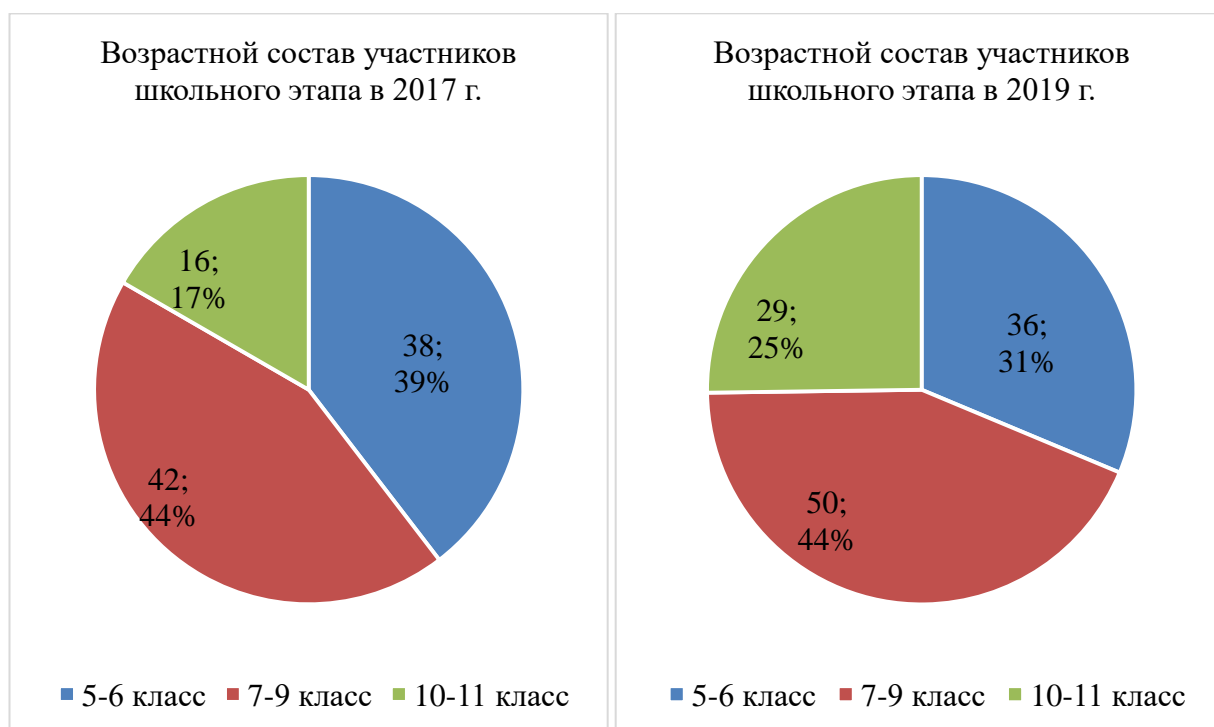


Сравнение показывает незначительный рост числа участников. А вот рост участников муниципального этапа более заметен. За прошедшее время их число увеличилось в 1,5 раза.




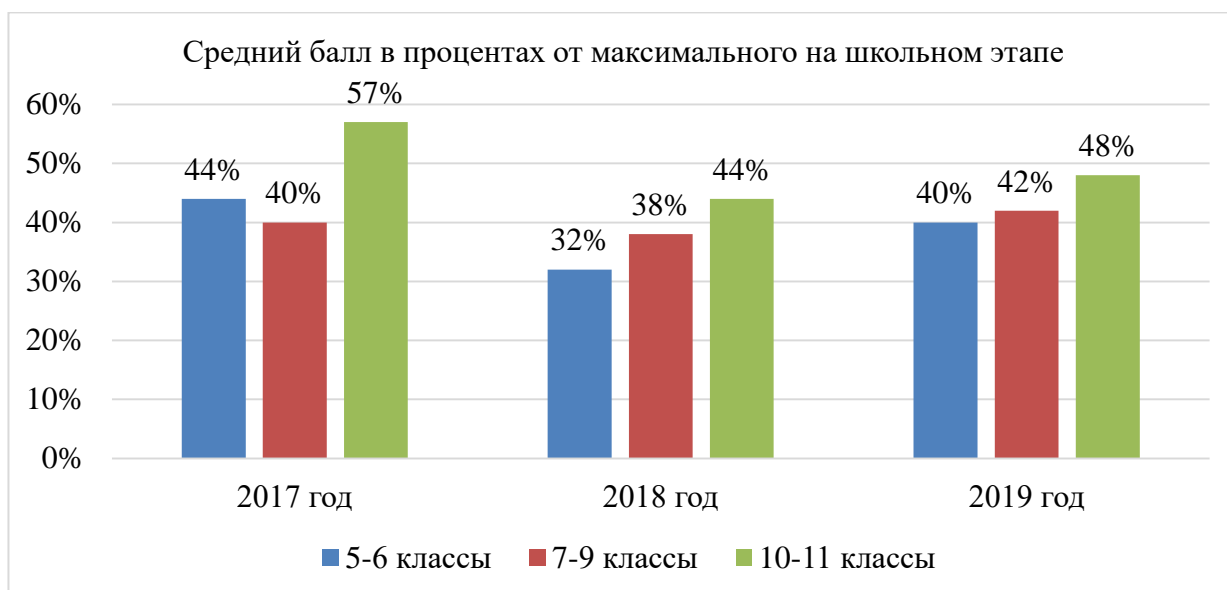


Также интересен возрастной состав участников. Олимпиадные задания разрабатываются по категориям: 5-6 классы, 7-9 классы, 10-11 классы. Понятно, что средняя группа самая большая по числу участников, а старшая – малочисленная. Сравнение показывает, что доля 7-9 классов не изменилась, а вот процент участников старших классов увеличился.

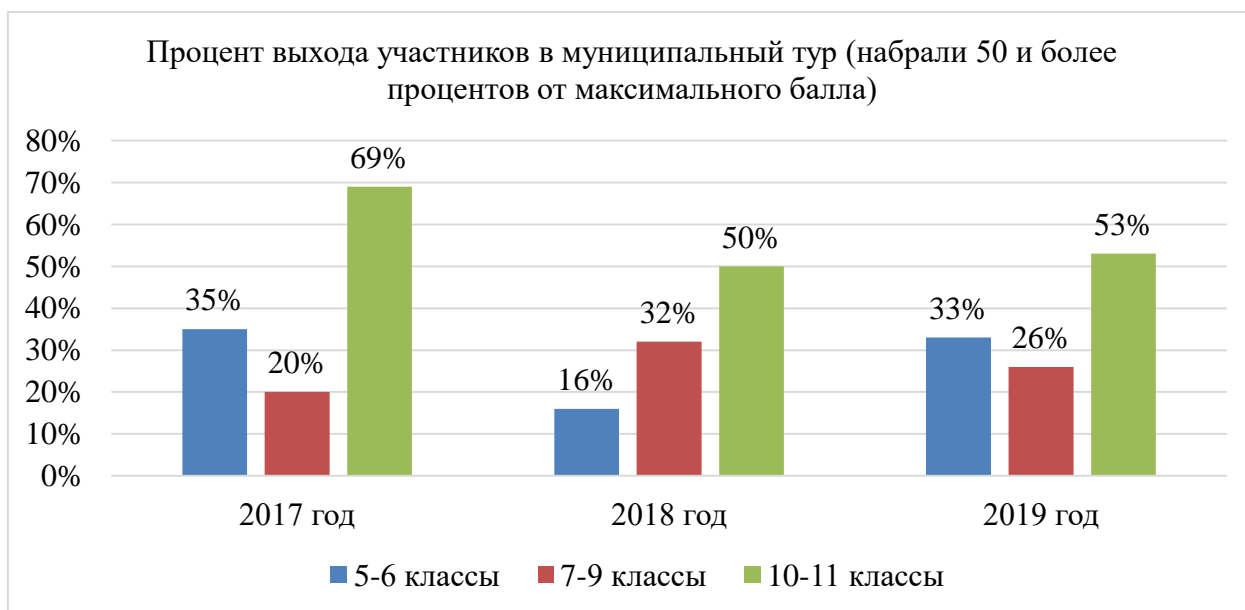


Посмотрим теперь, сколько участников школьного этапа набирают в среднем баллов. В категориях в разные годы были установлены разные максимальные баллы за работу. Это осложняет сравнение. Но мы покажем все в процентах. На школьном этапе картина будет такой.






Сравнение показывает, что первая олимпиада была более успешной. Возможно, задания были более доступными. В дальнейшем организаторы пошли на усложнение, были определены темы, возможно не полностью проработанные на этапе подготовки. Поэтому в 2018 году произошло снижение показателя успешности. Ну а текущий год дал рост по всем категориям. В сравнении между собой очевидный результат, что участники старших классов показывают лучше результат в сравнении с другими участниками. Интересен процент выхода в муниципальный тур из числа участников школьного тура.



Данные диаграммы повторяют выводы, сделанные ранее – участники старших классов более подготовлены, участники среднего звена демонстрируют рост уровня выполнения заданий. Отвлекаясь от приведенных показателей, следует сказать, что в нашем Тугулымском городском округе на школьных этапах олимпиад по предметам участников в среднем столько же, сколько по краеведению. Это объяснимо, потому что в основном участвуют чаще всего одни и те же дети. Редко, когда появляются такие участники, что только на краеведение приходят. Но вот набрать больших баллов на школьных этапах олимпиад по географии, истории у многих не получается. Только

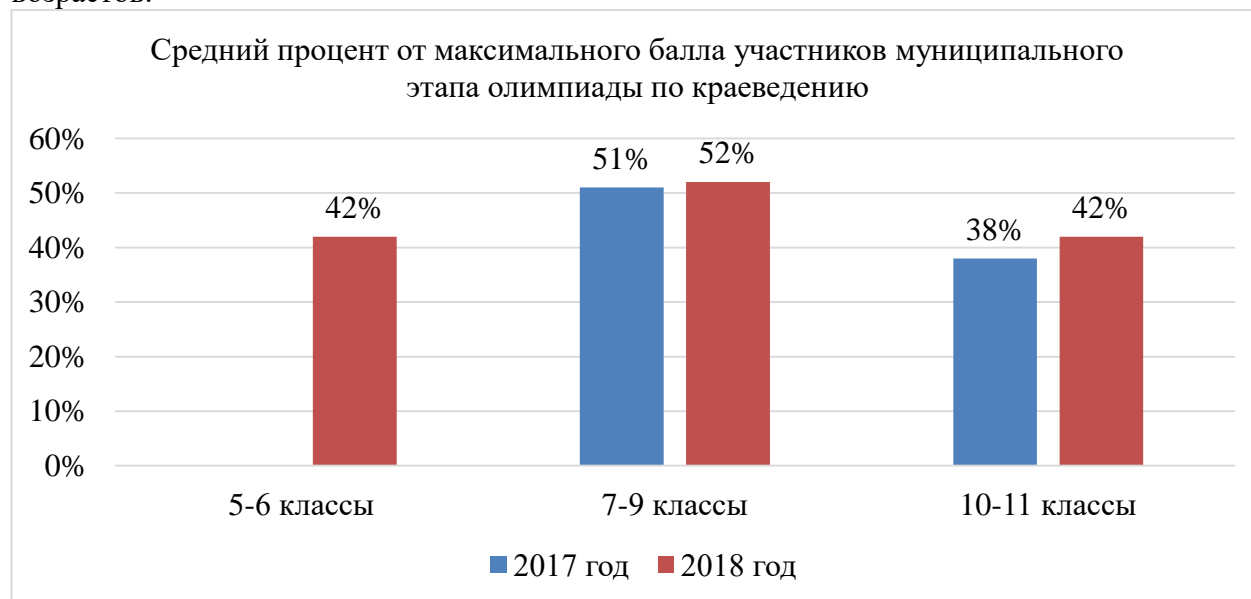





биология дает большой процент выхода в муниципальный тур. В этом отношении олимпиада по краеведению даёт детям большую возможность показать свои знания и умения.

Теперь посмотрим, как участники справляются с муниципальным туром олимпиады. Здесь сравнение проведем только по двум годам: 2017 и 2018. В 2019 году муниципальный тур на момент проведения анализа не прошел.

На следующей диаграмме показаны средние баллы участников по категориям возрастов.



Данные показатели демонстрируют высокий уровень знаний участников по краеведению. Более того, в отличие от школьного тура, здесь лидируют участники 7-9 классов. Следующая диаграмма показывает баллы участников муниципального этапа 2017 года. Максимальный балл – 100. Участники 1-7 7-9 классы, участники 8-21 – 9-10 классы.






По Положению призерами и победителями становятся участники, набравшие 50 и более процентов от максимального балла. Таким образом, число таких участников в 2017 году было всего 6 человек из 21 (28,5%). Это хороший показатель для предмета. Он говорит о подготовленности детей.

Продолжая разговор об участниках, набравших высокие баллы нужно привести пример олимпиады текущего 2019 года. На школьном этапе один из участников 8 класса набрал 52 балла из 60, участник 10 класса – 55 баллов из 60. Не называя имена, заметим, что сравнивая показатели одних и тех же участников по годам, наблюдаем рост уровня знаний.

Анализируя выполнение заданий, организаторы отмечают, что все предлагаемые темы участниками рассматриваются, на все вопросы участники стараются дать ответ. Нет более легких или более сложных тем. Единственное различие наблюдается в творческих заданиях. Чаще всего именно они выявляют разный уровень подготовленности участников.

Подводя итог, следует сделать вывод о положительном опыте проведения олимпиады по краеведению. Для обучающихся Тугулымского городского округа – это служит стимулом для изучения родного края, развития краеведения, выявления одаренности. Для педагогов олимпиада по краеведению служит ориентиром для направления работы с обучающимися, помогает в проведении занятий, организации внеурочной деятельности. Считаем, что для образовательного сообщества наш опыт является ценным и будет полезен.





Источники информации, используемые при подготовке к краеведческим олимпиадам

Из опыта работы Т.А. Киселевой, педагога дополнительного образования

Полный список источников приведен в конце сборника. В этом методическом очерке остановимся на некоторых из них.

Для участников олимпиады нужны базовые знания. Их практически полностью обеспечивает работа со сборником викторин «Район, в котором мы живём», составленным Г.Г.Селиной [30]. В нём рассматриваются вопросы от истории заселения и освоения Тугулымского района до сегодняшнего дня: интересные события и факты, Тугулымский район в годы Великой Отечественной войны, известные люди, география, растительность, животный мир Тугулымского района, охраняемые природные территории Тугулымского района и России, Красная книга Свердловской области. В электронном виде этот сборник выдан всем школьным музеям и туристским клубам района.

Ещё один универсальный сборник для всех возрастов – «Календарь справочник по истории Тугулымского района» З.Г.Багаевой [12,13]. Зоя Георгиевна собрала в хронологическом порядке значимые даты, события из жизни района. В библиотеках ТГО есть два издания этого календаря: 1988 года и значительно дополненное – 1991 года.


Богатейший источник краеведческого материала сборники Тугулымского районного общества краеведов «Краеведческий ларец». Эти сборники должны быть во всех школьных и поселковых библиотеках, музеях района. Выпускаются они с 2007 года. В первом сборнике опубликованы статьи Г.А.Кайгородова о заселении района и статья «Тугулымия» во втором «Краеведческом ларце» [14]. Максимально полно работы Григория Аристарховича увидели свет в 2016 году в сборнике «История заселения Тугулымского края» [10].

Дополнят этот материал «Воспоминания» Н.З.Барабанщикова («Краеведческий ларец» № 7, 2012) [1]. Он описывает историю своего рода и жизнь Зауральской деревни конца XIX, начала XX века.

Есть в краеведческой библиотеке района три небольших книжки, посвящённые истории отдельных населённых пунктов. Книга П.Л.Грехова «Не кривя душой» (1992) [6] посвящена прошлому деревни Гилёва. Она более давняя и должна быть в библиотеках района. Василий Ласкин знакомит нас с историей посёлка Юшала (2007) [18]. И в 2019 году появилась книга О.Н.Онищенко, наполненная грустью об исчезнувшей деревне Корявка [24]. Эти две книги, конечно, не так распространены, но в районной библиотеке с ними можно познакомиться.

Продолжается знакомство с историей населённых пунктов в детских исследовательских работах. В «Краеведческом ларце» № 5 «Грани талантов юных исследователей» [5] есть работа Анны Рощиной (Ошкуково) «Родная деревня, тебя не забуду», в которой можно познакомиться с историей деревень Кокшарова, Гилёва, Золотова, Ошкукова, Корявка, Заимка, Тямкина, хутора Сухой Лог и посёлка Кузнецовский. В этом же сборнике – работа Кристины Кармакских (Верховино) «Орловские долгожители» о жителях деревни Орлы Тугулымского района.

В «Краеведческом ларце» № 13 «Летопись родного края» [19] целое созвездие таких работ. Две работы о деревне Тямкиной представили активистки Ошкуковского школьного музея Ольга Дубровских и Ольга Илларионова. Поротникова Валерия (Тугулым) знакомит со страницами летописи деревни Юшковой. С историей деревни Полушиной мы знакомимся в работе Александры Пискулиной (Верховино). А





Кармакских Никита – музеевед Верховинской школы рассказал о истории деревень: Орлы, Сажина, Пискулина, Полушина, Рябова. В очерке Ольги Суздальцевой (Юшала) мы знакомимся с историей исчезнувшей деревни Химустановки-Смолокурки.

Обширный материал (архивные документы, статьи из научных работ и периодической печати, воспоминания, фотографии) собран на сайте «Село Заводоуспенское» [51].

География района, природные ресурсы детально рассмотрены в книге Л.Т.Поротникова «Летопись Тугулымского края. Природа и природные ресурсы» [26]. Если кому-то с трудом даются текстовые описания, переходите сразу в приложения. По многочисленным и подробным таблицам узнаете о природе района ничуть не меньше.


Для знакомства с географией, конечно, необходима работа с картой Тугулымского района. А знакомство с миром животных и растений уже трудно себе представить без самиздатовских сборников В.К.Светашова, их вышло уже более 30-ти. Приобрести сборники можно в районном музее, почитать в районной библиотеке и ещё на сайте Проза.ру [43]. В основном это рассказы о мире природы Тугулымского края, но есть и знакомство с различными уголками России, и всегда есть точное указание места описанных событий. Поэтому внимательный читатель всегда заметит различия в природе Дальнего Востока, Молдавии, Свердловской области и Тугулымского района. В вышеупомянутой книге Л.Т.Поротникова есть детальнейшая таблица о птицах района, подготовленная Вадимом Кузьмичём. Кроме того, в «Краеведческом ларце» № 2 [14] опубликована статья «Новосёлы Тугулымского района», где можно познакомиться с образом жизни енотовидной собаки и американской норки. В 2010 году вышел «Краеведческий ларец» №6 В.К.Светашова «Гнездовый период в жизни птиц Тугулымского района» [31].

В.В.Торопов издал книгу об истории лесного хозяйства в Тугулымском районе «50 лет Тугулымскому лесхозу» [37]. Валерий Викторович стоял у истоков создания районной игры «Экологический брейн-ринг», им собрано немало вопросов к этой игре и к викторинам в районной газете «Знамя труда». И в 2003 году интересные факты из мира экологии и эти вопросы «встретились» в одной книге «Занимательная экология» [38].

Ну, и конечно, знакомство с миром природы невозможно без знакомства с «Красной книгой Свердловской области» [16]. В библиотеках района есть только издание 2008 года. В 2018 году книга отредактирована и переиздана.

Сборник З.Г.Багаевой «Наш вклад в Победу» [21] стал первой попыткой собрать воедино материалы о солдатах и тружениках тыла Тугулымского района в годы Великой Отечественной войны. Он стал основой двухтомника, выпущенного к 70-летию Победы «Тугулымцы в годы войны» [39]. Первый том знакомит с участниками сражений, жизнью района в те страшные годы, поиском без вести пропавших солдат в послевоенное время. А второй том – уникальная «Книга памяти Тугулымского района», кропотливо собранная В.В.Тороповым и подготовленная к изданию О.Н.Онищенко.

Кроме этого фундаментального издания есть статьи и сборники, посвящённые конкретным участникам той войны, воинским подразделениям, отдельным событиям. Прежде всего это серия сборников «Краеведческий ларец», посвящённая именитым землякам – защитникам Отечества. В каждом сборнике рассказывается о судьбе, боевом пути, подвигах нашего земляка, его семье, малой родине и соревнованиях, посвящённых его памяти. Первый сборник этой серии вышел в 2011 году: «Турнир «Юный снайпер РОСТО», посвящённый памяти снайпера Ивана Романовича Изегова» [15]. Следующий сборник вышел не в рамках «Краеведческого ларца», но построен был аналогично. Он посвящён памяти полного кавалера орденов Славы Михаила Ивановича Пьянкова и соревнованиям по дартсу. «Краеведческий ларец» № 9 «Памяти известных земляков –





защитников Отечества Турнир по борьбе самбо, посвящённый памяти Героя Советского Союза генерала армии Федюнинского И.И.». И вот в 2019 году вышел «Краеведческий ларец» № 15 «Именитым землякам посвящается» [9], собравший под одной обложкой материалы по В.П.Метелёву и соревнованиям по шахматам; М.И.Пьянкову – соревнования по дартсу; Ф.Г.Маркову – легкоатлетический пробег «Петля по Яру» и Е.С.Белопухову – турнир по настольному теннису.

Леонид Тимофеевич Поротников поставил себе задачу к 70-летию Победы выпустить сборник о ещё живущих ветеранах Великой Отечественной войны. Сборник составлен по материалам встреч с ветеранами, проживавшими на территории района по состоянию на 1 января 2013 года. В статьях приведены биографические данные участников войны, их боевой путь, награды, трудовая деятельность и пожелания подрастающему поколению. Сборник называется «Последние солдаты Великой войны» [27].

Не остались в стороне и работы юных исследователей. В «Краеведческом ларце» № 5 [5] опубликована работа Артёма Алимова (Тугулым) «Русский характер»: о характере человека-победителя на примере жизни Г.К.Жукова и наших земляков, защищавших Родину. А также работа Дарьи Еровиковой (Тугулым) «Они ушли на фронт из Тугулыма»: участники Уральского добровольческого танкового корпуса из Тугулымского района. В сборнике № 13 [19] две работы тугулымских школьников посвящены истории создания Мемориального комплекса в Тугулыме: Илья Баженов «Мы героев не забудем никогда» и Полина Баева «Пять юбилейных ленточек. Летопись создания мемориального комплекса воинам Тугулымского района».

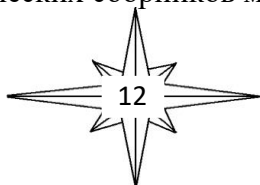
Знакомство с замечательными людьми Тугулымского района можно начинать с книги, которая так и называется «Замечательные люди Тугулымского района» [8], вышла она в 2008 году. В книге 7 глав, которые включают в себя рассказы о людях и их добрых делах: Великая Отечественная война, Сельское хозяйство, Промышленность, Культура, Образование, Почётные граждане, Две судьбы. Эта книга должна быть во всех библиотеках района. Более редкий сборник З.Г.Багаевой «Божий дар: Таланты родного края» [3].

Продолжит эту тему книга В.В.Сидорова «Руководители предприятий и организаций Тугулымского района». Работа велась очень долго, и сначала Виктор Васильевич выпускал отдельные сборники по отдельным периодам с начала образования района [32,33,34]. А в 2019 году все найденные материалы объединил в одну книгу [35], где можно проследить историю предприятий и организаций района со дня основания до закрытия или до 2015 года.

История народного образования пока не очень популярная тема в олимпиадах по краеведению. Это можно исправить, если начать знакомить учащихся не только с историей своей школы. В первую очередь поможет в этом статья Л.А.Ткач «Становление и развитие образования в Тугулымском районе», опубликованная в «Краеведческом ларце» №.2 [14]. В 2010 году вышел сборник «История народного образования МО Тугулымский городской округ. Педагогические династии». «Краеведческий ларец» № 3 «Медалисты школ района» [20] вышел в 2009 году. Ну, а «Краеведческий ларец» № 4 «Путеводитель по музеям Тугулымского городского округа» [29] знакомит читателя не только с государственными, но и со школьными музеями и просто музейными и краеведческими уголками.

Много сборников по истории Тугулымского края выпущено районным обществом краеведов. Есть сборник, посвященный истории этой организации: «Краеведческий ларец» № 11 «10 лет истории Тугулымского районного общества краеведов» [25].


Немало издано у нас поэтических сборников местных поэтов.





И есть ещё интересные страницы в истории нашего района. Например, работа Натальи Третьяковой (Трошково) «Тихая моя Родина...»: о военнопленных в Тугулымском районе («Краеведческий ларец» № 5). Статья «Походяшинский след» Н.А.Кирова о строительстве винокуренного завода и открытии церкви Успения Богородицы, где и появилось село Заводоуспенское («Краеведческий ларец» № 2).

Немало есть интересных находок у председателя районного краеведческого общества Л.Т.Поротникова. В «Краеведческом ларце» № 2 опубликованы две его статьи: Экскурсия по Тугулымскому краю и Забытые страницы истории (из истории метеорологических наблюдений). Выпущена книга «Сибирский тракт. Пограничный столб «Россия-Сибирь» [28] о поисках и восстановлении исторического памятника. И также «Краеведческий ларец» № 14 «Героям и жертвам Гражданской войны» [4] о братских и одиноких могилах на территории района.





Утверждаю:
Начальник Управления образования
администрации Тугулымского
городского округа

Положение о проведении муниципального тура олимпиады по школьному краеведению в Тугулымском городском округе

I. Общие положения.

1.1. Муниципальный тур олимпиады по школьному краеведению проводится в рамках Всероссийской олимпиады по школьному краеведению, посвящён в 2019, 2020 годах 75-летию Победы в Великой Отечественной войне, Году детского туризма в Свердловской области и в России, юбилею пгт Тугулым и юбилею Тугулымского района. Олимпиада по краеведению проводится в соответствии с планом районных мероприятий Управления образования администрации Тугулымского городского округа.

1.2. Цель олимпиады: развитие туристско-краеведческой деятельности обучающихся образовательных учреждений Тугулымского городского округа.

1.3. Задачи:

- углубление знаний учащихся в области краеведения – истории, географии, биологии, старого быта, культуры, др. (темы указаны в приложении) своего родного района и Свердловской области;
- развитие творческой, учебно-исследовательской (в том числе – поисковой) деятельности учащихся;
- выявление и поддержка одарённых детей;
- повышение роли туристско-краеведческой деятельности в социализации учащихся, духовно-нравственном воспитании, формировании патриотических качеств и гражданской ответственности.


II. Порядок и место проведения олимпиады.

2.1. Олимпиада проводится в 2 этапа:

Первый этап – школьная олимпиада проводится в октябре месяце, дата устанавливается Управлением образования в графике проведения школьных олимпиад по изучаемым предметам. Школьный тур проводится в образовательных учреждениях Тугулымского округа. Лучшие работы учащихся, набравших более 50% правильных ответов, отправляются в Управление образования, из них формируются участники 2-го этапа – муниципального.

2.2. Второй этап олимпиады – муниципальный тур (очный), проводится в декабре месяце согласно графику проведения олимпиад в Тугулымском ГО.

Олимпиада может включать в себя тесты, кроссворды, таблицы соответствия и творческие задания.





III.Руководство олимпиадой

3.1.Руководство олимпиадой осуществляет оргкомитет, назначаемый приказом начальника Управления образования.

3.2.В области краеведения задания на школьный этап и на муниципальный разрабатывает группа педагогов МБОУДО «Тугулымская СЮТур», занимающихся туристско-краеведческой деятельностью с учащимися.

3.3.Оргкомитет предлагает состав жюри олимпиады, в состав которого входят специалисты детско-юношеского туризма и краеведения в Тугулымском районе. Жюри утверждается приказом начальника Управления образования администрации Тугулымского ГО.

IV.Участники олимпиады.

Участниками школьного этапа олимпиады являются учащиеся 5-11 классов образовательных учреждений. В школьном этапе может участвовать любой желающий учащийся, занимающийся в детских объединениях туристско-краеведческой направленности, либо самостоятельно интересующийся и изучающий краеведение.

Участниками муниципального тура олимпиады являются учащиеся с 6-го по 11 классы, прошедшие школьный тур олимпиады, набравшие по итогам проверки работ не менее половины правильных ответов (не ниже 50% от максимального количества баллов). При большом количестве таких учащихся может быть установлен более высокий проходной балл на муниципальный уровень.

Руководителями делегаций (учащихся) от образовательных учреждений района назначаются педагогические работники этих учреждений, которые отвечают за безопасную доставку учащихся к месту проведения олимпиады и обратно, за пребывание в Тугулыме.


Итоги подводятся по классам: среди учащихся 6-х, 7-х, 8-х, 9-х, 10-х и 11-х классов. В каждой параллели определяются: победитель и призёры – набравшие не менее 50% правильных ответов, все остальные учащиеся – участники олимпиады.

VI.Определение результатов олимпиады и награждение участников.

Жюри образовательного учреждения на школьном этапе определяет победителя по каждому классу (I место) и призёров – учащихся, прошедших 50% уровень. Победители и призёры образовательного учреждения награждаются грамотами учреждения. Работы победителей и призёров отсылают в Управление образования, где работы повторно проверяются и по итогам проверки выстраивается общий рейтинг, на основании которого проводится отбор участников на муниципальный этап.

Жюри муниципального этапа олимпиады проверяет работы участников, выставляет полученный балл за каждое задание, суммирует эти баллы, вносит в протокол. По итогам проверки определяется победитель и призёры муниципального тура олимпиады.

Победители и призёры муниципального тура награждаются дипломами (грамотами) Управления образования администрации Тугулымского городского округа. Участники олимпиады получают сертификаты.





VII. Финансирование.

Финансовое обеспечение, связанное с организационными расходами по подготовке и проведению школьного этапа олимпиады осуществляется образовательными учреждениями.


Расходы, связанные с проведением, подготовкой и награждением победителей и призёров муниципального тура олимпиады по краеведению оплачивает Управление образования администрации Тугулымского ГО.

Расходы, связанные с подвозом участников образовательных учреждений к месту проведения олимпиады и обратно, несут образовательные учреждения.

VIII. Срок действия положения.

Положение действительно на 2019 и 2020 годы.

При необходимости внесения любых изменений будет направлена в образовательные учреждения дополнительная информация.





Приложение 1.

Темы для вопросов олимпиады по краеведению

5-6 классы


1. География Тугулымского района: границы района, населенные пункты, реки, озера.
2. Животный и растительный мир Тугулымского района
3. История района в годы Великой Отечественной войны (тыл для Победы)
4. Тугулымцы в годы Великой Отечественной войны: Герои Советского Союза и Полные кавалеры Орденов Солдатской Славы;
5. Интересные краеведческие факты (по краеведческим викторинам).
6. Развитие детского движения в Тугулымском городском округе (лагерь «Гурино», октябрята, пионеры)
7. Памятники историческим событиям на территории Тугулымского района
8. Быт крестьян.

7-9 классы

1. География Тугулымского края: рельеф, климат, границы, населённые пункты, реки, озёра.
2. Охраняемые территории, охраняемые растения, животные в Тугулымском районе.
3. Сибирский тракт и Пограничный столб «Россия-Сибирь».
4. История района в годы Великой Отечественной войны (тыл для Победы)
5. Тугулымцы в годы Великой Отечественной войны: Герои Советского Союза и Полные кавалеры Орденов Солдатской Славы;
6. Тугулымцы в годы Великой Отечественной войны: участники крупных сражений, участники УДТК; другие известные воины.
7. Известные люди нашего края (по сборникам «След на Земле» и «Замечательные люди Тугулымского района»).
8. Литературное краеведение: поэты, писатели; произведения о Тугулыме и районе.
9. Интересные краеведческие факты (по краеведческим викторинам).
10. Развитие детского движения в Тугулымском городском округе (история пионерских лагерей, Дом пионеров; детские объединения, Тугулымская СЮТур).
11. Памятники историческим событиям на территории Тугулымского района
12. Быт крестьян (предметы, деятельность).


10-11 классы

1. География Тугулымского края: население, национальный состав.
2. История населенных пунктов Тугулымского края (период появления, год, местоположения, первопоселенцы, основные события истории);
3. Хозяйственная деятельность в Тугулымском районе (деятельность населения, занятие сельским хозяйством, животноводством, развитие лесной и др. промышленности).
4. Сибирский тракт и Пограничный столб «Россия-Сибирь».
5. История района в годы Великой Отечественной войны (тыл для Победы)





6. Тугулымцы в годы Великой Отечественной войны: Герои Советского Союза и Полные кавалеры Орденов Солдатской Славы;
7. Литературное краеведение: краеведческие сборники;
8. Интересные краеведческие факты (по краеведческим викторинам).
9. Развитие детского движения в Тугулымском городском округе (история пионерских лагерей, детское самоуправление, сборы актива)
10. Памятники историческим событиям на территории Тугулымского района
11. Быт крестьян.





**Задания школьного этапа олимпиады школьников по краеведению
в Тугулымском городском округе**

Задания для 5-6 классов

2017 год

Блок «История родного края»

В заданиях 1-5 выберите один верный вариант ответа. Каждое задание оценивается в 1 балл

1. В каком году был образован Тугулымский район?
А) 1915 г. Б) 1925 г. В) 1935 г. Г) 1945 г.
2. Какая птица изображена на гербе Тугулымского городского округа?
А) орел Б) синица В) сойка Г) сорока
3. Какого цвета нет на флаге Российской Федерации?
А) белый Б) синий В) красный Г) зеленый
4. В каком из перечисленных ниже поселков в годы Великой Отечественной войны располагался госпиталь?
А) Ертарский Б) Заводоуспенский
В) Луговской Г) Юшала
5. Какой город является родиной уральского сказителя П.П. Бажова?
А) Сысерть Б) Полевской В) Екатеринбург Г) Нижний Тагил

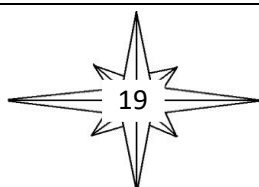
В заданиях 6 и 7 запишите верные ответы, каждое задание оценивается в 3 балла

6. Перечислите трех Героев Советского Союза, уроженцев Тугулымского района

7. Назовите какие-либо три населенных пункта Тугулымского района, расположенных вдоль старого Сибирского тракта

8. Заполните таблицу об участниках Великой Отечественной войны, которые прославили Тугулымский район. Для выбора ответов, используйте данные указанные ниже. *Максимальный балл за задание – 10.*

Фамилия, инициалы участника войны	Место рождения участника войны	Сведения об участнике войны
Иzegoв И.Р		





Пьянков М.И.		
Колмогоров А.В.		
Марков Ф.Г		
Дейнега Н.И		

Варианты ответов:

Место рождения участника войны: с.Тугулымское, д.Яр, с. Незамаевская, д.Троицкий, с.Заводоуспенское

Сведения об участнике войны:

разведчик, полный кавалер орденов солдатской Славы;

помощник командира взвода, полный кавалер орденов солдатской Славы;

сапёр, защитник Ленинграда;

Организатор снайперского движения на Волховском фронте.

В сведениях содержится один ответ, который нужно использовать два раза.

Блок «Биология и охрана окружающей среды в родном крае»

В заданиях 9-13 выберите один верный вариант ответа. Каждое задание оценивается в 1 балл

9. У какого дерева в наших краях последними распускаются листья?

- А) береза Б) ольха В) осина Г) липа

10. Плодам какого кустарника по содержанию витамина С нет равных?

- А) смородина Б) малина В) жимолость Г) шиповник

11. Какое дерево идет на изготовление карандашей?

- А) кедр Б) лиственница В) береза Г) осина

12. Какое из перечисленных ниже животных зимой впадает в спячку?

- А) Белка Б) Заяц В) Бурундук Г) Волк

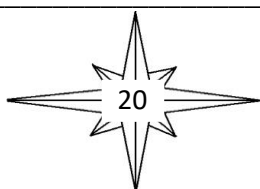
13. К какому виду относится охраняемая территория с названием «Припышминские боры»?

- А) заповедник Б) национальный парк
В) заказник Г) памятник природы

В заданиях 14 и 15 запишите верные ответы, каждое задание оценивается в 3 балла

14. Назовите любые 3 растения, произрастающие в Тугулымском районе, которые население использует как чайное (заваривают вместо чая)

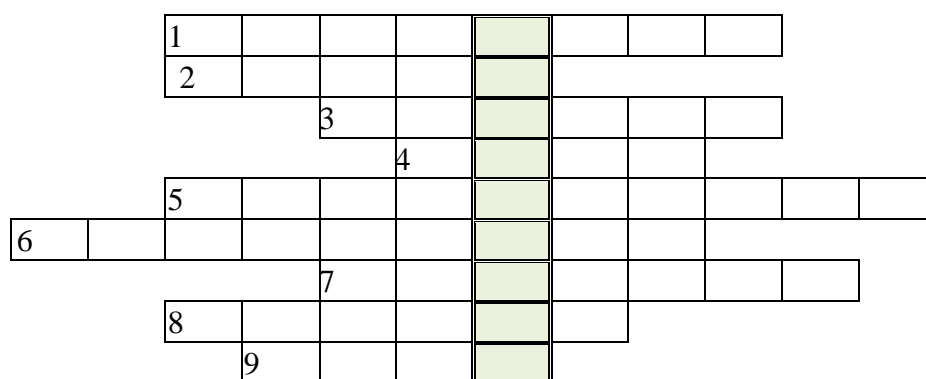

15. Назовите какие-либо три хвойных дерева, произрастающие на территории района





16. Впишите в сетку кроссворда названия лекарственных растений, изображенных на рисунке, и в выделенном столбце прочитаете название еще одного растения. Какая часть этого растения используется в медицине


Максимальное число баллов за вопрос – 10.



Блок «География»

В заданиях 17-21 выберите один верный вариант ответа. Каждое задание оценивается в 1 балл

17. Какая граница проходит по территории Свердловской области?





- А)Россия-Сибирь; Б)Пермский край - Челябинская область;
В)Европа-Азия; Г)Урал-Сибирь

18. До прихода русских основным населением района являлись сибирские татары. Назовите деревню Тугулымского района, населенную татарами.

- А) Рамыл Б) Остров В) Месед Г) Скородум

19. Вдоль какой реки в начале 17 века начали селиться русские люди со стороны Тюмени?
А) р. Айба Б) р. Кармак В) р. Пышма Г) р. Тугулымка

20. Как первоначально назывался п. Луговской?

- А) п. Пышма Б) Верхний Луг В) Пышминский бор Г) Михайловка

21. Назовите крупнейшее озеро Свердловской области.

- А) оз. Гурино Б) оз. Шарташ В) оз. Пелымский Туман Г) оз. Таватуй


В заданиях 22 и 23 запишите верные ответы, каждое задание оценивается в 3 балла

22. Назовите три притока реки Пышма на территории Тугулымского района

23. Тугулымский район на востоке и с юга граничит с Тюменской и Курганской областями. С какими тремя районами Свердловской области он граничит на севере и западе?

24. Рассмотрите карту Тугулымского района и заполните пустые прямоугольники названиями населенных пунктов.

Максимальный балл за выполнение задания – 10.





25. Напишите мини-сочинение о памятнике воинам Великой Отечественной войны, расположенном в Вашем населенном пункте. Объем – не более 20 предложений. Придумайте заголовок. Раскройте такие вопросы как, место нахождения, внешний вид, как сохранена память о земляках, погибших в годы войны, какие проводятся мероприятия возле памятника, как в них участвуют школьники, как ты участвуешь; свое отношение к памятнику.

При написании мини-сочинения пользуйтесь черновиком. Чистовой вариант перепишите в бланк. Постарайтесь не допускать ошибок.

Максимальный балл за задание – 17.



2018 год

В заданиях 1-4 выберите один верный вариант ответа. Каждое задание оценивается в 1 балл

1. Назовите самую старую деревню в нашем районе. В 1976 году там был найден клад, состоящий из 20 ведер пятак (около 12000 монет).
а) Ошкуково б) Юшково в) Двинка г) Зубково
2. В 1938 г. Тугулымский район передан в состав Свердловской области. В состав какой области входил район с 17 января 1934 года?
а) Челябинская б) Пермская в) Тюменская г) Курганская
3. В красивом уголке Урала, среди могучих сосен, у голубого озера Гурино появился лагерь. Это был один из первых лагерей на Урале, ему сразу было присвоено имя храброго пионера П. Морозова. В каком году это произошло?
а) 1924 б) 1927 в) 1939 г) 1934
4. Этот человек родился в д.Вновь-Скородум, закончил Гилевскую семилетнюю школу. В войну командовал взводом и пулеметной ротой. 17 ноября 1943 года ему присвоено звание Героя Советского Союза. В память о его подвиге в Тугулымском районе проводят соревнования по настольному теннису. Назовите этого человека.
а) И.И. Федюнинский б) В.П. Метелев в) Е.С. Белопухов г) М.И. Пьянков

В заданиях 5 и 6 запишите верные ответы, каждое задание оценивается в 3 балла


5. В 2018 году Уральскому добровольческому танковому корпусу исполнилось 75 лет со дня образования. Из Тугулымского района в корпус принято 12 человек. Назовите фамилии трёх участников УДТК из нашего района.

6. Назовите трёх Полных кавалеров ордена солдатской Славы, уроженцев Тугулымского района.






7. Кроссворд «Крестьянский быт». (Максимальное количество баллов - 20)



По горизонтали: 4. Тонкая длинная щепка из сухого дерева, зажигаемая для освещения дома; 7. Из липы свито дырявое корыто, по дороге идет, клетки кладет; 10. Большой открытый продолговатый сосуд с округленными стенками, предназначенный для стирки белья, кормления скота и т.п.; 13. Парень дюжий он и крепкий, без труда глотает щепки. Все семейство вечером угощает он чайком; 14. Буквой Г большущей машет, режет траву - а не пашет. Режет траву: -Вжик - вжик- вжик. Что в руках твоих, мужик?; 15. Не бык, а бодает, не ест, а еду хватает; что схватит, отдаёт, сам в угол идёт; 17. Большой ящик для хранения вещей с крышкой и с замком; 19. Приспособление для укрепления горячей лучины; 20. Он целый день звенел в бору густом, от инея белёсом, а ночью, подойдя к костру, заснул, в бревно уткнувшись носом.

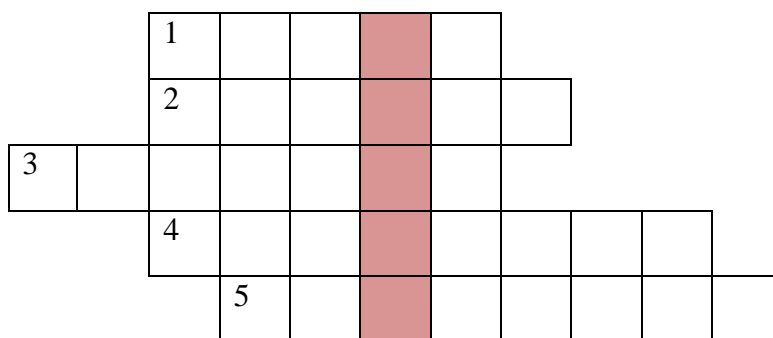
По вертикали: 1. Железный нос в землю врос. Роет, копает, землю разрыхляет; 2. Металлическая дверка в русской печи; 3. Металлический или тяжелый деревянный сосуд, в котором толкут что-либо пестом; 5. Маленький, горбатенький, всё поле избегал, домой прибежал - всю зиму лежал; 6. Кухонная утварь для очистки муки от сора; 8. Деревянный крестьянский дом; 9. Предмет обстановки, на котором и сидели, и спали; 11. Деревянная дуга с зарубками или крючками на концах для ношения на плечах ведер или каких-либо тяжестей; 12. Лежанка, устроенная между стеной избы и русской печью; деревянные настилы, сооружаемые под потолком; 16. Верчусь, верчусь - не потею, только более толстею; 18. Что в торжественных случаях украшает голову женщины.





В заданиях 8-11 и 13-16 выберите один верный вариант ответа. Каждое задание оценивается в 1 балл

8. Назовите вечнозелёный хвойный кустарник наших лесов
а) ель б) рябина в) калина г) можжевельник
9. Цветы этого дерева очень любят пчёлы, мёд из них очень ценится, а из засушенных цветов получается вкусный целебный чай.
а) берёза б) липа в) осина г) клён
10. Это животное из отряда насекомоядных в 2018 году было исключено из Красной книги Свердловской области и переведено в разряд восстанавливающихся.
а) крот б) выдра в) еж г) европейская норка
11. У этой крупной темной совы на «лице» (в отличие от других сов) концентрические темные полосы. Гнездо вьет на дереве. Какая это сова?
а) филин б) бородатая неясыть в) серая неясыть г) воробьиный сыч
12. Отгадайте кроссворд. Все загаданные животные встречаются в Тугулымском районе. Правильно отгадав кроссворд, вы получите ключевое слово. **Что оно обозначает?**



- Этот зверек - самый маленький хищник, обитающий на Урале, при длине тела 13-28 см он охотится на зайцев и куропаток
 - Пушной зверь семейства собачьих с ярким мехом.
 - Крупный зверь, залегающий на зиму в спячку.
 - Запасливый грызун, которого "медведь по спине погладил".
 - Крупный представитель семейства куньих "с мордой медведя".
- Ключевое слово - _____

13. Назовите район, с которым у Тугулымского самая малая по протяженности граница?
а) Слободо-Туринский б) Талицкий
в) Шатровский г) Байкаловский

14. Назовите самый длинный приток реки Пышма
а) Беляковка б) Балда в) Айба г) Тугулымка

15. Назовите крупное озеро, расположенное на острове Васильевском





- а) Саковское б) Гурино в) Термигуль г) Тунгаш

16. Назовите количество населённых пунктов на территории Тугулымского района в настоящее время.

- а) 124 б) 85 в) 36 г) 52


В заданиях 17 и 18 запишите верные ответы, каждое задание оценивается в 3 балла

17. Назовите какие-либо три населенных пункта, исчезнувших с карты Тугулымского района.

18. Назовите 3 реки, впадающие в реку Пышму.

19. Напишите о самом любимом своём уголке на территории Тугулымского района. Укажите, почему это место так важно для Вас, используя краеведческие факты. Объем - не более 15 предложений. Придумайте заголовок. При написании мини-сочинения пользуйтесь черновиком. Чистовой вариант перепишите в бланк. Постарайтесь не допускать ошибок.

Максимальный балл за задание - 10.





2019 год

Блок «История родного края»

В заданиях 1-4 выберите один верный вариант ответа. Каждое задание оценивается в 1 балл

1. У районного центра нашего района – посёлка Тугулым – в 2019 году юбилей. Сколько лет исполнилось Тугулыму?

- а) 110 б) 220 в) 330 г) 440

2. В каком году основан Тугулымский район?

- а) 1917 б) 1922 в) 1925 г) 1934

3. Герб Тугулымского района разработан Уральской геральдической ассоциацией и утверждён Решением Тугулымской районной Думы №54 от 8 сентября 2005 года. Какая птица изображена на гербе?

- а) стриж б) сойка в) соловей г) синица

11. Какое животное изображено на гербе Свердловской области?

- а) медведь б) ящерица в) горноста́й г) соболь


В заданиях 5 и 6 запишите верные ответы, каждое задание оценивается в 3 балла

12. Какие слова написаны на гербе Свердловской области?

13. Назовите трёх Героев Советского Союза, уроженцев Тугулымского района.

14. Внимательно прочитайте события, произошедшие в Тугулымском районе в годы Великой Отечественной войны и отметьте буквами в таблице ниже, в каком населённом пункте это произошло (за каждый правильный ответ – 1 балл; максимальный балл - 4).

События		Населённые пункты	
1	В начале войны в двух школах района были открыты госпитали, один – в Тугулыме, второй где?	А	Трошково
2	В годы войны многие женщины работали трактористами, т.к. мужчины были на фронте. Создавались даже женские тракторные бригады, одна – в Тугулыме, а вторая?	Б	Пышма (ныне – Луговской)
3	В 1942 году с появлением новой стекловаренной печи завод стал выпускать оконное стекло. Где находился этот завод?	В	Юшала
4	В годы войны завод АТРМ выпускал бруски для лыж.	Г	Ертарка





Где он находился?		
-------------------	--	--

Ответ:


1	2	3	4

15. Прочитайте информацию об участниках Великой Отечественной войны из Тугулымского района и укажите, о ком эти слова (за каждый правильный ответ – 1 балл; максимальный балл - 6).

История из жизни		Участник Великой Отечественной войны	
1	Этот человек родился в д.Вновь-Скородум, закончил Гилевскую семилетнюю школу. В войну командовал взводом и пулеметной ротой. 17 ноября 1943 года ему присвоено звание Героя Советского Союза. В память о его подвиге в Тугулымском районе проводят соревнования по настольному теннису.	А	М.И.Пьянков
2	Прекрасный стрелок, уроженец Тугулымского района, организатор снайперского движения на Волховском фронте. О лейтенанте писали фронтовые и центральные газеты. Назовите этого человека.	Б	В.Г.Егоров
3	Назовите полного кавалера орденов Славы, уроженца с.Заводоуспенского, начавшего свой боевой путь со Сталинградского фронта, воевавшего до Победы.	В	А.В.Колмогоров
4	Участник прорыва блокады Ленинграда, освобождения Прибалтики, Польши, взятия Кенигсберга. Возвратившись домой, стал организатором и директором Тугулымского Дома пионеров в 1954 году и руководителем судомодельного кружка.	Г	Е.С.Белопухов
5	Назовите участника парада 7 ноября 1941 года на Красной площади, уроженца Тугулымского района (п.Ертарка).	Д	А.С.Барменков
6	41. Родился и вырос на Брянщине, в 1941 году воевал в партизанском отряде. После ранения – в разведроты на Курской дуге, на 2-ом Украинском фронте. Закончил войну 9 мая в освобожденной Праге. Участник парада Победы 24 июня 1945 года на Красной площади. После войны приехал в Юшалу, где работал на ДОКе.	Е	И.Р.Изегов

Ответ:


1	2	3	4	5	6






Блок «Биология и охрана окружающей среды в родном крае»

16. Кроссворд на тему «Растения и животные Тугулымского края» (Максимальное число баллов за вопрос -20).




1. Выпускает он листы широченной широты.
Держатся на стеблях крепких сто плодов шершавых, цепких:
Если их не обойдешь — на себе их все найдешь.
2. Растет зеленый кустик,
Дотронешься - укусит.
3. Землекоп почти слепой.
Строит город под землей.
4. Озорной мальчишка
В сером армячишке
По двору шныряет,
Крошки собирает.
5. Нет грибов дружней, чем эти, —
знают взрослые и дети.





- На пеньках растут в лесу,
как веснушки на носу.
6. Тонкий стебель у дорожки.
На конце его — сережки.
На земле лежат листки —
Маленькие лопушки.
Нам он — как хороший друг,
Лечит ранки ног и рук.
7. Восемь ног, как восемь рук,
Вышивает шелком круг.
8. Кто может выйти в открытое поле,
Не покидая своего дома?
9. Не балует дуб детей,
Одевает без затей.
Все в его семейке
Носят тюбетейки.
10. Не елка, а колка.
Не кот, а мыши боятся.
11. Кто в лесу без топоров
Строит избу без углов?
12. Под корой сосны и ели
Точит сложные тоннели.
Только к дятлу на обед
Попадает...
13. Он деревья лечит:
Постучит - и легче.
14. В воде она живет,
Нет клюва, а клюет.
15. Летом снег! Просто смех!
Снег по городу летает, почему же он не тает?
(Какое растение создаёт летом «снег»?)
16. Над водой-водицей - царевна круглолица,
Поет царевна, да так напевно,
Что все на суше затыкают уши.
17. Голова на ножке, в голове горошки.
Солнце жжет макушку,
Сделать хочет погремушку.





18. Мягко, а не пух, зелен, а не трава.

19. По лужку он важно бродит,
Из воды сухим выходит,
Носит красные ботинки,
Дарит мягкие перинки.

20. Кто любит меня,
Тот и рад поклониться,
А имя дала мне
Родная земляца.

Блок «География»

В заданиях 10-13 выберите один верный вариант ответа. Каждое задание оценивается в 1 балл

17. На географической и топографической карте север находится:

а) сверху б) внизу в) слева г) справа

18. На карте Свердловской области Тугулымский район находится

а) на северо-западе б) на северо-востоке
в) на юго-востоке г) на юго-западе

19. Вспомните карту Тугулымского района и укажите: д.Гилёва расположена

а) на севере б) на востоке в) на юге г) на западе


20. Назовите самую высокую вершину Свердловской области

а) г. Народная б) Денежкин камень
в) Серебрянский камень г) Конжаковский камень

21. Назовите шесть рек Тугулымского района, впадающих в р.Пышму (*Максимальный балл -6*).

15. Напишите о населённом пункте, в котором Вы живёте. Расскажите, почему это место так важно для Вас. Объем - не более 20 предложений. Придумайте заголовок. При написании мини-сочинения пользуйтесь черновиком. Чистовой вариант перепишите в бланк. Постарайтесь не допускать ошибок.

Максимальный балл за задание - 10.





Задания для 7-9 классов

2017 год

Блок «История родного края»

В заданиях 1-5 выберите один верный вариант ответа. Каждое задание оценивается в 1 балл

1. На территории Тугулымского района находится «Пограничный столб». На границе каких двух губерний он располагался?
А) Тобольской и Пермской
Б) Тобольской и Уфимской
В) Тобольской и Олонецкой
Г) Пермская и Симбирская
2. Что символизирует Лазоревый крест в композиции герба Тугулымского района?
А) природные богатства
Б) сражения древности
В) Сибирский тракт
Г) трудолюбие жителей
3. Кто из русских сыграл большую роль в освоении Сибирских земель?
А) Е. Пугачев
Б) Ермак
В) И. Болотников
Г) С. Разин
4. В каком году прошел первый поезд по железной дороге Екатеринбург-Тюмень?
А) 1885 г.
Б) 1895 г.
В) 1905 г.
Г) 1915 г.
5. Где состоялось первое боевое крещение Уральского танкового корпуса?
А) под г. Орлом
Б) освобождение Праги
В) при взятии г. Львов
Г) при форсировании р. Висла


В заданиях 6 и 7 запишите верные ответы, каждое задание оценивается в 3 балла

6. Перечислите любых трех Почетных граждан Тугулымского района

7. Какие цвета присутствуют на флаге Тугулымского района

8. Заполните таблицу об участниках Великой Отечественной войны, которые прославили Тугулымский район. Для выбора ответов, используйте данные указанные ниже. *Максимальный балл за задание – 10.*

Фамилия, инициалы участника войны	Место рождения участника войны	Сведения об участнике войны
Изегов И.Р		
Пьянков М.И.		
Колмогоров А.В.		
Марков Ф.Г		
Дейнега Н.И		





Варианты ответов:

Место рождения участника войны: с.Тугулымское, д.Яр, с. Незамаевская, д.Троицкий, с.Заводоуспенское

Сведения об участнике войны:

разведчик, полный кавалер орденов солдатской Славы;

помощник командира взвода, полный кавалер орденов солдатской Славы;

сапёр, защитник Ленинграда;

Организатор снайперского движения на Волховском фронте.

В сведениях содержится один ответ, который нужно использовать два раза.

Блок «Биология и охрана окружающей среды в родном крае»

В заданиях 9-13 выберите один верный вариант ответа. Каждое задание оценивается в 1 балл

9. Древесину какого дерева используют для получения фанеры?

- А) береза Б) сосна В) осина Г) лиственница

10. Какое из ниже названных животных относится к отряду грызунов?

- А) крот Б) еж В) бурундук Г) косуля

11. У какого растения из ниже названных корень **нельзя** употреблять в пищу?

- А) подорожник Б) лопух большой

- В) иван-чай (кипрей) Г) чемерица

12. Известны три вида зайцев: русак, беляк и их помесь – тумак. Какой заяц живёт в Тугулымском районе?

- А) Русак Б) Беляк В) Тумак

13. Какой из ниже названных объектов является памятником природы?

- А) Кучум-гора Б) Гражданская гора


- В) озеро Гурино Г) озеро Тунгаш

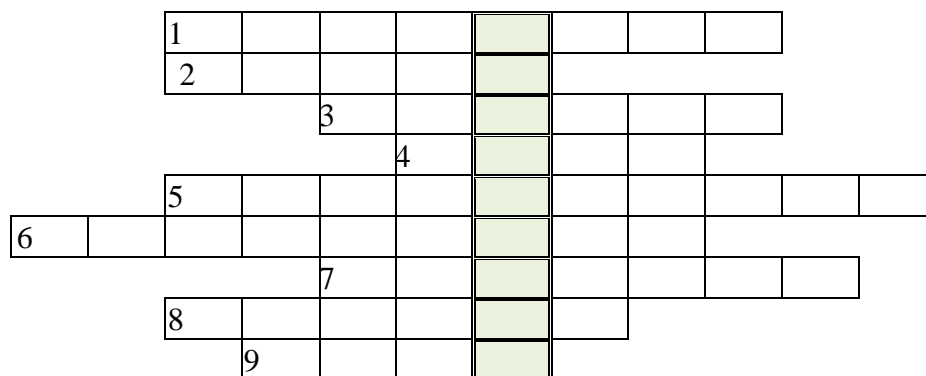

В заданиях 14 и 15 запишите верные ответы, каждое задание оценивается в 3 балла

14. Какие животные, из семейства оленьих, встречаются в Свердловской области?

15. Назовите какие-нибудь три памятника природы на территории Тугулымского района.

16. Впишите в сетку кроссворда названия лекарственных растений, изображенных на рисунке, и в выделенном столбце прочитаете название еще одного растения.





Какая часть этого растения используется в медицине

Максимальное число баллов за вопрос – 10.


Блок «География»

В заданиях 17-21 выберите один верный вариант ответа. Каждое задание оценивается в 1 балл

17. Какова численность населения Тугулымского городского округа (по состоянию на 2017 г.)?

А) около 20 тыс. чел.

Б) около 30 тыс. чел.





В) около 40 тыс. чел.

Г) около 50 тыс. чел.

18. Назовите высшую точку Свердловской области?

А) г. Денежкин камень

Б) г. Конжаковский камень

В) г. Косьвинский камень

Г) г. Серебрянский камень

19. До прихода русских основным населением района являлись сибирские татары. Назовите деревню Тугулымского района, населенную татарами и сегодня.

А) Рамыл

Б) Калачики

В) Гавань

Г) Кармак

20. Какая из перечисленных ниже деревень является исчезнувшей на территории Тугулымского района?

А) д. Потаскуева

Б) д. Чураки

В) д. Александровка

Г) д. Лагушки

21. Эта деревня в северной части района сейчас называется Ивановка. Как она называлась раньше?

А) Тотникова

Б) Бортникова

В) Удина

Г) Михайловка

22. Одно из озер Тугулымского района по легенде имеет искусственное происхождение. Что это за озеро?

А) оз. Гурино

Б) оз. Саковское

В) оз. Тунгаш


Г) оз. Термигуль

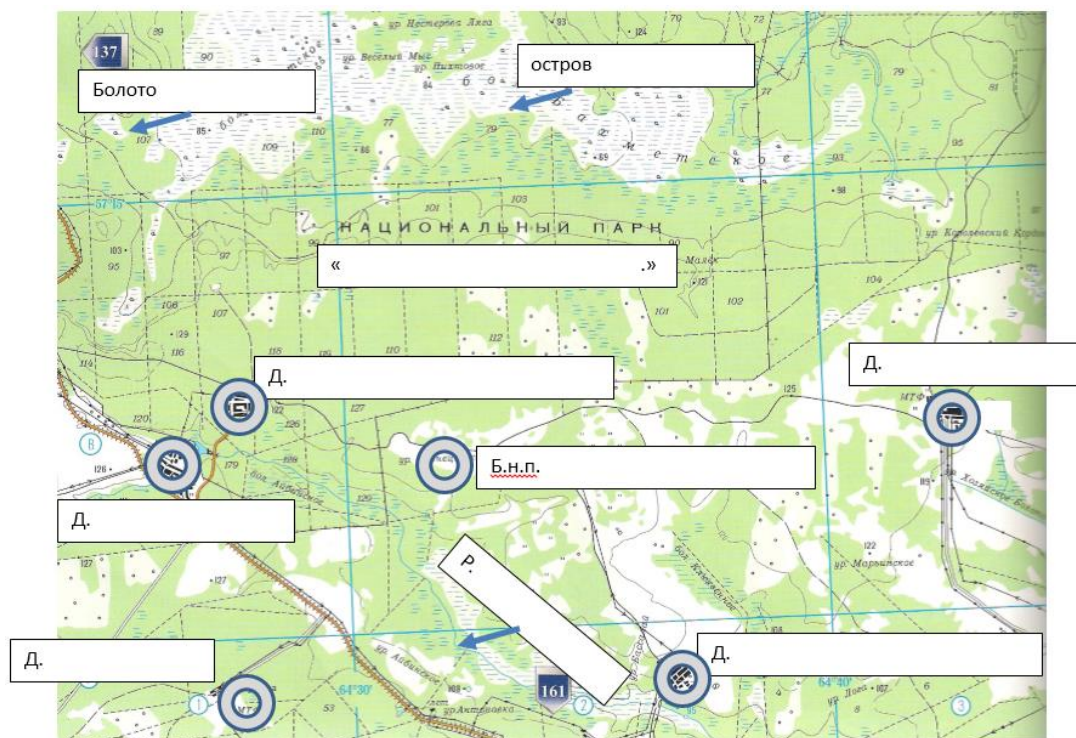
В заданиях 22 и 23 запишите верные ответы, каждое задание оценивается в 3 балла

23. Названия каких рек в районе созвучны с именами людей?

24. Напишите самый южный, самый восточный и самый северный населенные пункты Тугулымского городского округа?

25. Рассмотрите фрагмент карты Тугулымского района и заполните пустые прямоугольники названиями географических объектов.






Примечание: в середине карты указан б.н.п. (бывший населенный пункт), связанный с биографией И.Р. Изегова.

26. Напишите мини-сочинение об одном из земляков – участнике Великой Отечественной войны, труженике тыла. Объем – не более 20 предложений. Придумайте заголовок. Раскройте такие вопросы как, фамилия, имя, отчество человека, фрагменты его биографии, его участие в Великой Отечественной войне или работа в тылу, награды. Как относятся к этому человеку односельчане, свое отношение. При написании мини-сочинения пользуйтесь черновиком. Чистовой вариант перепишите в бланк. Постарайтесь не допускать ошибок.

Максимальный балл за задание – 17.





2018 год

Выберите один верный вариант ответа. Каждый правильный ответ - 1 балл.


1. Назовите самый северный населенный пункт на территории Тугулымского района:
а) д. Гурина б) с. Зубково в) п. Трошково г) д. Щелконогова
2. Назовите населенный пункт, который расположен на железной дороге:
а) с. Ошкурово б) д. Гилёва в) д. Кармак г) д. Мальцева
3. Ландшафтный заказник "Самохваловское болото" располагается в этой части Тугулымского района:
а) юго-восточной б) Северной в) центральной г) Юго-западной
4. Тугулымский район не имеет общих границ с этим районом:
а) Пышминский б) Талицкий в) Тюменский г) Байкаловский
5. Рельеф территории Тугулымского района относится к:
а) Уральским горам; б) Среднесибирскому плоскогорью
в) Западно-Сибирской равнине; г) Среднерусской возвышенности
6. Преобладающие ветры в течение года в Тугулымском районе имеют направление:
а) восточное б) северное в) юго-западное г) Северо-западное
7. Соотнесите в таблице следующие географические объекты (максимально - 5):

Населенный пункт	Река
Д. Большой Рамыл	
Д. Колобова	
Д. Цепошникова	
С. Верховино	
С. Яр	

Реки: р. Беляковка; р. Айба; р. Балда; р. Малый Кармак; р. Пышма

Выберите один верный вариант ответа. Каждый правильный ответ - 1 балл.

8. К какому периоду относится начало создания особо охраняемых территорий в нашем районе?
а) 1785г; б) 1921г; в) 1944-1945гг; г) 1991г.
9. Первыми природоохранными мерами в этот период стали:
а) выделение защитных полос лесов вдоль автомобильных дорог;
б) выделение запретных зон для вырубок вокруг детского дома отдыха у оз. Гурино;
в) выделение защитной полосы вдоль Сибирского тракта.
10. Начало формирования памятников природы на территории Тугулымского района относится к 1954 году. Сколько памятников природы утверждено распоряжением Совета Министров РСФСР № 519-р от 5.04.1960г.?
а) один б) три в) пять г) шесть





11. Этот объект входил в число памятников природы с 1983 года по 1998 год, затем стал ландшафтным заказником:

- а) Самохваловское болото;
- б) старые культуры лиственницы в Ертарском лесничестве;
- в) Ветлацихинский пруд;
- г) болото Термигуль.

12. Назовите охраняемую территорию в пределах района, в создании которой приняли участие школьники Тугулымского района:

- а) буферная зона национального парка "Припышминские боры";
- б) участки леса вокруг глухариных токов"
- в) экологическая тропа "Крутые берега";
- г) памятник природы "Озеро Гуринское"

13. Выберите (подчеркните) из представленных ниже фамилий те, которые относятся к полным кавалерам орденов Славы, ушедших на фронт из Тугулымского района (3 балла)


Метелёв Василий Петрович, Дейнега Никифор Иванович,
Колмогоров Александр Васильевич, Изегов Иван Романович,
Пьянков Михаил Иванович, Марков Феохтист Георгиевич,
Егоров Василий Григорьевич, Белопухов Евстрат Степанович

14. Из выше представленных фамилий (см. вопрос № 13) выберите и впишите (макс.5 баллов):

- организатор снайперского движения на Волховском фронте _____
- участника прорыва блокады Ленинграда _____
- участник парада 7 ноября 1941 на Красной площади _____
- Героя Советского Союза, командира пулемётной роты _____
- Героя Советского Союза, командира 56 танковой бригады _____.

15. В табличке ниже слева представлены Ф.И.О. людей, которые довольно известны в Тугулымском районе, справа – чем они известны, сведения представлены в произвольном порядке. Необходимо соотнести ФИО человека и сведения о нём, для этого номер, соответствующий фамилии человека (из первого столбца) проставить в третьем столбце напротив той строчки, где написана информация о нём (5 баллов):

1. Багаева Зоя Георгиевна	Главный конструктор ледокола «Арктика», Герой Советского Союза	
2. Перевозчиков Андрей Егорович	Краевед, написал несколько книг и краеведческих ларцов, в том числе «Героям и жертвам Гражданской войны»	
3. Малых Владимир Александрович	Краевед, автор нескольких сборников, в том числе – «Наш вклад в Победу»	
4. Поротников Леонид Тимофеевич	Один из основателей туристско-краеведческого полевого лагеря на Гурино, и инициатор районного брейн-ринга	
5. Торопов Валерий	Один из создателей первой атомной электростанции	





Викторович	в г.Обнинск	
------------	-------------	--

16. Сколько лет в 2018 году исполняется дополнительному образованию России? Выберите правильный ответ (1 балл).

150; 60; 80; 100; 40; 95.

17. Из написанных ниже населённых пунктов выберите тот, в котором находится тот или иной памятник, описанный в вопросе (5 баллов):

а).в этом населённом пункте есть памятник Ленину _____

б).памятник бывшей деревне и её жителям _____

в).мемориальный комплекс, включающий в себя: могилу участников Гражданской войны, стелу и памятник погибшим в Великую Отечественную войну, памятник участникам локальных войн _____

г).в каком селе установлен памятник погибшим воинам 11 деревень?

д).где установлен обелиск 23-м землякам, построенный на личные сбережения Филимона Кузнецова, офицера Свердловского УВД? _____

Населенные пункты: д.Пилигримова, п.Луговской, с.Трошково, б.д.Корявка, п.г.т.Тугулым

18. На территории Тугулымского района проходила граница между двумя губерниями: Пермской и Тобольской. Каким знаком эти губернии разделялись на старом Сибирском тракте? К какой губернии относились Тугулым и Юшала? (Максимальное количество баллов - 3)

19. Первый школьный музей был создан:

а) в Юшалинской школе; б) в Тугулымской школе;
в) в Луговской школе г) в Гилёвской 8-летней школе

20. Музей истории народного образования в Тугулымском районе был создан в 1983 году в:

а) РОНО (районном отделе народного образования)
б) Тугулымской средней школе
в) районном Доме пионеров;
г) Тугулымской районной администрации

21. Как назывался оздоровительный лагерь на берегу озера Гурино в 80-х годах прошлого века?


а) им. В.И.Ленина б) им. П.Корчагина
в) им. П.Морозова г) им. К.Е.Ворошилова

22. Первое внешкольное учреждение в районе - Дом пионеров - было открыто в :

а) 1934 году; б) в 1944 году; в) в 1954 году; г) в 1974 году.

23. В Тугулымском районе несколько учреждений дополнительного образования. Сколько их сегодня?

а) 1 (одно) б) 3 (три) в) 5 (пять) г) 6 (шесть)






24. Первый пионерский лагерь в районе принял детей в начале 30-х годов XX века. Он состоял из двух навесов от дождя и солнца на большой поляне. У какого населенного пункта он находился?

а) п.Ертарский б) п.Тугулым в) ст. Кармак г) д. Фоминка

25. В кроссворде использованы устаревшие предметы русского, крестьянского быта, они представлены в картинках ниже. Каждое правильно отгаданное слово оценивается в 1 балл (максимальный балл - 6).




26. Творческое задание.

Напишите небольшое эссе (до 10-15 предложений) на тему "Человек, портрет которого я несу в Бессмертном полку". Это может быть человек, который воевал на фронтах Великой



Отечественной войны или трудился в тылу. Опишите как можно больше фактов о нём, его биографии. *Максимальная оценка задания - 10 баллов.*





2019 год

Блок "Географическое краеведение"

1. На каждый вопрос дайте ответ, выбрав из предложенных вариантов ответов соответствующий. Отметьте ответы в поле для ответов: (5 баллов)

1.1. Назовите реку, вдоль которой возникли ныне исчезнувшие поселения Кокшарова и Рябова:

1.2. Назовите реку, вдоль которой селились старообрядцы:

1.3. Назовите реку, протекающую вдоль деревень Лучинкино, Золотова, Филина:

1.4. Назовите реку, вдоль которой проходит самый длинный участок границы Тугулымского района:

1.5. Назовите реку, вытекающую из озера Гуринского:

Варианты ответов:

а) р.Балда

б) р. Айба

в) р. Кармак

г) р. Пышма

д) р.Межница

е) р.Липка

ж) р.Термигуль


з) р.Тугулымка

Поле для ответов:





Вопрос:	1.1.	1.2.	1.3.	1.4.	1.5.
Ответ:					

Блок "Биология и охрана окружающей среды"







2. Отгадайте кроссворд "Птицы родного края" в картинках. (10 баллов)



По горизонтали:

5.	6.	9.	10.
			



По вертикали:			
1. 	2. 	3. 	4. 
7. 	8. 		

Ответьте на вопрос:

а) Какая из этих птиц изображена на гербе и флаге Тугулымского района? Что она олицетворяет? (2 балла)

Блок "История родного края"

3. В таблице справа в первой колонке отмечены инициалы известных и заслуженных воинов Тугулымского района. В третьей колонке – окончание фамилий (все на букву В). Напишите в средней части – фамилии этих людей (всего 6 баллов).

1 и 2 – Герои Советского Союза;
3 – участник парада 7 ноября 1941г.;
4 и 5 – полные кавалеры орденов Славы;
6 – Известный снайпер в годы войны из Тугулымского района.

1.	В.П.		В
2.	Е.С.		
3.	В.Г.		
4.	Ф.Г.		
5.	М.И.		
6.	И.Р.		

4. В следующем году – юбилейная дата Победы в Великой Отечественной войне. Ниже приводятся вопросы, связанные с Победой. Нужно выбрать правильный ответ. (4 балла)

4.1. Сколько лет исполнится в 2020 году со дня победы в Великой Отечественной войне?


50; 80; 75; 70; 60.

4.2. В каком году впервые в районе прошла акция-шествие Бессмертный полк?

2013; 2014; 2015; 2016; 2017.

4.3. Кто был инициатором проведения первого шествия Бессмертный полк?

- а).Китова Н.А., Силиванова Н.И.; б).Селиванов С.А., Филатов В.П.;
в).Поротников Л.Т., Онищенко О.Н.; г).Коркина М.А., Дюпин Е.В.





4.4. Кто в Тугулымском районе является координатором шествия Бессмертный полк, зарегистрированным в этом качестве на сайте Бессмертного полка?

- а). Селиванов Сергей Алексеевич; б). Киселёва Татьяна Анатольевна;
в). Поротников Леонид Тимофеевич; г). Поротников Александр Витальевич;
д). Онищенко Олег Николаевич; е). Шейхаметова Екатерина Зубеировна.

5. Составьте цепочку из 6 слов, которые являются ответами на вопросы (цепочка – это когда окончание первого слова является началом другого. Пример: карточка – акция – ягель и т.д.) *(Всего 6 баллов):*

- 1) На какой завод в годы войны из Тугулыма уехало 50 подростков по набору для выпуска мин и снарядов?
- 2) В годы войны в школах создавались детские бригады для сбора лекарственных трав и ягод. Назовите один из видов сырья, собираемого школьниками.
- 3) Какая организация в годы войны готовила для сельскохозяйственных работ в Тугулымском районе трактористов, комбайнёров и шофёров?
- 4) Какой завод выпускал в годы войны оконное стекло и бутылку?
- 5) В годы войны в Тугулымском районе существовали 2 женские тракторные бригады. Назовите одно из сёл, где была такая бригада.
- 6) В годы войны было 3 средних школы в Тугулыме. Назовите одну из них.

Ответ: _____

6. Из написанных ниже населённых пунктов выберите тот, в котором находится тот или иной памятник, описанный в вопросе *(5 баллов):*

- а) в этом населённом пункте есть памятник Ленину _____
б) памятник бывшей деревне и её жителям _____
в) мемориальный комплекс, включающий в себя: могилу участников Гражданской войны, стелу и памятник погибшим в Великую Отечественную войну, памятник участникам локальных войн _____
г) в каком селе установлен памятник погибшим воинам 11 деревень? _____
д) где установлен обелиск 23-м землякам, построенный на личные сбережения Филимона Кузнецова, офицера Свердловского УВД? _____

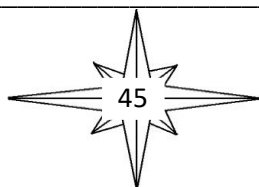
Населенные пункты:

д. Пилигримова, п. Луговской, с. Трошиково, б.д. Корявка, п.г.т. Тугулым

7. На старом Сибирском тракте есть пограничный восстановленный столб, который в народе называли «Россия – Сибирь». Территории каких бывших губерний он разделял? *(2 балла).*

8. Какое значение имеют вышедшие из употребления слова? *(10 баллов)*

- а) аршин - _____
б) палица - _____
в) бдеть - _____
г) лапти - _____
д) онучи - _____
е) избыток - _____





ж) портки - _____

з) авось - _____

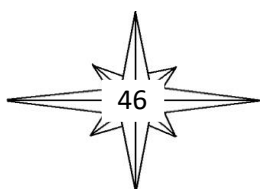
и) возбранять - _____

к) тятя - _____

9. Творческое задание.

Напишите о населённом пункте, в котором Вы живёте. Расскажите, почему это место так важно для Вас. Объем - не более 20 предложений. Придумайте заголовок. При написании мини-сочинения пользуйтесь черновиком. Чистовой вариант перепишите в бланк. Постарайтесь не допускать ошибок.

Максимальный балл за задание - 10.





10-11 класс

2017 год

Блок «История родного края»

В заданиях 1-5 выберите один верный вариант ответа. Каждое задание оценивается в 1 балл

1. В состав какой области Тугулымский район никогда не входил?
А) Свердловской Б) Тюменской В) Челябинской Г) Уральской
2. Что символизируют стрелы в композиции герба Тугулымского района?
А) природные богатства Б) стойбище хана Кучума
В) Сибирский тракт Г) трудолюбие жителей
3. Идея создания Уральского добровольческого танкового корпуса возникла в дни победоносно завершающегося крупного сражения Великой Отечественной войны. Что это за великая битва?
А) Битва под Москвой Б) Курская битва
В) Сталинградская битва Г) Битва за Прагу
4. В каком году муниципальное образование «Тугулымский район» было переименовано в Тугулымский городской округ?
А) 1986 г. Б) 1996 г. В) 2006 г. Г) 2016 г.
5. И вот нашли большое поле:
 Есть разгуляться где на воле!
 Построили редут...
О каком поле перед великой битвой идёт речь в стихотворении?
А) Куликово поле Б) Прохорово поле
В) Полтава Г) Бородинское поле

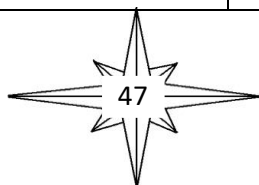
В заданиях 6 и 7 запишите верные ответы, каждое задание оценивается в 3 балла

6. Перечислите любых трех поэтов, членов клуба «Журавушка» Тугулымского района:

7. Какие цвета присутствуют на флаге Свердловской области

8. Заполните таблицу об учителях Тугулымского района. Для выбора ответов, используйте данные указанные ниже. Максимальный балл за задание – 10.

Звания, награды, должность	Фамилия, инициалы	Школа
Заслуженный учитель школы РСФСР		





Заслуженный учитель школы РСФСР, почетный гражданин Тугулымского района		
Заслуженный учитель школы РСФСР, директор школы		
Орден Ленина		
Заслуженный учитель школы РСФСР, Герой Социалистического Труда		

Варианты ответов:

Фамилия, инициалы: Сомова Л.Н., Любушкина М.А., Корчагин А.Н., Шевелев А.И., Журавлева А.И.

Школа: Пышминская, Юшалинская, Луговская, Тугулымская, Верховинская

Блок «Биология и охрана окружающей среды в родном крае»

В заданиях 9-13 выберите один верный вариант ответа. Каждое задание оценивается в 1 балл

9. Древесину какого дерева используют для получения фанеры?

- А) береза Б) сосна В) осина Г) лиственница

10. Какое животное, встречающееся в Тугулымском районе, можно отнести к «живым ископаемым» (проживали ещё во времена мамонта)?

- А) крот Б) еж В) бобр Г) косуля

11. Какое вещество используют при производстве камфары, красок, пластмасс, лаков, бумаги, кино- и фотопленки?

- А) кора хвойного дерева Б) корень
В) смола Г) хвоя

12. Какая птица отряда Собообразных, встречающаяся на территории Тугулымского района, внесена в Красную книгу Российской Федерации?

- А) Бородатая неясыть Б) Филин
В) Воробьиный Сыч Г) Ястребиная неясыть

13. Как называется экологическая тропа, имеющая статус охранный, созданная турклубом «Пилигрим»?

- А) «Извилистые тропы» Б) «Крутые берега»
В) «Песчаные дюны» Г) «Лесная тропа»

В заданиях 14 и 15 запишите верные ответы, каждое задание оценивается в 3 балла


14. Свяжите памятники природы с географическими объектами, расположенными рядом.

Ветлачихинский пруд – п. _____

Участки сосновых боров с вереском обыкновенным – д. _____

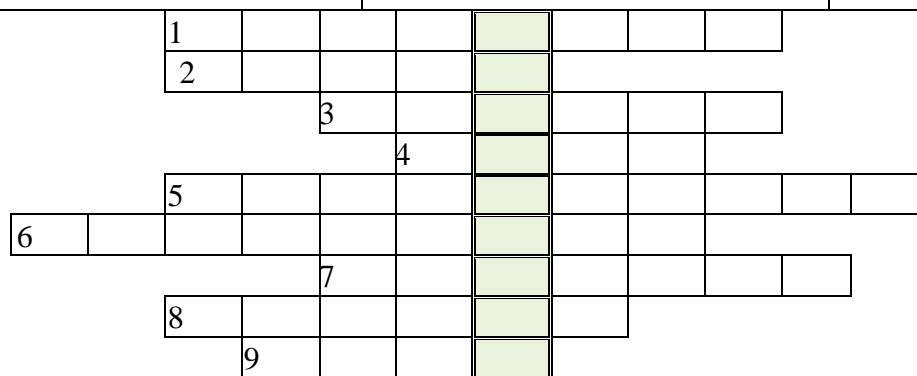

Авраамов остров – болото _____

15. Назовите три любые растения, у которых в лекарственных целях используются корни.





16. Впишите в сетку кроссворда названия лекарственных растений, изображенных на рисунке, и в выделенном столбце прочитаете название еще одного растения.




Какая часть этого растения используется в медицине

Максимальное число баллов за вопрос – 10.

Блок «География»

В заданиях 17-21 выберите один верный вариант ответа. Каждое задание оценивается в 1 балл





17. Как известно, в разное время пути сообщения России с Сибирью были различны. Как называлась дорога, соединяющая две эти части с 1783 года?

- А) Московский тракт Б) Большой сибирский тракт
В) Бабиновская дорога Г) Большая дорога.

18. Какая река является пограничной на юге Тугулымского района?

- А) р. Балда Б) р. Беляковка В) р. Айба Г) р. Пышма

19. В каком поселке родился Иван Романович Изегов, организатор снайперского движения на Волховском фронте.

- А) Ертарский Б) Троицкий В) Заводоуспенский Г) Луговской

20. Какое из названных болот является ландшафтным заказником?

- А) болото Мякуши Б) болото Ежово
В) болото Теплый Рям Г) болото Самохваловское

21. Какие ветра преобладают на территории Тугулымского района?


- А) северо-восточные Б) юго-восточные
В) юго-западные Г) восточные

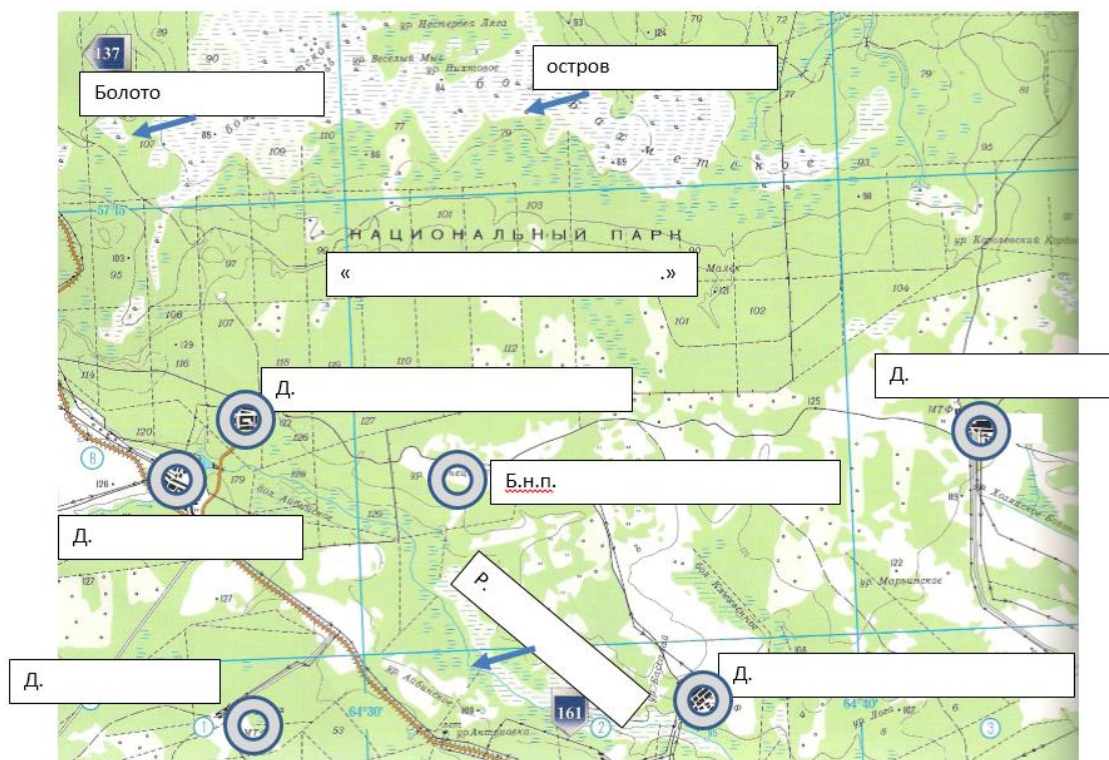
В заданиях 22 и 23 запишите верные ответы, каждое задание оценивается в 3 балла

22. Назовите любые, не более трех, населенные пункты, расположенные вдоль р.Кармак?

23. Какие полезные ископаемые встречаются на территории Тугулымского района, укажите не более трех названий.

24. Рассмотрите фрагмент карты Тугулымского района и заполните пустые прямоугольники названиями географических объектов.





Примечание: в середине карты указан б.н.п. (бывший населенный пункт), связанный с биографией И.Р. Изегова.

25. Напишите мини-сочинение о своем населенном пункте. Объем – не более 30 предложений. Придумайте заголовок. Раскройте такие вопросы как, название, местоположение, население, род занятий людей, факты истории, интересные места, люди, которыми славится ваш населенный пункт. Ваше отношение к малой родине. При написании мини-сочинения пользуйтесь черновиком. Чистовой вариант перепишите в бланк. Постарайтесь не допускать ошибок.


Максимальный балл за задание – 17.

2018 год

Раздел 1. Блиц-тест

В заданиях 1-10 выберите один верный вариант ответа. Каждое задание оценивается в 1 балл

1. В каком веке на территории Тугулымского края появились первые русские деревни?
а) XI век б) XV век в) XVII век г) XIX век
2. Как осваивался Тугулымский край первыми русскими поселенцами?
а) «серпом и сохой» б) «огнем и мечом»
в) «словом и делом» г) «молитвой и послушанием»





3. В каком году был образован Тугулымский район?
а) 1920 г. б) 1925 г. в) 1930 г. г) 1935 г.
4. Какова численность населения Тугулымского района?
а) более 30 тыс. человек б) около 25 тыс. человек
в) немногим более 20 тыс. человек г) менее 20 тыс. человек
5. Где на территории Тугулымского района расположен памятник Пограничный столб «Россия-Сибирь»?
а) окрестности Тугулыма б) окрестности Юшалы
в) территория национального парка «Припышминские боры» г) окрестности бывшего населенного пункта Корявка
6. В каком населенном пункте, кроме районного центра п. Тугулым, располагался госпиталь для раненных в годы Великой Отечественной войны?
а) Луговской б) Ертарский в) Заводоуспенское г) Юшала
7. Какое воинское звание имел Герой Советского Союза И.И. Федюнинский?
а) генерал-полковник б) генерал армии
в) маршал г) генералисимус
8. Кто стал автором Краеведческого сборника «Гнездовый период в жизни птиц Тугулымского края»?
а) Л.Т. Поротников б) Г.А. Кайгородов в) В.К. Светашов г) В.В. Сидоров
9. В каком населенном пункте находится захоронение (могила) участницы Первой мировой и Гражданской войн, награжденной орденом Красного Знамени Е.М. Матуль-Готовской?
а) Луговской б) Ертарский в) Заводоуспенское г) Юшала
10. В каком населенном пункте Тугулымского района был найден уникальный клад – 20 ведер пятаків Екатерининской эпохи?
а) Тямкина б) Корявка в) Юшкова г) Юшала

Раздел 2. Соотношения

В заданиях 11-20 соотнесите строки из первого столбца с соответствующими строками второго столбца. Каждое задание максимально оценивается в 2 балла

11. Соотнесите выдержки из исторических очерков с названиями деревень, о которых там говорится

- А. Эта деревня, как и другие в этой округе, основана митрополичьими крестьянами, выходцами из Устьницынской слободы. В 1625 г. среди крестьян слободы появился оброчный крестьянин Микитка Моисеев. В этом же году он засеял одну десятину ярового, используя для посева землю мирской роспаша... В 1636 г. в слободе проживают уже три семьи крестьян Лубягиных. 1) Юшкова





- Б. В 1700 г. в д. ... было 95 дворов. Долгое время деревня была форпостом тюменских воевод в обороне от набегов кочевников южной степи...Деревня была чуть ли не самой крупной на территории будущего Тугулымского района, но в ней существовала лишь маленькая часовня «во имя св. апостолов Петра и Павла». 2) Зубкова
- В. Деревня эта в наши дни привольно раскинулась по обоим берегам речки Айбы. Здесь тюменский ямской охотник ... облюбывал эти места и получил данную грамоту на владение землею для «собинной пашни». Это поселение стало называться по имени основателя и первого пахаря. Первой из улиц была Кокуй. Здесь начиналась деревня и стоял двор первопоселенца – основателя рода Володиных. 3) Верховина
- Г. Это старинное русское поселение расположено на левом берегу речки Дальний Кармак. Судя по записи в дозорной книге 1700 г., получил данную грамоту на землю в 1670 г. ямской охотник г. Тюмени Михаил Власович Тишинский. Поселившись в этой местности, М.В. Тишинский первым проложил борозду на хлебном поле, положив этим начало хлебопашеству на маленьком участке непашенной сибирской земли. 4) Гилева

Ваш ответ:

А	Б	В	Г

12. Соотнесите названия промышленных объектов с названиями населенных пунктов, где они были расположены


- А. Бумажная фабрика. 1) Ертарский
- Б. Стекольный завод. 2) Заводоуспенский
- В. Молочный завод. 3) Луговской
- Г. Трактороремонтный завод. 4) Тугулым

Ваш ответ:

А	Б	В	Г

13. Соотнесите описания событий, связанных с историей Сибирского тракта и памятника Пограничный столб «Россия-Сибирь» с историческими датами

- А. По тракту проследовали 121 декабрист, а следом 11 жен декабристов. 1) 1790 г.
- Б. По Сибирскому тракту проезжает американский журналист Георг Кеннан, который оставил в своих заметках описание Пограничного столба. 2) 1826 г.





В. В Якутию на Ильменский острог по Сибирскому тракту проехал страстный ненавистник царского самодержавия, автор "Путешествия из Петербурга в Москву" Радищев. 3) 1845 г.

Г. Из Петербурга в Пекин подневольные люди на руках пронесли зеркало в подарок китайскому императору от Николая I. 4) конец XIX века

Ваш ответ:

А	Б	В	Г

14. Соотнесите строки из биографии Героев Советского Союза и полных кавалеров орденов Солдатской Славы с их фамилиями.

А. Родился 8 января 1914 года в с.Тугулым. Здесь окончил школу. Рано остался без родителей. Воспитывался дедушкой и бабушкой. 1) Белопухов Евстрат Степанович

Б. Родился в 1919 году в деревне Яр Тугулымского района. После окончания сельской школы работал в колхозе «Трудовик». 2) Марков Феохтист Георгиевич

В. Родился 5 января 1922 году в крестьянской семье, в которой уже подрастали брат и три сестры. Закончив 4 класса в В.-Скородумской школе он продолжил обучение и получил единственный из семьи семилетнее образование. 3) Метелев Василий Петрович


Г. Родился 21 ноября 1923 года. Вырос в большой рабочей семье. Из 7 детей он был самый старший. С 6 лет он уже боронил. Только успел закончить 1 класс и пошел помощником к отцу пилить дрова. 4) Пьянков Михаил Иванович

Ваш ответ:

А	Б	В	Г


15. Соотнесите описание и фотографии обложек сборников Краеведческий ларец с их названиями

А.



На фотографии берег озера Гурино, одинокая сосна цепляется корнями за обрыв.

1) Краеведческий ларец. Сборник № 8. «Памяти известных земляков – защитников отечества. Турнир «Юный снайпер РОСТО, посвященный памяти снайпера Ивана Романовича Изегова»





Б.



На фотографии заболоченный участок водоема, на котором плавают утки. На дальнем берегу над пойменной растительностью видны крыши старых деревянных домов. Это часть деревни Ивановка

2) Краеведческий ларец.
Сборник № 10.
«Последние солдаты
Великой войны»

В.



На фотографии огородные пашни, в центре над порослью сосняка возвышается одинокий кедр. Этот снимок сделан с вышки возле д. Щелконогова

3) Краеведческий ларец.
Сборник № 12.
«История заселения
Тугулымского края»

Г.



На фотографии осенний лес. Яркие желтые, красные листья украшают березы.

4) Краеведческий ларец.
Сборник № 14. «100-летию
Великого Октября посвящается.
Героям и жертвам
Гражданской войны. В
память погибшим и
помнить живым»

Ваш ответ:

А	Б	В	Г


16. Соотнесите назначение предметов русского быта с их названиями.

А. Использовался для глажения белья после стирки.

1) Рубель

Б. С помощью него сметали с печи лишний мусор.

2) Ендова





В. Этой большой чашкой разливали напитки.

3) Патефон

Г. Использовался для проигрывания граммофонных пластинок.

4) Помело

Ваш ответ:

А	Б	В	Г

17. Соотнесите название населенного пункта Тугулымского городского округа с его численностью населения (по данным Всероссийской переписи населения 2010 г.).

А. поселок Бахметское

1) 32 человека

Б. поселок Кармак

2) 265 человек

В. поселок Тугулым

3) 694 человека

Г. поселок Луговской

4) 2726 человек

Ваш ответ:

А	Б	В	Г

18. Соотнесите описание факта из истории детского движения в Тугулымском районе с местом события.

А. В осенние каникулы в течение 3-х дней прошли сборы туристско-краеведческого актива. В сборах приняли участие 90 учащихся из туристских клубов «Лотос», «Монолит», «Гренада», «Пилигрим», «Исток», а также учащиеся из детских объединений Зубковской ООШ и Верховинской СОШ. А спустя всего несколько дней 7 ноября 2017 года здесь же произошли выборы школьного самоуправления.

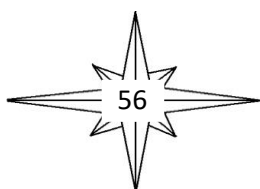
1) берег озера Гурино

Б. В июле уже много лет юные туристы Тугулымского района собираются на несколько дней на традиционные эколого-туристские сборы «Исток». Участниками сборов всегда становятся те, кто знает правила проживания на природе, умеет бережно относиться ко всему живому.

2) Луговская СОШ № 24

В. 11 октября 1999 года состоялось первое заседание «Интеркома» («Интересная компания»). Его составляли активисты школы не равнодушные и понимающие необходимость общего дела. В 2004 г. «Интерком» официально признана администрацией и внесена в Устав.

3) Верховинская СОШ № 29





- Г. В зоне деятельности отряда «Новое поколение» находится 14 колодцев. Ребята из отряда красят их (это делает колодцы нарядными и сохраняет от гниения), проводят приборку улиц, на которых стоят охраняемые колодцы, участвуют в конкурсах. Ежегодно в школе проводят с классами экологические уроки. 4) Юшалинская СОШ № 25

Ваш ответ:

А	Б	В	Г

19. Соотнесите описание места нахождения памятника (захоронения) Гражданской войны с названием.

- А. В годы Гражданской войны на кромке пашни были захоронены бойцы Красной Армии, погибшие во время ликвидации крупного белогвардейского отряда. В июле 2017 года сюда была совершена экспедиция, в которой приняли участие краеведы и юные туристы района. 1) окрестности д. Пилигримовой
- Б. Могила красноармейцев, расположенная в лесу. 18 августа 2017 г. здесь был установлен новый памятник и ограда. 31 августа, 2017 г. группа краеведов с руководителями школьного музея Китовой Н.А. и Степановой О.В. покрасили ограду в ярко - голубой цвет. 2) окраина станции Тугулым
- В. После официального открытия в 2000 г. школьного музея его активисты начали активную работу по сохранению памяти захоронения Братской могилы красноармейцев бронепоезда. Каждый год они ее посещают, чистят, подкрашивают, возлагают цветы. 3) местечко Гагарка
- Г. В этой братской могиле покоятся погибшие красноармейцы, павшие в боях за освобождение железнодорожной станции. В период подготовки к 40-летней или 45-летней годовщине Октябрьской революции был установлен каменный обелиск, который сохраняется и по настоящее время. Шефство над памятником ведет актив школьного музея под руководством Ласкиной Н.Г. 4) п. Юшала

Ваш ответ:

А	Б	В	Г

20. Соотнесите любопытные факты из истории Тугулымского района с их временем.

- А. Тугулымский район был упразднен, его территория входила в состав Талицкого района. 1) 1922-1926 годы
- Б. Основу экономики района составляет сельское хозяйство, в основном зерновое полеводство и мясомолочное 2) 1934-1938 годы





животноводство. В эти годы в районе действуют 89 колхозов.



- В. Тугулымский район входил в состав Челябинской области 3) 1950-е годы
- Г. Успенская фабрика была буквально разграблена, а оборудование вывезено в другие населённые пункты. Известный оперный певец Соковнин В. А. — личный друг бывшего фабриканта Ятеса, обратился к руководству губернии, но безуспешно...

Ваш ответ:

А	Б	В	Г

Раздел 3. Кроссворд

Ответьте на вопросы. Слова вписите в сетку кроссворда. Каждое верно разгаданное слово оценивается в 1 балл





1. Посёлок, возникший в 1885 году при строительстве Транссибирской железной дороги.
2. Известный политический деятель, чей памятник есть в п. Луговском.
3. Село, близ которого существовал детский оздоровительный лагерь «Лесная сказка».
4. Сибирский хан, потомок Чингис-хана, его именем названа возвышенность на территории Тугулымского района.
5. Социальный объект, в здании которого в годы войны в Тугулыме был организован госпиталь.
6. Закончите строки стихотворения Г.А. Кайгородова: «Плавно речка течет под заимкой, пар от речки идет словно дым, не зовите ее Тугулымкой, а зовите ее ...»
7. Национальность, представители которой проживают в нашем районе.
8. У этого слова несколько значений. Оно стало названием поисковой группы юных туристов, которые пытались найти следы Пограничного столба на бывшей границе двух губерний. И в другом значении это слово стало первым в названии сборника «... талантов юных исследователей», отразив многогранность детских краеведческих работ.
9. В 1942 году в самый трудный период Великой Отечественной войны одному из предприятий района, Райпромкомбинату, было дано задание организовать выпуск столовых приборов из дерева. Что они делали?
10. Депутат Законодательного Собрания Свердловской области, поддержавший выпуск краеведческого ларца «Летопись родного края», сборника детских исследовательских работ.
11. Областной город в Белоруссии, в освобождении которого принимал непосредственное участие И.И. Федюнинский. В последствии ему было присвоено звание почетного гражданина этого города.
12. Первые русские поселенцы Тугулымского края под хлеб пахали землю, поэтому Г.А. Кайгородов в своих очерках говорит о них, как о ...
13. Герой Советского Союза В.П. Метелев, как военнослужащий танковой бригады.
14. Пионер-герой, фамилию которого носил пионерский лагерь на берегу озера Гурино.
15. Гидросооружение – рекордсмен в районе, самая длинная. Находилась на Мельничном пруде возле д. Двинской, ее длина составляла 1154 м, максимальная высота 5 м. Прекратила свое существование после промыва в 1992 г. Что это за сооружение.
16. Кем был по роду занятий первый пахарь на Тугулымской земле Матвей Сидоров. Исходя из этого можно судить, что тогда наши леса были богаты зверем.
17. Традиционное собрание казаков возле Пограничного столба «Россия-Сибирь».
18. Форма сохранения памяти о прославленных участниках Великой Отечественной войны и прославленных трудовыми подвигами людей в п. Тугулым.
19. Деревня в Тугулымском районе, исконное место проживания татар.
20. Фильм ГТРК «Регион-Тюмень» о памятнике Пограничный столб «Россия-Сибирь».

Раздел 4. Эссе

Осветите одну из предложенных тем. В своем эссе используйте не менее 10 краеведческих фактов, помогающих раскрыть тему. Обязательно выскажите свою точку зрения. Максимальное количество баллов за выполненное задание – 10.

Тема 1. Главное событие 2018 года в Тугулымском городском округе.

Тема 2. Наш земляк, достойный звания Почетный гражданин Тугулымского городского округа.

Тема 3. Уникальное место в Тугулымском городском округе.






2019 год

Раздел 1. Блиц-тест

В заданиях 1-10 выберите один верный вариант ответа. Каждое задание оценивается в 1 балл. Максимальное количество баллов – 10.

1. В какой деревне Тугулымского городского округа значительная часть населения придерживается исламской культуры?
а) Полуденка б) Полушина в) Калачики г) Потаскуева
2. В 2018 году был открыт первый в Тугулымском крае памятник исчезнувшей деревне. Какому бывшему населенному пункту он посвящен?
а) Первомайский б) Грибной в) Корявка г) Еленка
3. В честь 330-летия Тугулыма на площади административного центра был установлен арт-объект: сердце из лент цветов российского флага. Вверху символ основного богатства края. Что авторы разместили на арт-объекте?
а) Символ леса б) Символ колоса в) Символ воды г) Символ человеческого труда
4. Какая из нижеперечисленных деревень находится в стороне от старого Сибирского тракта?
а) Лучинкина б) Журавлева в) Мальцева г) Юшкова
5. С именем какого героя Советского Союза связаны соревнования по теннису?
а) И.И. Федюнинский б) В.П. Метелев в) Е.С. Белопухов
6. В каком населенном пункте Тугулымского городского округа на кладбище есть небольшой обелиск воинам, умершим от ран в госпитале?
а) Тугулым б) Юшала в) Луговской г) Ертарский
7. В каком из сборников «Краеведческий ларец» были опубликованы исследования об истории мемориального комплекса в п. Тугулым и летописи деревень Тямкиной, Юшковой, Полушиной, Смолокурки и других?
а) Сборник 12 Г.А. Кайгородов «История заселения Тугулымского края» б) Сборник 13 «Летопись родного края», сборник детских работ
в) Сборник 5 «Грани талантов юных исследователей» г) Сборник 7 «Воспоминания Никандра Захаровича Барабанщикова»
8. Что в XIX веке подневольные люди пронесли на руках по Сибирскому тракту в подарок китайскому императору от Николая I?
а) Вазу б) Зеркало в) Чайный сервиз г) Малахитовую шкатулку
9. Имя какого героя носил детский оздоровительный центр Гурино в годы существования Советского Союза?
а) Павлика Морозова б) Вали Котика в) Олега Кошевого г) Зои Космодемьянской





10. В каком населенном пункте Тугулымского края есть памятник В.И. Ленину?
а) Тугулым б) Юшала в) Луговской г) Заводоуспенский

Раздел 2. Литературное краеведение

Предлагаем вам прогуляться по родному Тугулымскому краю вместе с поэтами литературного клуба «Журавушка». Думаем, вы легко догадаетесь о каких местах рассказывается в стихах. Вставьте вместо пропусков слова, изменив их в соответствии с рифмой.

Так как на карте нашего района более 100 разных географических объектов, то мы помогаем вам с выбором. Варианты ответов выбирайте из списка. Помните о том, что разные авторы могут посвящать свои стихи одним и тем же местам.

Варианты слов для ответов:

Айба	Еленка,	Пышма,
Беляковка,	Лагушинский бор,	Рябова,
Верховина,	Луговской,	Тугулым,
Гилева,	Малахова,	Юшала,
Гуринский бор,	Мальцева,	Яр.

Каждое верно вставленное слово оценивается в 1 балл.

Максимально количество баллов – 11.

Березы с елями судачат на ветру,
Росы серебряная россыпь поутру,
Морозным вечером над крышей вьется дым,
Все это родина моя – мой _____
(Б. Халтурина)

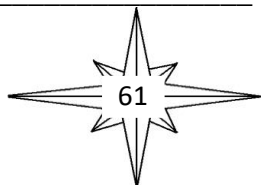
Прошла по _____,
Моя деревня стала новой.
Остались прежними река и берега:
Их память с детства сберегла.

Не стало школы-семилетки,
Не слышно голосов здесь детских.
На месте _____ огромные березы,
А по щекам катились слезы.
(А. Лунеева)

Мне вспомнилась девушка наша
В морозную ночь у костра.
Ее называли Надежда,
Бойцы звали просто «сестра».

Сидела и письма писала
Подругам, знакомым, родным.
И часто она вспоминала
Далекий родной _____.
(З. Ласкин)

Я видел _____





Раз в жизни. Он незабываем.
Семнадцать лет прошло с тех пор,
Картина, как сейчас, живая.

Грустит безмолвно чудо-бор
На берегу лесной речушки.
Сосна к сосне, все на подбор,
Ласкает ветерок верхушки.

(В. Ласкин)

Затерялась в полях _____
Светом детских загадочных дней.
Верю, стала ты в жизни основой
Многих здешних десятков людей.

Две реки здесь, _____ с _____,
Каждый этим гордиться готов.
Рек слиянье совсем недалёко,
И их воды влекут рыбаков.


(Т. Симйонка)

Распустились почки на смородине,
Предсказали скворчки судьбу.
Вновь весну встречает моя родина,
На которой много лет живу.
Разлилась _____ от снега талого,
Омывает дождь зелень-траву.
Вот уж тридцать лет живу без малого,
В _____ провинции живу.

(Л. Маркова)

Раздел 3. Парад Победы

Одна из славных страниц истории Великой Отечественной войны – Парад Победы на Красной площади 24 июня 1945 года. Среди участников этого события были и наши земляки. Их фамилии закодированы в кроссворде. Каждой букве соответствует определенное число. Исключения составляют только буквы И и Й – для них определено одинаковое число. Для помощи выделены слова ПАРАД, ПОБЕДА и ВЕСНА. Восстановите фамилии.





Фамилии вписывайте в сетку кроссворда.

Каждая верно составленная фамилия оценивается в 2 балла.

Максимально количество баллов – 10.

								5		16	
				П 1	О 2	Б 3	Е 4	Д 5	А 6		
	В 9	Е 4	С 16	Н 15	А 6					14	
	2		3	6	Р 7	14	4	15	12	2	9
	13				А 6			4		5	
	2				Д 5			10		4	
	19							6		13	
16	11	14	6	18	12	2	9			12	
	15									11	
										15	

Раздел 4. Предметы крестьянского быта


Предлагаем Вам разгадать небольшой дуали. Это разновидность кроссворда, в котором в каждой клетке стоит не одна, а две буквы. Выберете одну из них так, чтобы по горизонтали и по вертикали получались слова – ответы на вопросы кроссворда.

Ответы вписывайте в две разные пустые формы кроссвордов.

Каждое верно составленное слово оценивается в 1 балл.

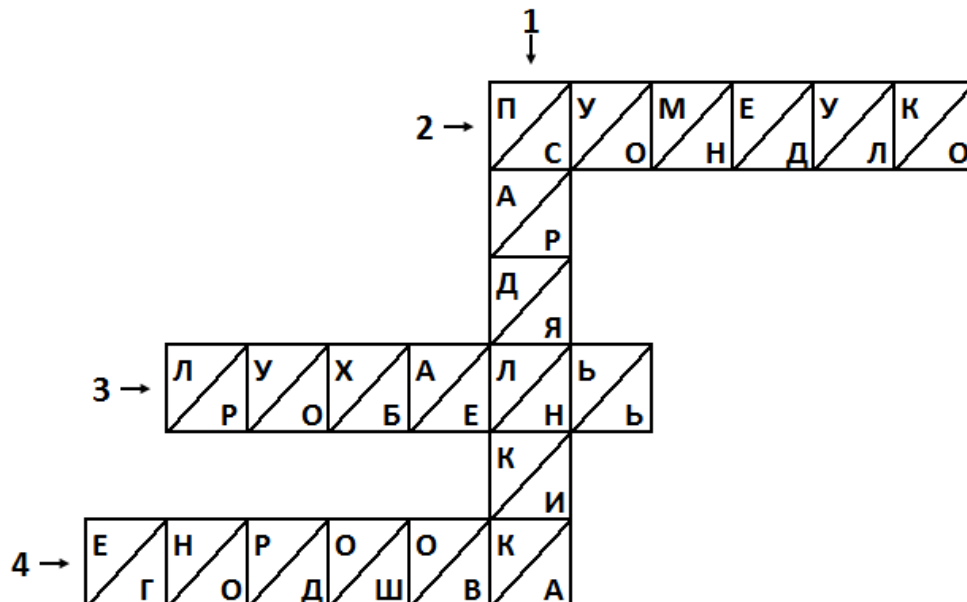
Максимально количество баллов – 8.

1.	Постоянная принадлежность быта русской женщины. Атрибут рукоделия. Предмет быта, имеющий вид плоской широкой лопаты на длинном черенке и предназначался для отправки хлеба или пирога в печь.
2.	Предмет быта, имеющий вид черенка, на конце которого закрепляли сосновые, можжевеловые ветки, тряпье, мочало или хворост. Применялось для чистки золы в печи или уборки возле нее. Место хранения предметов семейного быта. В нем помещались и деньги, и приданое, и одежда, и простые бытовые мелочи.
3.	Круглая или продолговатая деревянная посуда с невысокими краями, предназначенная для стирки белья, мытья посуды, сливания воды. Предмет домашнего быта, который в старину русские женщины использовали для

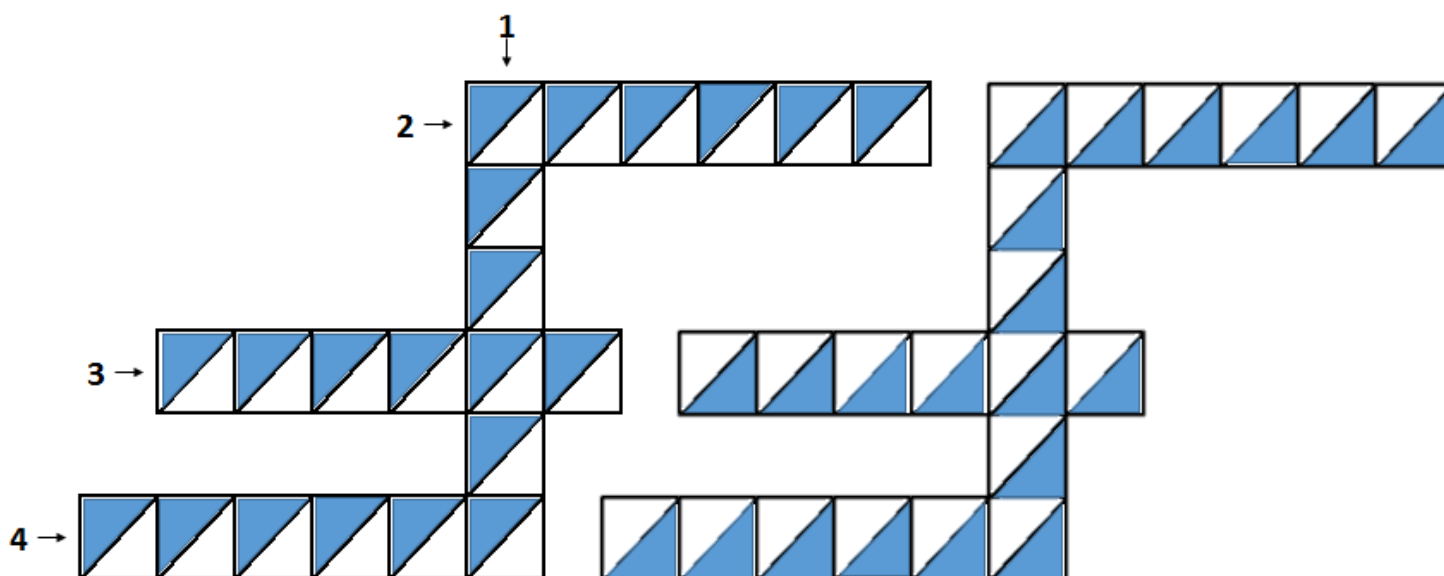




	глажения белья после стирки.
4.	Главный кухонный сосуд на Руси. Деревянная или металлическая чаша в виде ладьи с носиком для слива.



Сетки кроссвордов для ответов





Раздел 5. Хронология

В разные годы своей истории Тугулымский край входил в состав различных административных образований. Предлагаем Вам восстановить хронологию событий, связанных с разными административными реформами, происходящими в России и Советском Союзе. Для этого в таблицу напротив даты поставьте номер соответствующего события.


*Каждое верно составленное соответствие (дата – событие) оценивается в 1 балл.
Максимально количество баллов – 11.*

СОБЫТИЯ:

1. В Сибири вместо губерний были учреждены наместничества. Тугулымский край вошел в состав Тобольского наместничества.
2. В составе Тюменского округа образован Тугулымский район.
3. Россия поделена на восемь губерний. Наш край вошел в состав Сибирской губернии.
4. Сибирская губерния разделена на три провинции. Среди них – Тобольская провинция. В ее составе был Тюменский уезд, на территории которого находилось село Тугулымское.
5. Сибирь снова разделена на Тобольскую и Иркутскую губернии. Тугулымская волость в составе Тюменского уезда вошла в Тобольскую губернию.
6. Сибирь стала называться «Сибирским царством», были образованы две губернии: Тобольская и Иркутская.
7. Территория Тугулымского края входила в состав Сибирского приказа.
8. Тюменская губерния была упразднена. Ее территория вошла в состав Уральской области.
9. Тобольская губерния переименована в Тюменскую губернию.
10. Тугулымский район вошел в состав Свердловской области.
11. Уральская область разделена на три области. Тугулымский район вошел в состав Челябинской области.

ДАТЫ:

1637 – начало XVIII в.	
1708 г.	
1719 г.	
1764 г.	
1782 г.	
1796 г.	
2 марта 1920 г.	
3 ноября 1923 г.	
17 июня 1925 г.	
1934 г.	
1938 г.	

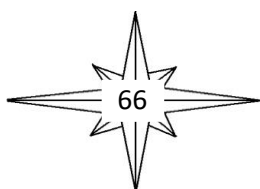




Раздел 6. Открываем новый музей

Представьте, что у Вас появилась уникальная возможность открыть в Тугулымском городском округе новый музей. Подумайте, какой это будет музей, чем он будет интересен нашим землякам и гостям края. Почему именно у нас он должен быть открыт. Где он будет располагаться, насколько будет большим. Какие в нем будут экспозиции, и кто поможет их оформить. Будут ли в вашем музее использоваться новые музейные технологии или вы будете придерживаться традиционных форм работы. Ответы на эти вопросы, а также другие моменты, отражающие Ваше видение нового музея опишите в небольшом рассказе.

Ваше мини сочинение может быть максимально оценено в 10 баллов. Более высокий балл ставится за полноту изложения, оригинальность, реалистичность идеи, грамотность написания текста.





**Задания муниципального этапа олимпиады школьников по краеведению
в Тугулымском городском округе**

Задания для 5-6 классов

2018 год

Блок «История родного края»

В заданиях 1-5 выберите один верный вариант ответа. (Каждое задание оценивается в 2 балла, максимальный балл -10).

1. В 1923 г. была создана Уральская область (с центром в г. Свердловске). 17 января 1934 года Уральская область была разделена на три области: Свердловскую, Обь-Иртышскую и...

а) Курганскую б) Тюменскую в) Челябинскую г) Пермскую

2. В каком году Тугулымский район передан в состав Свердловской области?

а) 1925 б) 1934 в) 1938 г) 1942

3. Гигантом бронетанкового производства в годы войны был ..., пополнившийся оборудованием и персоналом заводов, эвакуированных из Ленинграда, Брянска, Киева. С сентября 1942 до конца 1943 г. он выпустил 731 танк Т-34 и Т-34-85, а также -первые в стране САУ (самоходные артиллерийские установки). Назовите этот завод.

а) Уралвагонзавод б) Уралмаш в) Синарский трубный г) Завод им.Калинина

4. Оборонные предприятия Свердловской области в годы Великой Отечественной войны производили танки, боеприпасы, снаряжение и т.д. Какую технику выпускал один из заводов в Ирбите?


а) мотоциклы б) артиллерийские орудия в) танки Т-34 г) САУ

5. Новый этап в развитии уральской энергетики начался в 1964 г. со сдачи в эксплуатацию первой очереди Белоярской АЭС. На какой реке она расположена?

а) Исеть б) Тура в) Чусовая г) Пышма


6. В таблице описаны известные башни и обелиски Свердловской области, даны их названия и место расположения. В таблице для ответов укажите под цифрой описания буквы соответствующего названия и населённого пункта. (За каждое верное соответствие – 2 балла, максимальный балл – 20).

1	Пограничные места уже несколько столетий принято помечать памятниками. В 2008 году, был установлен новый обелиск: тридцатиметровый столб из красного гранита с орлом на вершине, а старый перенесен немного ниже к источнику воды. Но популярностью пользуются	А	Сторожевая башня	а	Недалеко от Первоуральска
---	--	---	------------------	---	---------------------------





	оба этих памятника: к старому ездят за родниковой водой (вблизи от обелиска находится источник), а к новому за красивыми фотографиями и яркими впечатлениями.				
2	...башня известна далеко за пределами Урала – ее история окутана множеством легенд, в ней есть немало уникальных инженерных и строительных изобретений. На верхних трёх этажах, расположенных в восьмигранных ярусах, находятся привезённые из Англии часы-куранты с колоколами. Говорят, именно в этой башне, Демидовы плавил золото и серебро, выпуская монеты.	Б	Пограничный столб между Тобольской и Пермской губерниями	б	Нижняя Синячиха
3	Эта высокая деревянная башня служила для наблюдения за пожарами. Ее высота - 35 метров. Это первый экспонат музея под открытым небом. Башню перевезли в 1979 году из поселка Красногвардейский Артемовского района. Верхушку башни венчает флюгер с цифрами «1928-79». Они означают дату постройки и дату переноса сооружения.	В	Башня «Исеть»	в	Невьянск
4	Столб был из кирпича, с гербами двух губерний. Он был испещрен именами ссыльных и каторжан, нацарапанными на штукатурке. Здесь прощались с Россией, отсюда начиналась неведомая и враждебная Сибирь. В 2008 году памятник восстановлен.	Г	Наклонная башня	г	Екатеринбург
5	52-этажный небоскрёб высотой 209 м. Внешне он выглядит как цилиндр с декоративной короной медного цвета, пока является самым высоким зданием в России (только в Санкт-Петербурге скоро будет выше). Между этажами ходят 6 скоростных лифтов. На башне смонтирована система подсветки, которая позволяет создавать изображение на фасаде.	Д	Обелиск на границе Европы и Азии	д	В 18 км. от Тугулыма





Ответы:

Памятники	1	2	3	4	5
Названия					
Населённые пункты					


7. На фотографиях вы видите юбиляров 2018-2019 уч. года.

Напишите их фамилию, имя, отчество. Укажите место рождения, чем знамениты эти люди. Поделитесь всем, что вы знаете о них. За полный ответ – 10 баллов.

7.1 _____



7.2 _____



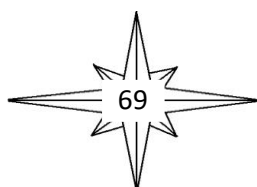
8. Герб и флаг Свердловской области приняты в 2005 году. Впишите в таблицу цвета флага нашей области в соответствии с их символами. (3 балла)

Цвет	Символизирует:
	чистоту, мудрость, а также снега и воды
	постоянство, преданность и мир
	цвет весны, обновления жизни, процветания и стабильности

9. Прочитайте описание полного герба Свердловской области и вставьте недостающие слова. (7 баллов)

В червленом поле серебряный восстающий _____, держащий передними лапами золотую _____, положенную в столб оперением вверх.



Щит увенчан золотой императорской _____. Щит поддерживают золотые _____, держащие поставленные в столб _____ в цвет флага Свердловской области с золотыми древками, бахромой, наверхиями и подтоками, стоящие на подножии из золотых _____ ветвей, перевитых червеной лентой с золотыми каймами, на которой серебряными буквами начертан девиз « _____ »





Блок «Биология и охрана окружающей среды в родном крае»

10. Решите кроссворд (максимум – 20 баллов)





По горизонтали: 6. Какие животные, встречающиеся на территории нашего района, вместе с норами в высоких берегах иногда строят хатки как бобры? 7. Этот овощ богат различными витаминами, особенно – группы В. В нем много микроэлементов – солей марганца, железа, калия, кальция, кобальта. За счет последнего обладает противоопухолевым действием. По содержанию йода – первое место среди овощей. Что это за овощ? 9. Про какое дерево ученые-археологи говорят, что оно было первым хлебным деревом? 11. Как называют медведей, которые из-за малой упитанности в связи с недостатком корма, не залегают в берлогу? 13. В старину это растение считалось волшебным. Набивая детям матрацы, к соломе добавляли эту травку, чтобы запах ее ограждал ребенка от испуга во сне. В народе это растение называют травой от 99 болезней. 15. Стройным и гибким телом напоминает горностая. Очень кровожадный хищник: длина его тела – 13-28 см и при этом он охотится за зайцами и куропатками. Что это за хищник – обитатель Урала? 17. Этот зверек из отряда грызунов любит хвойные леса. Его основной корм – семена хвойных деревьев. Если основного корма – шишек - не хватает, то в пищу идут грибы, ягоды, насекомые, иногда – лишайники, кора деревьев, яйца птиц. О каком зверьке идет речь? 18. Как называются плоды можжевельника? 20. Это растение – сильное лекарственное средство. Известно, что североамериканские индейцы своих больных туберкулезом надолго помещали в заросли этого растения, не позволяя выходить оттуда до полного излечения. На Руси его считали еще и обеззараживающим: его ветвями окуривали дома, хлева при любой инфекции.

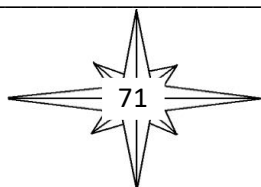
По вертикали: 1. Какое дерево шло на изготовление рогож, веревок, коробов, кулей? При этом изводились целые леса на эти цели. 2. В молодости зеленой бывает, состарится – черной становится. 3. Очень красив этот зверек зимой: своей белой шкуркой он соперничает с белизной снега; отчетливо выделяются только черный конец хвоста, нос и бусинки глаз. Кто он? 4. Какое дерево тонет в воде? 5. Это растение в христианской мифологии – горячие слезы Богородицы, которые она проливала, стоя у креста распятого сына. Слезы эти падали на землю и превращались в чистые прекрасные цветы, которые, отцветая, становились красными, похожими на кровь плодами. 8. Этот хищник живет до 7 лет, относится к промысловым. Его называют хитрым, видимо не случайно, так как охотникам попадают в основном только молодые животные (до двух лет). Назовите этого хищника. 10. Какое дерево, произрастающее на территории Тугулымского района, у славянских, прибалтийских и германских народов считалось символом света, сияния, чистоты, женственности, иногда – деревом начала? 12. Эта птица в полете может петь непрерывно до 30 минут, репертуар звуковых сигналов ее очень разнообразен. Назовите птицу. 14. Животное из семейства куньих – большой домосед: на одном месте живет несколько лет. Для леса полезен: уничтожает массу вредителей, особенно личинок майского хруща. Назовите его. 16. Какая птица раньше всех покидает наши широты? 19. Какое животное живет 8 – 10 лет, но бодрствует из них в общей сложности около 2-х лет?

Блок «География»

11. Вставьте название реки. (1 балл)

Более 15,5 тыс. рек и 2,5 тыс. озер украшают ландшафт Среднего Урала. Самые большие реки — Тавда, Тура, Исеть несут свои воды в бассейн Оби. К бассейну Камы относится одна из красивейших горных уральских рек — _____.

12. В Тугулымском районе реки относятся к бассейнам рек Пышма и Тура. Назовите реки, относящиеся к бассейну Туры. (3 балла)





13. В таблице найдите соответствие между полезными ископаемыми Свердловской области и их месторождениями. В таблице для ответов под цифрой полезного ископаемого поставьте букву соответствующих месторождений. (7 баллов)

	Полезные ископаемые		Месторождения
1	железные руды	А	г. Асбест
2	рудами цветных металлов	Б	Березовские месторождения и др.
3	асбест	В	Высокогорское, Гороблагодатское, Качканарское месторождения
4	талък	Г	Село Мурзинка, Адуйские копи и Липовские карьеры
5	драгоценные металлы	Д	рабочий поселок Шабровский
6	изумруды	Е	бокситы Североуральска, медные руды Красноуральска, Кировграда, Дегтярска
7	самоцветные и поделочные камни	Ж	рабочий поселок Малышево

Ответы:

1	2	3	4	5	6	7

14. Какие части Уральских гор представлены на территории Свердловской области? (2 балла)

- а) Приполярный Урал б) Полярный Урал в) Северный Урал
г) Средний Урал д) Южный Урал

15. Наивысшая точка Свердловской области? (1 балл)


- а) г. Ямантау б) г. Народная
в) г. Конжаковский камень г) г. Денежкин камень

16. В какой части Свердловской области находится Тугулымский район? (1 балл)

- а) Северо-восточной б) юго-восточной в) юго-западной г) северо-западной

17. В Тугулымском районе открыто немало памятников, посвящённых разным историческим событиям, людям и, даже населённым пунктам. Напишите о любом памятнике в вашем населённом пункте или рядом с ним, а может, Вы побывали на экскурсии или торжественном мероприятии у памятника, или совершили к нему поход, и он Вам очень запомнился. Укажите, почему это место так важно для Вас и жителей района.

Объём - не более 20 предложений. Придумайте заголовок. При написании мини-сочинения пользуйтесь черновиком. Чистовой вариант перепишите в бланк. Постарайтесь не допускать ошибок. Максимальный балл за задание - 15.





2019 год

Блок «География»

1. Для знакомства с родным краем мы идём в поход, экспедицию. Кроссворд на тему:



1. Заплечный мешок для вещей.
2. Прибор для определения направления пути.
3. Множество деревьев.
4. Походный дом.
5. Посуда для приготовления пищи на костре.
6. Походный музыкальный инструмент.

В выделенном столбике: огонь, согревающий туристов.

(Максимальное число баллов -7).

В заданиях 2-6 выберите верные варианты ответа. Каждое задание оценивается в 1 балл. Максимальное число баллов -7.

2. Назовите самую высокую вершину Урала

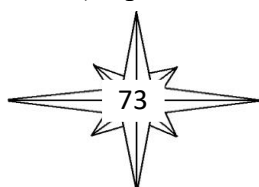
- а) г. Народная
- б) Денежкин камень
- в) Серебрянский камень
- г) Конжаковский камень

3. Назовите район Свердловской области, с которым у Тугулымского района самая малая по протяженности граница.

- а) Слободо-Туринский
- б) Ирбитский
- в) Байкаловский
- г) Талицкий

4. Назовите район Свердловской области, с которым Тугулымский район не имеет общей границы.

- а) Слободо-Туринский
- б) Ирбитский





в) Байкаловский

г) Талицкий

5. Назовите области, с которыми граничит Тугулымский район:

а) Тюменская

б) Челябинская

в) Оренбургская

в) Курганская

6. Некоторые участки границы Тугулымского района проходят по рекам. По какой реке проходит самый длинный участок границы?

а) Канырка;

б) Бочанка;

в) Балда;

г) Межница.

Этот участок границы находится на:

а) севере района;

б) юге района;

в) востоке;

г) западе.


7. Назовите 6 населённых пунктов Тугулымского района, которые расположены вдоль реки Пышмы. (Максимальное число баллов за вопрос -6).

Блок «Биология и охрана окружающей среды в родном крае»

8. В горизонтальных строках «спрятались» названия птиц. Для того, чтобы их узнать, нужно поставить буквы в определённом порядке и вписать их в свободные клетки на этой же строчке. Помогут тебе описания этих птиц. (Максимальное число баллов за задание -6).

1	Ж	Т	И	С	Р					
2	О	Н	В	Р	О					
3	К	Е	С	Б	А					
4	Т	О	У	К	Л					
5	Л	Е	Я	Т	Д					

1. Какие птицы весь день проводят в воздухе, забираясь на высоты, где их с земли не видно и спать могут тоже в воздухе, летая кругами?
2. Эти птицы считаются одними из самых умных в мире, и часто становятся героями песен, легенд, сказок. В одних сказках он показан как мистический предвестник беды, в других он мудрый советник.
3. Длинный и тонкий клюв, немного сплюснутый на конце, позволяет этой птице добывать себе пищу, захватывая им червей и мелких насекомых. Клюв даже способен незначительно выгибаться, чтобы достать труднодоступную пищу. Ножки птицы тоже длинные и тонкие, позволяют ему легко и проворно передвигаться по песку, высокой траве, мелководью и болотистой местности.





4. Хорошо плавающая утка. Обитает на лесных озерах и чистых реках. Гнезда устраивает в дуплах, иногда - в нишах среди камней, под корнями недалеко от воды. Занесена в Красную книгу Свердловской области, встречается в национальном парке "Припышминские боры".
5. Какая птица выдалбливает клювом дупло в дереве для гнезда?

По диагонали: Удивительно ловкая птица, хищник. Свою добычу с воздуха он может увидеть за километр. С давних пор люди научились приручать эту сильную птицу, и по сей день птицы остаются самыми верными и преданными охотнику друзьями, чем и отличаются от других хищных птиц.

За правильно выполненные задания 9-10 максимальное число баллов -4.

9. Укажите два растения из Красной книги Свердловской области, которые растут на территории Национального парка «Припышминские боры»:


- | | |
|-----------------------------|--------------------------|
| а) зверобой продырявленный; | б) багульник болотный; |
| в) вереск обыкновенный; | г) гвоздика иглолистная. |

10. Это растение в Древней Руси использовалось для выработки тканей, и даже специально выращивалось на полях. Этому прядильному растению посвящена одна из поэтических сказок Андерсена. Назовите растение и название сказки.

Блок «История родного края»

В задании 11 запишите верные ответы, каждый ответ оценивается в 2 балла

11. Как ты думаешь, какие части избы имеют такое название:



КОНЁК -


НАЛИЧНИК -

КРЫЛЬЦО -

ЗАВАЛИНКА -


ИЗГОРОДЬ (у дома) -

(Максимальное число баллов за задание – 10)





12. Слова «око» (глаз) и окно очень похожи по звучанию. Как ты думаешь, такое совпадение случайно? А есть ли на твой взгляд сходство в устройстве и назначении глаза и окна? Напиши своё мнение. Дай название своей работе. При написании мини-сочинения пользуйтесь черновиком. Чистовой вариант перепишите в бланк. Постарайтесь не допускать ошибок. (Максимальное число баллов за задание – 10)



В заданиях 13-17 выберите один верный вариант ответа. Каждое задание оценивается в 1 балл. Максимальное число баллов за задание – 5.

13. Памятник исчезнувшей деревне был установлен и открыт в Туğулымском районе 6 октября 2018 года. Какой деревне установлен этот памятник?

- а) Гавань;
- б) Корявка;
- в) Удино;
- г) Крутиха.

14. Первый номер районной газеты вышел 18 июля 1931 года. За всё время своего существования газета сменила три названия. Отметьте название, которого никогда не было у газеты Туğулымского района.

- а) Ударный труд;
- б) Красная звезда;
- в) Сталинское знамя;
- г) Знамя труда.

15. В 1939 году наш земляк получил звание Герой Советского Союза. Назовите его:

- а) Белопухов Е.С.;
- б) Метелёв В.П.;
- в) Теплоухов М.С.;
- г) Федюнинский И.И.

16. За участие в каком сражении он был отмечен такой высокой наградой:

- а) Оборона Севастополя;
- б) Сражение у реки Халхин-Гол;
- в) Сталинградская битва;
- г) Курская битва.

17. В 1944 году уроженец п. Туğулым, начальник штаба 56 танковой бригады, получил звание Героя Советского Союза за успешные боевые действия при форсировании Днепра и освобождение Киева. О каком Герое идет речь?

- а) Белопухов Е.С.;
- б) Метелёв В.П.;
- в) Теплоухов М.С.;
- г) Федюнинский И.И.

В заданиях 18-20 напишите верный вариант ответа. Каждое задание оценивается в 1 балл. Максимальное число баллов за задание – 3.



18. В годы войны Ертарский стеклозавод выпускал бутылку по 10-12 млн. штук в год и посуду. В 1942 году с появлением стекловаренной печи завод стал выпускать новый вид продукции. Что выпускал стеклозавод?

19. Этот человек - наш земляк, был председателем колхоза в д.Троицкое, а в годы Великой Отечественной войны стал известным снайпером. Назовите его:

20. В 1954 году возобновил свою работу районный Дом пионеров. Его возглавил участник прорыва блокады Ленинграда, освобождения Прибалтики, Польши, взятия Кенигсберга и проработал на этой должности до пенсии. Его называли: «Ровесник комсомола». Он очень многое умел: занимался резьбой по дереву, чеканкой, красиво рисовал, писал стихи. Был руководителем кружков в Доме пионеров по судо- и авиамodelьному спорту, мото, картингу, шахматного, фотокружка, драматического кружка. Назовите его.

21. В Гилёвской школе в разное время учились два будущих Героя Советского Союза. *Выберите два верных варианта ответа. Каждый ответ оценивается в 1 балл. Максимальное число баллов за задание – 2.*

а) Белопухов Е.С.;
в) Теплоухов М.С.;

б) Метелёв В.П.;
г) Федюнинский И.И.





**Задания для 7-9 классов
2017 год
Блок «История родного края»**

В заданиях 1-7 выберите один верный вариант ответа. Каждое задание оценивается в 1 балл

1. Кто из краеведов активно поддерживает и способствует развитию спортивных единоборств в Тугулымском районе и является автором сборника «Краеведческий ларец: памяти именитых земляков. Турнир самбо им. И.И. Федюнинского»?

- а) З.Г. Багаева б) В.В. Сидоров в) Л.Т. Поротников г) Г.А. Кайгородов

2. Один из ранних выпусков «Краеведческого ларца» назывался...?

- а) «Путеводитель по музеям Тугулымского района» б) «Путеводитель по достопримечательностям Тугулымского района»
в) «Путеводитель по Тугулымскому району» г) «Путеводитель по историческим местам Тугулымского района»

3. Кто из краеведов систематизировал краеведческие сведения, имеющиеся в очерках районной газеты «Знамя труда»?

- а) З.Г. Багаева б) В.В. Сидоров в) Л.Т. Поротников г) Г.А. Кайгородов

4. Когда был открыт музей истории народного образования в Доме пионеров (сейчас Тугулымский ЦДТ)?

- а) 16 апреля 1963 г. б) 16 апреля 1973 г. в) 16 апреля 1983 г. г) 16 апреля 1993 г.

5. Как называется историческая дисциплина, занимающаяся изучением прошлого человечества по сохранившимся вещественным источникам?


- а) археология б) генеалогия в) музеология г) бонистика

6. Где в Тугулымском районе располагается памятник «Пограничный столб «Россия – Сибирь»?

- а) в п. Тугулым б) на старом Сибирском тракте
в) в национальном парке «Припышминские боры» г) на федеральной трассе Екатеринбург-Тюмень

7. Что означает слово «четь», употреблявшееся в старинных русских документах?

- а) четверть б) честь в) нечесть г) четверг





В задании 8 и 9 запишите верные ответы, каждое задание оценивается в 5 баллов

8. Прочитайте фрагмент из очерка Г.А. Кайгородова «Ямские охотники»:

... Деревня Верховина основана и заселена выходцами из **Великоустюжского уезда**. Основателем и первопоселенцем деревни был Михаил Васильевич Тишинский, получивший «данную» на землю в 1670 г. Все другие жители деревни: ямщики и крестьяне такую «данную» получили позднее, в том числе и брат первопоселенца Сава Васильевич Тишинский, прибывший в Сибирь в 1680 г. В 1700 г. в деревне было 7 ямщицких семей. В одном из дворов жила семья основателя деревни. Вел свое хозяйство и родной брат его. Оба они «ямской гоньбы» гоняли по «**полтрети выти**». На подворье старшего брата было 4 лошади, 5 голов крупного рогатого скота и 3 овцы. «**Собинной пашни** он пахал 3 **десятины** в поле, а в дву по тому ж», **залежной земли**, пустоши за ним было 15 **десятин**, сенокосных угодий на 150 копен. По общепринятой классификации это была зажиточная семья...

Переведите на современный язык слова и фразы:

Великоустюжский уезд (где это место расположено, в какой части России)


Полтрети выти (объяснить сколько) _____

Собинная пашня _____

Залежная земля _____

Десятина (сколько гектар) _____

9. Перечислите пять источников (книги, сборники, сайты и др.), в которых можно взять сведения о географии, природе, истории Тугулымского района.





В задании 10 напишите небольшой очерк по фотографии, задание оценивается в 13 баллов

10. Рассмотрите фотографию, на ней известный уроженец Тугулымского района:




Составьте связный очерк: фамилия, имя, отчество, где родился, участник событий, какими орденами, медалями награжден, где жил, как память о нем сохранена.



Блок «География родного края»

В заданиях 1-7 выберите один верный вариант ответа. Каждое задание оценивается в 1 балл

1. В каком населенном пункте в школе был открыт первый школьный музей?
а) п. Тугулым б) п. Юшала в) п. Луговской г) с. Верховино
2. Постройка какой дороги послужила причиной снижения значимости Сибирского тракта?
а) Транссибирская железнодорожная магистраль б) Великий шелковый путь
в) Бабиновская дорога г) Великий чайный путь
3. В состав какой волости в 19 веке входили деревни Лучинкина, Филина, Золотая?
а) Тугулымская волость б) Успенская волость
в) Червишевская волость г) Фоминская волость
4. Какой населенный пункт раньше входил в состав Тугулымского района?
а) с. Усть-Ница б) с. Успенка в) с. Липчинское г) с. Каменское
5. Возле какой реки появились деревни Яр, Демина, Коркина, Кила?
а) Айба б) Пышма в) Тугулымка г) Кармак
6. Какое озеро Тугулымского района расположено на острове Васильевском?
а) оз. Тунгаш б) оз. Саковское в) оз. Термигуль г) оз. Гурино
7. Какое лиственное дерево из перечисленных ниже в лесах Тугулымского района является самым редким?
а) Береза б) Осина в) Липа г) Ольха





В заданиях 8 и 9 запишите верные ответы, каждое задание оценивается в 5 баллов

8. Прочтите внимательно фрагмент очерка Л.Т. Поротникова «Озера». В нем пропущено пять названий. Восстановите пропуски:

...Еще несколько тысяч лет тому назад наш край изобиловал озерами. Многие из современных болот сразу после завершения последнего _____ (название этапа, периода, в геологической эпохе), примерно 15 тысяч лет назад, были озерами с чистой холодной водой, раскинувшимися на просторах обширной _____ (природная зона). Чем более теплый формировался климат, тем интенсивнее зарастали озера, превращаясь в настоящие болота. К примеру, еще в начале прошлого века на севере района существовало _____ озеро (название озера, которое сейчас стало болотом), рядом стояла деревня с таким же названием. Огромное в настоящее время _____ болото (название большого болота на территории Тугулымского района) в недалеком прошлом также было озером. Подтверждением тому являются не только передающиеся из поколения в поколение воспоминания людей, но и реальные предметы, обнаруженные на многих болотах, где велась разработка и добыча _____ (название полезного ископаемого), например, долбленные из дерева старинные лодки...


9. Расположите в географические объекты в указанном порядке:

По увеличению численности населения Тугулым, Юшала, Зубкова, Верховино

По увеличению протяженности р. Айба, р. Кармак, р. Юшала, р. Балда

по расположению с юга на север п. Ертарский, с. Зубкова, п. Юшала, с. Яр

по удаленности от п. Тугулым оз. Гурино, п. Заводоуспенский, р. Пышма, граница с Тюменской областью





В задании 10 напишите небольшой очерк по фотографии, задание оценивается в 13 баллов

10. На фотографии место на территории национального парка «Припышминские боры».



Составьте связный очерк: название места, озера, какой склон на берегу, описание, охраняемый статус, географическое расположение, история и сегодняшний день.

Блок «Биология и охрана окружающей среды»

В заданиях 1-7 выберите один верный вариант ответа. Каждое задание оценивается в 1 балл

1. Какая из книг (сборников) не относится к краеведческим источникам о природе Тугулымского края?

- | | |
|---|---|
| а) сборник З.Г. Багаевой
«След на земле» | б) сборник В.К. Светашова «Гнездовый период птиц Тугулымского района» |
| в) книга Л.Т. Поротникова
«Летопись Тугулымского края» | г) книга В.В. Торопова
«50 лет Тугулымскому лесхозу» |

2. Как называется экологическая акция помощи ветеранам?


- | | |
|----------------------------|------------------------------|
| а) Чистый двор – ветеранам | б) Чистая вода – ветеранам |
| в) Чистый дом – ветеранам | г) Чистый воздух – ветеранам |

3. Какая из птиц, перечисленных ниже относится к отряду курообразных?

- | | | | |
|---------|-----------|------------|----------|
| а) Гусь | б) Гоголь | в) Глухарь | г) Галка |
|---------|-----------|------------|----------|

4. Какое растение **нельзя** встретить на берегу Ветлацихинского пруда?

- | | | | |
|----------|-----------|-----------------|----------------|
| а) Сосна | б) Вереск | в) Можжевельник | г) Лиственница |
|----------|-----------|-----------------|----------------|





5. Какой из памятников природы является самым молодым в районе. Этот статус он получил позже всех – в 1999 году.

- а) Лагушинский бор
в) Ветлацихинский пруд
- б) Авраамов остров
г) озеро Гурино

6. Какая рыба появилась в водоемах нашего района благодаря деятельности человека по их выведению и расселению?

- а) карп
б) судак
в) сырок
г) сазан

7. Какое живое существо носит название *прытка*?

- а) птица
б) рыба
в) ящерица
г) лягушка

В задании 8 и 9 запишите верные ответы, каждое задание оценивается в 5 баллов

8. Прочтите внимательно фрагмент очерка Л.Т. Поротникова «Съедобные плоды и ягоды». В нем искажено пять фактов. Найдите эти ошибки и восстановите текст.

«...В наших краях произрастает свыше двадцати видов съедобных плодов и ягод. Непревзойденная по вкусу и запаху земляника растет повсеместно в лесах, полях, болотах...


Достаточно много в наших краях малины, смородины, облепихи, черемухи, шиповника и других плодов и ягод. Есть и редкие виды: голубика, морошка, клюква, жимолость.

Плодово-ягодные растения произрастают в лесах, на болотах, на степных и луговых пространствах, по поймам рек и ручьев. Являются объектами сбора плодов и хвойные растения: сосна сибирская, дающая грецкие орехи, вереск со своими «шишко-ягодами»...»

Одна ошибка в первом абзаце

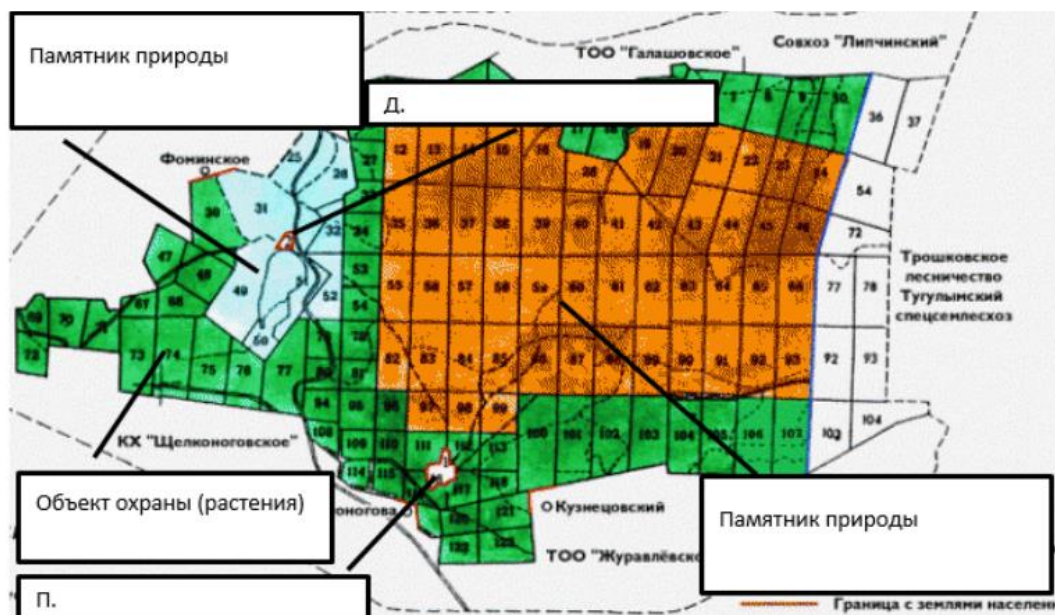
Две ошибки во втором абзаце

Две ошибки в третьем абзаце





9. Укажите названия объектов Тугулымской дачи национального парка «Припышминские боры».



Примечание: Объект охраны (растения) – назвать одно охраняемое растение


В задании 10 выполните творческую работу, задание оценивается в 13 баллов

10. 5 июня проводится Всемирный день окружающей среды. Он является самым масштабным ежегодным событием, посвящённым охране природы. В нашем районе в этот день юные туристы проводят разные экологические акции. В 2017 году девизом Всемирного дня окружающей среды стал слоган «Я с природой». Поделитесь с нами небольшой историей о том, что вы получаете от природы и какую помощь ей оказываете. Сделайте заголовок к рассказу и наполните его краеведческими фактами.



Блок «Предметы русского быта»

Заполните клетки кроссворда, вписав названия предметов русского быта. Задание оценивается в 10 баллов



По горизонтали: 2. Название русской сказки «Каша из...»

5. Вначале было рало, потом – соха, позже появился ...

6. В небо дыра, В землю дыра, А посередине — огонь и вода (загадка)

8. Был бы ... да было б в ..., а покрышку найдем. (скороговорка)

9. Первой взлетела на дворницкой Маргарита. За нею поднялся Азazelло. (М. Булгаков «Мастер и Маргарита»)

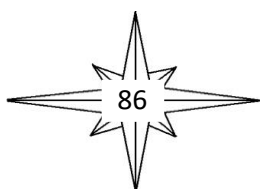
По вертикали: 1. «Там ... с бабою Ягой идет, бредет сама с собой» (А.С. Пушкин)

3. Символ сложной, трудоемкой работы, а также медлительности в ваших делах. Ехать во сне на ..., дорога к результату будет долгой и трудной, и не факт, что оправданной. Сломанная ..., к неприятностям на работе. (из толкователя сновидений)

4. Две косы и рядом, и в кучке, а две ... – никак (пословица).

6. «Вместо шляпы на ходу он одел ...» (С. Маршак «Вот какой рассеяный»)

7. В сказке «Спящая красавица» принцессе было сделано предупреждение, что если она уколет палец о ..., то умрет.





2018 год

Выберите один верный вариант ответа

1. В конце 19 - начале 20 веков после административных реформ Тугулымский район назывался так: (- 1 балл)
а) Тугулымский уезд б) Тугулымская слобода в) Тугулымская волость
2. Назовите реку, которая не впадает в р.Пышму: (- 1 балл)
а) р.Айба б) р.Балаир в) р.Липка г) р. Тугулымка
3. Назовите реку, вдоль которой начали селиться русские люди со стороны Тюмени? (1 балл)
р.Липка р.Кармак р. Айба р. Корявка
4. Назовите не менее 3-х поселений Тугулымского района, основанных старообрядцами. (макс. - 3б)

5. Работы по поиску и восстановлению памятного пограничного столба "Россия - Сибирь" уложились в этот период: (2 балла)
а) сентябрь 2006г. - ноябрь 2006г; б) июнь 1996г. - декабрь 1997г;
в) март 1996г. - ноябрь 2006г.; г) июль 1997г. - август 2003г

6. Соотнесите следующие географические город и реку, на которой он расположен:

Город	Река
Ирбит	
Верхотурье	
Камышлов	
Алапаевск	
Каменск-Уральский	
Первоуральск	
Ивдель	


реки: Исеть, Нейва, Ница, Чусовая, Пышма, Тура, Лозьва - 7 баллов

- 7а). Напишите, о каком транспортном пути говорится в следующих фразах: «Кандальный тракт», «Московский тракт», «Московско-Иркутский тракт»? - 1балл

- 7б) Бабиновская дорога - важнейший путь, соединявший Европейскую часть России и Сибирь до середины XVIIIв. разведена и проложена крестьянином Артемием Бабиновым в 1595-1597гг. Что соединяла эта дорога? - 2 балла

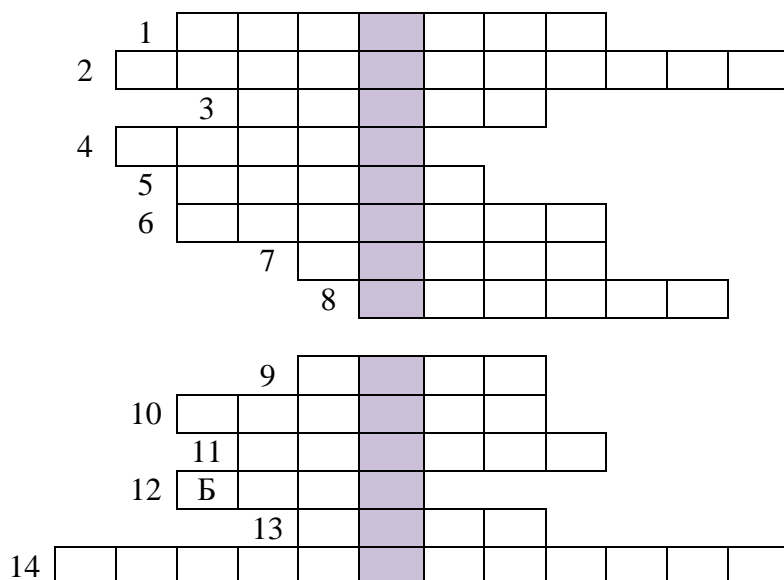
- а) города Пермь и Тобольск; б) города Соликамск и Верхотурье;
в) города Хлынов (Вятка)и Ирбит; г) заводы Уктусский и Нижнетагильский

8. В Тугулымском районе есть памятник, являющийся единственным в Свердловской области. Где расположен такой памятник? Когда он открыт? Чему посвящён? (3балла).






9. Отгадайте кроссворд «БИОЛОГИЯ И ОХРАНА ОКРУЖАЮЩЕЙ СРЕДЫ», после этого ответьте на вопросы ниже. (максимальное количество баллов - 21)



1. Грызун, ведущий полуводный образ жизни, с длинным хвостом. Повсеместно распространен.
2. Хвойное дерево, на зиму сбрасывающее листву; практически не поддается гниению
3. Вид медведя, обитающего в наших лесах.
4. Хвойное дерево с очень мягкой и душистой хвоей.
5. Крупное промысловое животное с короткими ногами, тело которого покрыто упругой щетиной.
6. Рыба семейства лососевых, встречающаяся в реках области, занесенная в Красную книгу России.
7. Хвоя этого дерева - чемпион по содержанию витаминов, фитонцидов и других полезных веществ.
8. Реликтовый вечнозеленый ветвистый кустарник, высотой не более 70 см. Произрастает в сосновых борах по окраинам озер и сфагновых болот. Охраняется в национальном парке "Припышминские боры"
9. Самое крупное животное в наших краях.
10. Единственное животное семейства куньих, на зиму впадающее в спячку; на спине имеет полосы вдоль хребта
11. Животное из отряда грызунов, предпочитает селиться в дуплах. Занесено в Красную книгу Свердловской области.
12. Крупный грызун, способный возводить плотины на водоемах.
13. Опасный хищник, встречающийся повсеместно; может переживать длительные голодовки.
14. Кустарник семейства кипарисовых, имеющий плоды - шишкоягоды.

*В выделенных клетках кроссворда вы получили название охраняемой природной территории. Какой статус она имеет (категория ООПТ)?





* Какие еще особо охраняемые территории из этой категории в Тугулымском районе Вы знаете? _____

* Какие из упомянутых в кроссворде объектов, занесенных в Красную книгу, встречаются в Тугулымском районе? _____

ЛИТЕРАТУРНОЕ КРАЕВЕДЕНИЕ

10. Назовите трёх авторов сборников стихов, жителей Тугулымского района.
(максимальное число баллов 6)

11. Как назывался альманах детского и юношеского литературного творчества, издававшийся в начале 2000-х годов Дворцом молодёжи города Екатеринбург, в котором публиковались работы школьников Свердловской области, в том числе и Тугулымского района: Василия Ласкина, Антона Ращупкина, Дарьи Барышевой, Ксении Шиломенцевой и Анатолия Санникова? (2 балла)

а) Золотое слово б) Серебряное перышко в) Аз, Буки, Веди... г) Проба пера

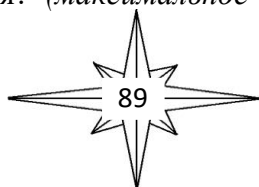
12. Каких писателей и поэтов - жителей Свердловской области, Урала Вы знаете? Назовите до 5 человек. (Каждый правильный ответ - 2балл, до 10 баллов)

13. В приведенном ниже отрывке рассказывается об уральских впечатлениях знаменитого русского писателя. Вставьте пропущенные имена, названия. Каждый правильный ответ - 1 балл (макс. 3б, повторяющееся название учитывается 1 раз)

В апреле 1890 года во время своего знаменитого путешествия на Сахалин (ФИО) заехал и в (город). Здесь он хотел встретиться с писателем (ФИО). Но встреча не получилась: тот в это время сам путешествовал по Уралу. Вот какие записи о своем посещении он оставил: «Приехал в - тут дождь, снег и крупа. Извозчики - это нечто невообразимое по своей убогости. Грязные, мокрые, без рессор; передние ноги у лошади расставлены, копыта громадные, спина тощая. Здешние дрожки - это аляповатая пародия на наши брички. К бричке приделан оборванный верх, вот и все. Ездят не по мостовой, на которой тряско, а около канав, где грязно и, стало быть, мягко. Колокола звонят великолепно, бархатно. Остановился я в Американской гостинице (очень недурной). Здешние люди внушают приезжему нечто вроде ужаса: Скуластые, лобастые, широкоплечие, с маленькими глазами, с громадными кулачищами. Родятся они на местных чугунолитейных заводах, и при рождении их присутствует не акушер, а механик».

14. Об этом месте писали многие, путешествуя по бескрайним просторам России. Так, Георг Кеннан в конце XIX в написал: "Ни с одним пунктом, от С-Петербурга до Тихого океана, не связано В России столько печальных воспоминаний; ни одна местность в России не имеет для путешественника такого интереса, как эта маленькая поляна и этот каменный столб, освященный печалью и людским несчастьем."

Что это за место и где оно находится? (максимальное число баллов 2)






15. Замечательные люди Тугулымского района (10 баллов)

Перед Вами - фамилии замечательных людей Тугулымского района: Багаева Зоя Георгиевна; Колмогоров Александр Васильевич; Корчагин Анатолий Никандрович; Мичуров Иван Романович; Хананова Людмила Ивановна. Впишите их в клетки таблицы, соотнося с информацией во 2 и 3 столбце. (макс. 10 баллов)

Ф.И.О.	Годы жизни	Вклад в развитие Тугулымского района
1.	24.07.1928г - 1992г.	Руководитель Тугулымского отдела культуры с 1968 по 1988гг., с 1988г. руководитель Тугулымского районного краеведческого музея. Инициатор создания народного краеведческого музея в п.Тугулым и музея И.И.Федюнинского в д.Гилёва
2.	28.10.1918г. - 12.05.2007г	Учитель черчения и рисования в Тугулымской средней школе, с 1954 по 1980гг - директор районного Дома пионеров, затем - руководитель судо- и авиамodelьного кружков там же. Рисунки, сделанные его рукой, и поделки хранятся в музейных экспозициях.
3.	10.06.1926 -	Учитель истории Тугулымской средней школы с 1949 по 1981 гг, создатель школьного музея. Создатель нескольких краеведческих трудов об истории Тугулымского района, в т.ч. "Календарь-справочник", "След на земле", "Божий дар".
4.	20.11.1934 г ст.Юшала - 10.12.2005г	Директор Верховинской средней школы с 1966 по 2005гг., инициатор создания показательной учебно-производственной бригады, строительства нового здания школы; член правления совхоза "Октябрьский", депутат районного совета, активный общественный деятель.
5.	15.06.1921г.- 29.01.2006г.	Инструктор кабинета политпросвещения, инспектор отдела культуры, секретарь поселкового совета народных депутатов, организатор и корреспондент редакции газеты "Знамя труда", редактор местного радиовещания. В течение 19 лет - глава районного отделения Фонда мира; активный общественный деятель.

16. ТВОРЧЕСКОЕ ЗАДАНИЕ (максимальное количество баллов - 15)

Напишите небольшое сочинение на тему "Развитие детского и юношеского движения в Тугулымском районе". Учитывается знание предмета, достоверность фактов, изложенных Вами, Ваше отношение к данному вопросу. Приветствуются предложения и идеи на тему: как Вы видите движение детей и молодёжи в настоящем и будущем?





2019 год

Географическое краеведение

1. На каждый вопрос дайте ответ, выбрав из предложенных вариантов ответов соответствующий. Отметьте ответы в поле для ответов: (10 баллов)
- 1.1. Назовите поселение, возникшее в 1623 году на берегу р. Кармак и существующее до сих пор.
 - 1.2. Назовите деревню в северной части района, носившую ранее название Тотникова:
 - 1.3. Назовите деревню, основанную на берегу реки Пышма старообрядцами одной из первых:
 - 1.4. Назовите поселение, основанное татарами и обязанное своим названием географическому местоположению:
 - 1.5. Назовите заводской поселок в юго-восточной части района, расположенный на берегу большого пруда:
 - 1.6. Назовите деревню на берегу озера, образованного в течении реки Липки:
 - 1.7. Назовите поселение, по главной улице которого проходил Большой Сибирский тракт:
 - 1.8. Назовите поселение, являющееся на карте Тугулымского района самой северо-западной точкой:
 - 1.9. Назовите поселение на берегу р. Айба, являющееся самым первым на территории района:
 - 1.10. Назовите поселение, рядом с которым находится памятник природы Ветлачихинский пруд.

Варианты ответов:

- а) д.Зубкова б) п.Тугулым в) д.Гилёва г) д.Остров
д) п.Ертарский е) д.Гурина ж) д.Юшкова з) д.Ивановка
и) с.Яр к) п.Заводоуспенский

Поле для ответов:

Вопрос:	Ответ:	Вопрос:	Ответ:
1.1.		1.6.	
1.2.		1.7.	
1.3.		1.8.	
1.4.		1.9.	
1.5.		1.10.	


2. Выберите и отметьте из предложенных вариантов ответов верный: (5 баллов)

2.1. Регулярные наблюдения за погодой в Тугулымском крае ведутся с...:

- а) 1856 года б) 1913 года в) 1885 года

2.2. Где на территории Тугулымского края самая первая метеорологическая станция 1 класса 2 разряда была создана в июле 1898 года?

- а) в д.Юшковой б) в с.Кармак в) в с.Зубкова





2.3. Где находится открывшаяся 14 октября 1937 года метеостанция, действующая до сих пор?

- а) в д.Потаскуева б) в п.Тугулым в) в с.Верховино

2.4. Климат Тугулымского района относится к этому типу:

- а) континентальный б) горный в) муссонный

2.5. Какое время года является у нас самым продолжительным?

- а) лето б) зима в) весна

Биология и охрана окружающей среды

3. Определите растения и животные Тугулымского района, внесенные в Красную Книгу Свердловской области (10 баллов):

3.1. Редкий вид луковичного травянистого многолетника, охраняемый в НП "Припышминские боры". Называют также саранкой

- а) лилия волосистая б) гусиный лук ненецкий в) лойдия поздняя

3.2. Редкий вид реликтового вечнозеленого кустарничка, охраняемый в НП "Припышминские боры"

- а) вереск обыкновенный б) родиола четырехраздельная в) голубика обыкновенная

3.3. Редкий вид лекарственных растений семейства орхидных, его душистые цветы пахнут только ночью:

- а) венерин башмачок б) любка двулистная в) дремлик болотный

3.4. Редкий вид растений семейства лютиковых, имеющий русское название "горичвет":

- а) адонис весенний б) борец мохнатый в) прострел раскрытый

3.5. Редкое растение семейства Кувшинковые, охраняемое в НП "Припышминские боры":

- а) кубышка желтая б) купальница европейская в) лотос египетский

3.6. Редкий вид грызунов, внесенный в КК СО, встречающийся и в нашем районе:

- а) бурый ушан б) ондатра в) летяга

3.7. Редкий вид птиц отряда соколообразных, охраняемый в НП

- а) Луток б) дербник в) луговой лунь

3.8. Редкий вид птиц отряда ржанковых, семейства бекасовых, охраняется и в соседних регионах


- а) большой кроншнеп б) тундряная куропатка в) лебедь-кликун

3.9. Редкая птица отряда совообразных, охраняемая в НП "Припышминские боры":

- а) большой кроншнеп б) бородатая неясыть в) сплюшка

3.10. Редкая неядовитая рептилия семейства ужеобразных, встречающаяся в НП "Припышминские боры":

- а) ломкая веретеница б) гадюка обыкновенная в) медянка обыкновенная





Литературное краеведение

4. Прочитайте данный отрывок из статьи и вставьте недостающие слова (пояснения к недостающим местам даны в скобках). Каждый правильный ответ - 1 балл

" Литературный клуб Тугулымского района " _____ " (название лит.клуба) отметил недавно _____ - летний (сколько лет клубу) юбилей. Первым председателем литклуба был Киров Николай Александрович, а сегодня его возглавляет любитель поэзии, почетный гражданин Тугулымского городского округа _____ (ФИО). За годы своего существования литературный клуб принял в свой круг более 30 самодеятельных поэтов разных поколений - от заслуженных ветеранов труда до молодых и юных жителей разных сёл района, и выпустил _____ (количество) общих сборника стихов. Некоторые местные поэты выпускают личные, авторские сборники стихов; а широкая общественность может ознакомиться с их творчеством на _____ (название органа печати), где с 2002 года проводится литературный конкурс " _____ " (название литературного конкурса). Активными членами литературного сообщества являются:

_____ (перечислить ФИО).

А стихи самой "почтенной" по возрасту поэтессы _____ (ФИО) "Родное село" положены на музыку местным музыкантом Верхолетовым Ю.Р., и давно звучат со сцены районного Дома культуры, став неофициальным гимном Тугулыма ".

Тугулымский район в годы Великой Отечественной войны.

5. В годы Великой Отечественной войны наши земляки, как и весь народ Советского Союза, защищали и освобождали родную землю от фашистов. Среди защитников из Тугулымского района были 4 Героя Советского Союза и 3 полных кавалера Орденов Славы (все ушли на фронт из нашего района). Ниже даны фотографии 4-х земляков. Необходимо назвать их фамилии, и.о., а также указать высшую награду (звание Героя или кавалер орденов Славы) (Каждый правильный ответ – 2 балла.)




Ответы:

5.1. _____

5.2. _____

5.3. _____

5.4. _____





6.

6.1. В 1943 году в Тугулым приехал представитель одного из Свердловских заводов проводить набор подростков. Из Тугулыма уехало 50 подростков, которые, немного подучившись, стали работать у станков, выполняя каждый свою операцию. Что выпускали подростки? На каком из военных заводов они работали? (2 балла).

6.2. Дополните сведения, вписав в соответствующие поля: (6 баллов).

В 1942 году было принято решение о трудовой и транспортной повинности. Трудовая повинность обязывала всех колхозников, рабочих, служащих, единоличников в возрасте от ___ до ___ лет мужчин и до ___ лет женщин на участие в уборке урожая до 5 октября. К транспортной повинности привлекались _____ старше 3-х лет, _____, _____, принадлежащие колхозам, учреждениям и частным лицам.

Историческое краеведение

7. Перед вами 4 фотографии памятников в Тугулымском районе. Необходимо указать: где этот памятник, какому событию он посвящён. (8 баллов).



7.1. _____
7.2. _____
7.3. _____
7.4. _____

8. Необходимо составить цепочку слов (например: веретено – орало – обочина ...) из следующих понятий: (15 баллов)

8.1. Переносной музыкальный инструмент, ящик на подставке, с размещёнными в нём трубками, мехами и валом, приводится в действие вращением рукоятки.

8.2. Учреждение, собирающее, сохраняющее и обрабатывающее документальные материалы

8.3. Ветки деревьев, отвалившиеся от ствола и валяющиеся на земле.

8.4. Небольшой участок леса в лесостепи, в степи.


8.5. Тяжёлый топор для колки дров.

8.6. Декоративное оформление оконного проёма.

8.7. Большой глиняный сосуд.

8.8. Хозяйственное строение для хранения зерна, муки, имущества.

8.9. Обратная сторона монеты, медали.






- 8.10. В старой России большое село с некрепостным населением, свободным от налогов и повинностей.
- 8.11. Старинная русская монета, в разные времена разного достоинства. В конце 19 века равнялась 3 копейкам.
- 8.12. Болезнь.
- 8.13. Мастер-ремесленник, изготавливающий посуду из глины.
- 8.14. Соха, плуг.
- 8.15. Круглые деревянные жерди для крепления лошадей к саням или повозкам.

Ответ:

9. Творческое задание. Тема - Мои родственники в годы Великой Отечественной войны. Вам необходимо написать небольшое сочинение об одном из ваших родственников (прадеде, прабабушке, ...), которые воевали на фронтах войны или работали в тылу. Необходимо назвать имя, отчество и фамилию, где воевал или работал, был ли награждён, как сложилась его жизнь после войны, каким он был человеком по рассказам родственников и другое. *(Всего – 15 Баллов).*





10-11 классы

2017 год

Блок «История родного края»

В заданиях 1-7 выберите один верный вариант ответа. Каждое задание оценивается в 1 балл

1. Кто является автором краеведческого сборника «История заселения Тугулымского края»?

- а) З.Г. Багаева б) В.В. Сидоров в) Л.Т. Поротников г) Г.А. Кайгородов

2. Какая организация занимается выпуском сборников «Краеведческий ларец»?

- а) Совет краеведов Тугулымского района б) Администрация Тугулымского ГО
в) Тугулымская СЮТур г) Управление образования

3. Кто из краеведов систематизировал сведения о руководителях организаций и предприятий Тугулымского района?

- а) З.Г. Багаева б) В.В. Сидоров в) Л.Т. Поротников г) Г.А. Кайгородов

4. Когда был открыт дом-музей И.И. Федюнинского в д. Гилева?

- а) 9 мая 1965 г. б) 9 мая 1971 г. в) 9 мая 1975 г. г) 9 мая 1981 г.

5. Как называется вспомогательная историческая дисциплина, занимающаяся изучением вышедших из употребления денежных знаков?

- а) археология б) генеалогия в) музеология г) бонистика

6. Что из перечисленного ниже на сегодняшний день включено в перечень объектов культурного наследия местного значения?

- а) Памятник В.И. Ленину в п. Луговской, единственный в районе
б) Памятник погибшим в годы войны в д. Малаховой
в) Мемориальный комплекс на центральной площади п. Тугулым
г) Памятник погибшим воинам в д. Пилигримовой

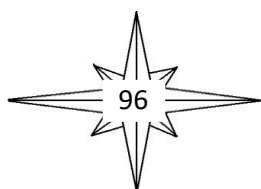
7. Как называется один из древнерусских почерков, появившийся на Руси в 14 в. как сильно упрощенный вариант кириллицы? Широко использовался в документах.

- а) скоропись б) вязь в) глаголица г) руны

В задании 8 и 9 запишите верные ответы, каждое задание оценивается в 5 баллов

8. Прочитайте фрагмент из очерка Г.А. Кайгородова «Ямские охотники»:

... в 1700 г. было принято решение сократить число лиц, занимающихся ямщиной. Соответственно, они лишились всех привилегий и вынуждены были верстаться или в оброчные крестьяне, или в бобыли. ... На территории Тугулымского района были деревни, основанные ямщиками. ... В д. Кокшаровой 10 дворов из 29 принадлежали ямщикам. Из 67 дмп деревни 18 принадлежали к сословию ямщиков....





О д. Юшковой нам уже приходилось говорить. Тогда говорилось, что основателем её был тюменский ямщик Юшко (Юрий) Володин. ... К 1700 г. трое братьев Володиных жили в д. Юшковой, а младший остался в д. Гилёвой. Все они занимались ямщиной. В д. Юшковой братья пахали 13.5 двавдптж, имели 43 дес. залежной земли и пустоши, кортомили у островных жителей сенных покосов на 800 копен.

В д. Тугулымской жил ... пришедший из Исетского острога пономарский сын, поверставшийся в ямщики. Ямской гоньбы за ним было «полчети выти». 7 дес. Заложной земли его находилась против д. Верховиной, а сенные покосы за р. Пышмой, возле рчк Кармак. Нелегка была и жизнь ямщиков. Но трудолюбие и самоотверженность русских ямщиков позволяли им обеспечивать экономически прочное состояние семей. ...

Переведите на современный язык слова и фразы:

Бобыль _____

Дмп _____

Кортомить _____

Пономарь _____

Полчети выти _____

9. Перечислите пять источников (книги, сборники, сайты и др.), в которых можно взять сведения об уроженцах Тугулымского района – участниках Великой Отечественной войны.

В задании 10 напишите небольшой очерк по фотографии, задание оценивается в 13 баллов

10. Рассмотрите фотографию, на ней известный уроженец Тугулымского района: Составьте связный очерк: фамилия, имя, отчество, где родился, участник событий, какими орденами, медалями награжден, где жил, как память о нем сохранена.



Блок «География родного края»

В заданиях 1-7 выберите один верный вариант ответа. Каждое задание оценивается в 1 балл

1. В каком населенном пункте есть музей?


- а) д. Мальцева б) д. Гилева в) д. Юшкова г) д. Ядрышникова

2. Какая из дорог никогда через Тугулымский край не проходила?

- а) Транссибирская железнодорожная магистраль
б) Федеральная трасса Москва - Владивосток
в) Сибирский тракт
г) Бабиновская дорога

3. В состав какой волости в 19 веке входили деревни Кокшарова, Скородумская, Рябова, Мальцева, Гилёва?

- а) Тугулымская волость б) Успенская волость
в) Червишевская волость г) Фоминская волость





4. Какой населенный пункт, имевший в прошлое время административное значение, сейчас находится на территории Тугулымского района?

- а) с. Усть-Ница б) д. Фоминская в) с. Липчинское г) с. Каменское

5. Возле какой реки осваивали поля основатели деревень Голышевой и Розмазиной Игнатий Иванович Голышев и Дмитрий Розмаз?

- а) Айба б) Липка в) Тугулымка г) Кармак

6. Какое озеро Тугулымского района расположено в центре одноименного болота?

- а) оз. Тунгаш б) оз. Саковское в) оз. Термигуль г) оз. Гурино

7. Какое лиственное дерево из перечисленных ниже в лесах Тугулымского района является самым распространенным?

- а) Осина б) Липа в) Ольха г) Ива

В задании 8 и 9 запишите верные ответы, каждое задание оценивается в 5 баллов

8. Прочтите внимательно фрагмент очерка Л.Т. Поротникова «Озера». В нем пропущено пять названий географических объектов. Восстановите пропуски:

Свыше 220 озер расположено в пойме реки _____. При этом большая их часть (около 160) расположена по левобережной пойме. Более двух десятков озерков, из которых одно крупное озеро _____ (или Изяково), находятся на острове _____. ... Имеются пойменные озера и у реки _____, большинство из них разбросаны по левобережной пойме... Пойменные озера в весеннее половодье заливаются внешними водами, частично очищаются от старой водной растительности и наполняются водой. Основная рыба этих озер _____, в крупных озерах водятся щука, окунь и другие...

9. Расположите в географические объекты в указанном порядке:

По увеличению численности населения Верховино, Яр, Зубкова, Мальцева


По увеличению протяженности р. Беляковка, р. Айба, р. Пышма, р. Тура

По увеличению площади оз. Глубокое, оз. Тугулымское, оз. Тунгаш, оз. Чегодаево,

По расположению с востока на запад: п. Тугулым, п. Юшала, д. Гилева, с. Ошкуково

В задании 10 напишите небольшой очерк по фотографии, задание оценивается в 13 баллов

10. На фотографии место на территории национального парка «Припышминские боры». Составьте связный очерк: название места, описание, охраняемый статус, географическое расположение, история и сегодняшний день.






Блок «Биология и охрана окружающей среды»

В заданиях 1-7 выберите один верный вариант ответа. Каждое задание оценивается в 1 балл

1. Кто из краеведов нашего района является автором книги «Летопись Тугулымского края: Природа и природные ресурсы»?
а) В.К. Светашов б) Г.А. Кайгородов в) З.Г. Багаева г) Л.Т. Поротников
2. Одна из ежегодных областных правительственных программ по экологии называется....
а) Родники б) Ключи в) Колодцы г) Чистая вода
3. Какая из птиц, перечисленных ниже относится к отряду курообразных?
а) Чирок б) Шилохвость в) Рябчик г) Чернеть хохлатая
4. Какое растение включено в название одного из памятников природы расположенных на территории Тугулымской дачи национального парка «Припышминские боры»?
а) Ель б) Вереск в) Можжевельник г) Лиственница
5. Какой из памятников природы является первым в районе, которому было решено присвоить статус особо охраняемой природной территории. Произошло это по инициативе Тугулымского лесхоза в 1954 году.
а) Лагушинский бор б) Авраамов остров
в) Ветлачихинский пруд г) озеро Гурино
6. Какая рыба является «редким гостем» в водоемах нашего района?
а) сом б) плотва в) голянь г) налим
7. Кто такой углозуб?
а) птица б) рыба в) хищный зверёк г) земноводное животное

В задании 8 и 9 запишите верные ответы, каждое задание оценивается в 5 баллов

8. Прочтите внимательно фрагмент очерка Л.Т. Поротникова «Кустарниковая растительность». В нем искажено пять фактов. Найдите эти ошибки и восстановите текст.





«...На территории района произрастает почти 50 видов кустарниковых растений, которые можно разделить на три группы: крупные кустарники, кустарники, кустарнички.

Представителями крупных кустарников, высотой до нескольких метров, наиболее распространенными по всей территории района, являются черемуха, боярышник и хмель.

...

Единственный представитель хвойных кустарников – вереск. Этот вечнозеленый кустарник распространен по всей территории района, предпочитает сосновые и сосново-березовые леса. Достигает высоты 5 и более метров, но очень редко, обычно – 1-2 метра...

Некоторые кустарники появились в наших лесах благодаря изменению климата – это яблони, клены, ирга, жимолость...

Многие кустарники имеют не только съедобные, но и лечебные плоды и ягоды. Среди них – волчье лыко...

Деятельность человека приводит к значительному сокращению черничников и брусничников. Если еще в середине XX века основную массу брусники люди собирали в березовых рощах, то в последнее десятилетие за брусникой, как правило, идут на болота... »

Ошибка во втором абзаце _____

Ошибка в третьем абзаце _____

Ошибка в четвертом абзаце _____

Ошибка в пятом абзаце _____


Ошибка в шестом абзаце _____

9. Определите по описанию объекты Тугулымской дачи национального парка «Припышминские боры».

Деревня в истоке р. Липка, на северном берегу озера Гурино. В окрестностях - базы отдыха, детские лагеря.	
Ботанический памятник природы. Участки никогда не рубившихся светлохвойных и темнохвойных древостоев с участием кедра на южном пределе его ареала в Зауралье.	
Поселок в верхнем течении в левобережье р. Айба. Окружен лесом.	
Деревня, расположена в долине р. Айба, в верхнем течении. Первое упоминание относится к 1719 г. Быстрому развитию способствовали обилие земли, пригодной для обработки и хорошие сенокосные угодья для заготовки кормов.	
Ботанический памятник природы. Местонахождение вереска обыкновенного в отрыве от своего основного ареала в Восточной Европе.	

В задании 10 выполните творческую работу, задание оценивается в 13 баллов

10. 5 июня проводится Всемирный день окружающей среды. Он является самым масштабным ежегодным событием, посвященным охране природы. В нашем районе в этот день юные туристы проводят разные экологические акции. В 2017 году девизом






Всемирного дня окружающей среды стал слоган «Я с природой». Подумайте какую экологическую акцию можно провести в этот день. Опишите ее: название, необходимость, цель, форма проведения, место, организаторы, участники, планируемый результат.

Блок «Предметы русского быта»

Заполните клетки кроссворда, вписав названия предметов русского быта. Задание оценивается в 10 баллов



По горизонтали: 2. Домашняя утварь, предназначенная для просеивания муки. Представляло собой обруч со стенками из бересты, открытого с одной стороны, закрытого сеткой – с другой. 4. Изогнутый особым образом плоский шест с двух сторон заканчивающийся железными крюками. Используется для переноски ведер. 5. Простейшее устройство с куделью на ножке, заканчивающейся плоским основанием – на него садилась пряжа, чтобы придать устойчивость этому предмету. 8. Устройство с внутренней топкой для кипячения воды и приготовления чая 9. Сосуд, в котором пестиком дробили продукты, всегда изготавливалась из твердого материала: камня, железа, твердых пород дерева.

По вертикали: 1. Ящик или корыто, в котором дается корм животным. 2. Приспособление для жарки пищи. Имеет, как правило, круглую форму. Может быть без ручек, с одной ручкой или с двумя ручками. 3. Повозка на четырех, обычно деревянных колесах, которую тянет лошадь. 6. Приспособление для скручивания пряжи в нить. Представляло собой палку с расширенной средней частью. 7. Собранные в пучок прутья, одеревеневшие стебли растений.



2018 год

Задание № 1. Заполните пропуски. (За каждый правильно заполненный пропуск - 2 балла; максимальный балл - 8).

Со времени похода легендарного (1) _____ снабжение хлебом русского населения Сибири стало важнейшей проблемой феодальных властей. С построением первых русских городов на сибирской земле эта проблема приобрела жизненное значение. В первые годы освоения вплоть до 1685 года, снабжение Сибири хлебом выполнялось из «государевых житниц». В житницы хлеб завозили из восточных районов Поморья. Путь из Поморья в Сибирь проходил по безлюдным лесным и болотистым местам. В 1597 году (2) _____ указал «сухой путь» на р. Туру. Далее путь пролегал по берегу реки Туры до города (3) _____ и далее до города Тобольска. В 1598 году в начале пути по сибирской земле на реке Туре был построен город (4) _____. Так расстояние до г. Тобольска сократилось на 1050 верст.

По Г.А. Кайгородову

Ответ:

1	2	3	4


Задание № 2. Соотнесите элементы левого и правого столбцов таблицы. Ответ оформите в виде соотнесения цифровых обозначений с буквенными (За каждый правильный ответ - 1 балл; максимальный балл - 12).

2.1.

Дата		Событие	
1	1586 г.	А	В этот год ямской охотник Матвей Сидоров получил «грамоту» на право владения землей и стал родоначальником большого рода крестьян Сидоровых в Тугулыме
2	1670 г.	Б	В этот год был заложен острог (город) Тюмень. Основание городу заложили на месте татарского городища русские казаки под руководством воеводы Василия Борисовича Сукина и Ивана Мясного
3	1723 г.	В	В журнале Камышловского уезда за этот год было обнаружено первое упоминание о Юшале, как о существующей станции Уральской железной дороги.
4	1835 г.	Г	В этот год был осуществлен пуск нового завода на р. Исети и завершилось строительство города крепости при нем, получившего название Екатеринбург.
5	1870 г.	Д	В этот год крепостные механики из Нижнего Тагила Ефим Черепанов и его сын Мирон два первых в России паровоза и первую в стране железную дорогу длиной 857 метров.
6	1885 г.	Е	В этот год возникло Уральское общество любителей естествознания (УОЛЕ). В него вошли педагоги и служащие, инженеры, врачи, к деятельности общества были привлечены и предпринимательские круги.

Ответ:


1	2	3	4	5	6





2.2.

Участник Великой Отечественной войны		Описание подвига	
1	Белопухов Евстрат Степанович	А	3 июля 1939 года японские войска переправились через Халхин-Гол и захватили гору Баин-Цаган. Решительной контратакой советские войска приостановили наступление японцев. Тяжелые кровопролитные бои длились почти трое суток. К исходу 5 июля полк под командованием нашего земляка во взаимодействии с другими частями разгромил вражескую группировку на горе Баин-Цаган и вышел к реке Халхин-Гол.
2	Марков Феоктист Георгиевич	Б	29 сентября 1943 года в бою за безымянную высоту, южнее села Страхальское Чернобыльского района Киевской области после выбытия из строя командира роты наш земляк принял командование на себя. Умело отразил три атаки врага, при этом лично уничтожил 11 немецких солдат, собрал остатки роты и с возгласом: «Умрем, но не сдадимся», - дрался до тех пор, пока атака не была отражена.
3	Метелев Василий Петрович	В	В начале ноября 1943 года наш земляк оперативно руководя штабной работой непосредственно на поле боя претворял планы и замыслы командира по разгрому вражеской группировки и освобождению населенных пунктов. Действуя на своем танке дерзко и решительно, внезапным ударом вносил смятение в ряды противника, внося панику и уничтожая при этом его живую силу и технику. Так при осуществлении задачи прорыва вражеской обороны и выхода в тыл врага танковой группы он стремительным броском вышел к населенному пункту Святошино Киевской области, оседлав проходящую здесь шоссеиную дорогу Киев – Житомир, в силу чего противник, бросая технику и обозы вынужден был искать другие пути отхода.
4	Пьянков Михаил Иванович	Г	30 июня 1944 года в бою за деревню Исерна Полесской области наш земляк, действуя с противотанковым ружьем, первым ринулся на врага и уничтожил пушку вместе с обслугой. Будучи раненым осколком снаряда в голову, не покинул поле боя. Израсходовав все запасы патронов к ружью, он захватил трофейную винтовку и первым ворвался в траншею противника. В рукопашной схватке уничтожил двух гитлеровцев, которые вели губительный огонь по нашей наступающей пехоте. Своим бесстрашием он воодушевил весь личный состав подразделения на выполнение поставленной боевой задачи.
5	Федюнинский Иван Иванович	Д	22 января 1945 года наш земляк находясь в разведке в районе населенного пункта Ной-Кирх выявил месторасположение огневых точек и взял двух пленных. В период 19-21 февраля в районе города Нойкурэн (ныне –





			Пионерск Калининградской области) неоднократно водил свое отделение в разведку, завязывая бой с противником всегда выходил победителем. Отделением было уничтожено свыше 10 гитлеровцев и огневая точка. 27 февраля, прикрывая выход разведгруппы с «языком», вызвал огонь противника на себя, чем обеспечил доставку пленного.
6	Дейнега Никифор Иванович	Е	5 февраля 1945 года с бойцами преодолел реку Одер северо-восточнее город Лебус Германия. На левом берегу заменил выбывшего из строя командира взвода. Отразил с подчиненными 3 контратаки, подбил бронемашину и расстрелял её экипаж. Был ранен и направлен в госпиталь.

Ответ:

1	2	3	4	5	6

Задание № 3. Прочитайте фрагменты очерков из сборников «Краеведческий ларец». Ответьте на вопросы. (За каждый правильный ответ - 2 балла; максимальный балл - 10).

1. Об этом времени «напоминают в нашем крае братские и одинокие могилы. В настоящее время сохранилось 13 таких напоминаний. А сколько вообще было братских могил ... мы с вами уже никогда не узнаем... Война страшной бурей прошла по судьбе нашего народа. Разметала по разным сторонам баррикад общественные слои, родственные группы и семьи. Брат против брата, сын против отца. Кровавая, но осмысленная война! Война за равенство и братство, за искоренение эксплуататорского строя, за свободу трудового человека».

О каком периоде истории говорит автор?


2. «Первыми появился целый отряд школьников из Юшалинской средней школы. Человек 15 ребят во главе с руководителем Ивановым Виктором Павловичем... Затем с незначительными перерывами стали прибывать другие группы людей... Рассчитывая на присутствие 20-25 человек, увидеть свыше 80 человек было весьма приятно. Почти половину составляли школьники... Мероприятие прошло очень торжественно, организовано, почти без каких-либо серьезных сбоев. Было все – и торжественный салют из автоматов, и открытие памятника, и возложение гирлянды, сплетенных из сосновых веток, и торжественный караул в лице казака Н.В. Тимофеева, и торжественные речи».

Назовите место, где состоялось это мероприятие?

3. «...В 1982 году ... с семьей переезжают в Тугулымский район. Началась работа в Тугулымском доме пионеров методистом, руководителем кружка по туристско-краеведческой направленности. С тех пор вся дальнейшая работа была посвящена воспитанию школьников и развитию школьного туризма и краеведения в Тугулымском районе»

Назовите человека, о котором идет речь.

4. «В деревне Мальцевой почти все жители были маляры. Да и не только в Мальцевой, а все соседние, рядом расположенные деревни Кокшарова, Гилева, Скородум, Рябова и





Верховина... Ездили эти маляра по всем деревням в округности на 100 и 200 км... Заранее купят необходимые краски, олифу, наймут подручных учеников и ездят, красят в летнее время».

Что красили маляры?

5. Эта птица «поселяется в различных типах хвойных и смешанных лесов, но предпочитает для гнездования густые смешанные елово-березовые насаждения вблизи сырых мест, причем гнездо можно встретить чаще в глубине насаждения, нежели на опушке... это оседлая птица. К гнездованию приступает в начале апреля и во второй половине апреля встречаются полные кладки. Насиживание кладки продолжается 17 дней, выкармливание птенцов 19-20 дней. Вылет молодых происходит в конце мая-начале июня».

Эта птица изображена на флаге Тугулымского района. О какой птице идет речь?

Ответ:

1.	
2.	
3.	
4.	
5.	



Задание № 4. *Изображения каких предметов быта представлены ниже? Укажите в таблице*

1) **Что изображено на рисунке. Название.**

2) **Предназначение, для чего нужен этот предмет.**

3) **Почему данный предмет сейчас мало употребляется в быту?**

(За каждый правильный элемент ответа - 1 балл; максимальный балл - 6).

	А	Б
Изображение		
	Ответ:	Ответ:
Название		
Предназначение		
Почему предмет сейчас мало используется в быту		




Задание № 5. Перед вами фрагменты карты Сибирского тракта. Применительно к каждому представленному ниже фрагменту укажите

- 1) Название населенного пункта
- 2) Удалённость его от Тугулыма (с точностью до десяти километров).
- 3) Численность населения (с точностью до пятидесяти человек).
- 4) Чем примечательно, известно.

(За каждый правильный элемент ответа - 1 балл; максимальный балл за все задание - 8).

А	
Б	

	А	Б
Название		
Удаленность от Тугулыма		





Численность населения		
Чем примечательно		

Задание № 6. Рассмотрите фотографию. Какие суждения, относящиеся к событию на фото, являются верными? Выберите три суждения из шести предложенных. Запишите цифры, под которыми они указаны. (За каждое верно выбранное суждение - 2 балла; максимальный балл - 6)

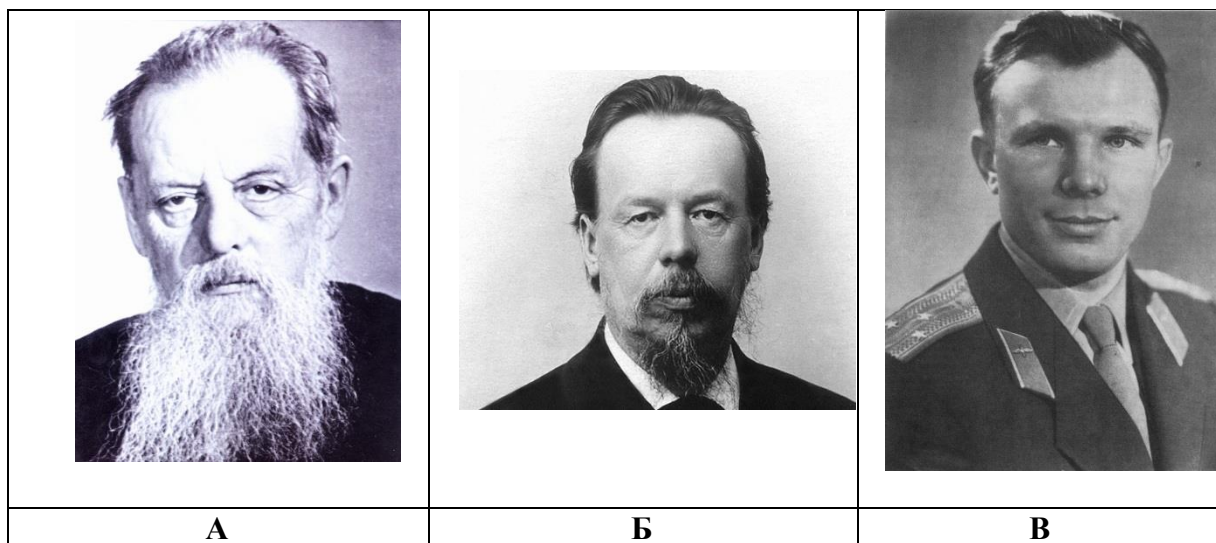


1. Событие, представленное на фото проходило в рамках мероприятий, описанных в одном из сборников «Краеведческий лапс»;
2. Событие, представленное на фото относится к увековечиванию памяти участников Великой Отечественной войны;
3. В событии, представленном на фото принимала участие администрация Тугулымского городского округа;
4. Одной из предпосылок данного события являются юбилейные мероприятия;
5. Событие, представленное на фото было единственным в своем роде;
6. Событие, представленное на фото стало значимым событием для той территории, на которой оно произошло.

Ответ:

--	--	--

Задание № 7. Перед вами фотографии известных людей, юбиляров 2019 года. Назовите их и то как их имя связано с историей нашего края. (По 1 баллу за каждый правильный ответ; максимальный балл – 6).



Ответ:

	А	Б	В
Фамилия, имя, отчество			
Имя человека в истории страны, Урала, малой родины			

Задание 8. *Ниже неизвестным краеведом подобраны названия разных объектов, которые объединяет общий признак. Определите этот признак и найдите лишнее название объекта. Это название запишите в строку ответа и укажите признак по которому подобраны названия. (По 2 балла за каждый правильный ответ; максимальный балл – 10).*

- 8.1. Нижний Тагил; Каменск Уральский; Нижняя Синячиха; Чусовские городки
- 8.2. Полуденка; Полушино; Первомайский; Чураки
- 8.3. Метелев В.П., Иванов В.П., Сомова Л.Н., Селиванов С.А.
- 8.4. Стекольный завод, Бумажная фабрика, Молочный завод, Конезавод
- 8.5. Туя, пихта, лиственница, кедр

Ответ:

	Объединяющий признак	Лишнее понятие
8.1.		
8.2.		
8.3.		
8.4.		
8.5.		



Задание 9. Расставьте в хронологической последовательности события, связанные с историей детского движения на территории Тугулымского района. В ответ запишите последовательность цифр в нужном порядке (до 5 баллов за ответ).

- 1 – Юридически организован Центр оздоровления детей «Гурино»
- 2 – организована районная детская организация РОСТ
- 3 – организовано в Верховинской школе самоуправление «Интерком»
- 4 – проведен первый районный туристский слет
- 5 – проведена первая смена в лагере на берегу озера Гурино
- 6 – организована Тугулымская станция юных туристов

Ответ:						
---------------	--	--	--	--	--	--

Задание 10. Расставьте населенные пункты в соответствии с промышленным или сельскохозяйственным производством, имеющимся в нем. В ответ запишите номера населенных пунктов (до 5 баллов за ответ).

- 1 – Мальцево; 2 – Луговской; 3 – Ошкуково;
- 4 – Тугулым; 5 – Юшала; 6 – Ядрышниковка

Предприятия	Ответ (номера населенных пунктов):
«Уральское полесье»	
Завод Лэкс/Lex	
ООО «Радуга»	
Деревообрабатывающий комбинат	
Крестьянское хозяйство «Ключи»	
ООО «Трио+»	

Задание № 11. Творческое задание (развернутый ответ) (до 14 баллов).


Дорогой участник Олимпиады, выберите один из предложенных вариантов, который станет темой Вашего творческого задания. Изложите свои мысли по выбранной теме. Постарайтесь поднять проблему, раскрыть ее и предложить пути ее решения. Аргументируйте свой ответ.

При написании работы постарайтесь исходить из того, что Жюри, оценивая Ваш ответ, будет руководствоваться следующими критериями:

1. Обоснованность выбора темы.
2. Связность и логичность повествования.
3. Корректность использования фактов и терминов.
4. Четкость и доказательность основных положений.
5. Поощряется знание участником Олимпиады различных точек зрения по данному вопросу, а также демонстрация личной позиции.

Темы развернутых ответов:

1. Туристическая привлекательность Тугулымского района.
2. Портрет патриота малой родины.
3. Чем живет тугулымская глубинка.





2019 год

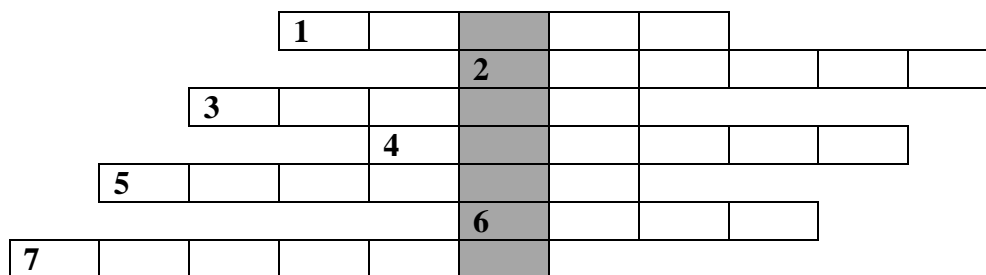
Задание № 1. Перед Вами исторический источник – описание нашей местности, сделанное в 1900-е годы. Заполните пропуски. Пропущенные слова поставьте в именительный падеж и запишите в сетку кроссворда. В выделенных клетках прочитайте ключевое слово. Что оно означает, как связано с содержанием отрывка?

За каждый правильно заполненный пропуск - 2 балла, 2 балла за ключевое слово, 2 балла за объяснение ключевого слова. Максимальный балл за задание - 10.

Россия. Полное географического описание нашего Отечества
под редакцией П.П. Семёнова-Тян-Шанского.
Том 16. Западная Сибирь.
Глава VIII. Северная часть Западной Сибири

... с. Тугулымское – один из многочисленных, разбросанных по западной, наиболее промышленной части Тюменского округа населенных пунктов. Население волостного с. Тугулымского занимается производством (1) _____, распространенным и по всем окрестным селениям (200 семей изготавливают до 1500 шт.), выделкой (2) _____, шитьем полушубков, сапог и гонкой (3) _____ и дегтя.

Этими же промыслами, а также столярным ремеслом и выделкой деревянной (4) _____ занято и население д. Лучинкиной, остающейся к югу от полотна железной дороги по пути к следующей станции. В селениях, прилегающих к железной дороге с севера, - Юшковой, Золотовой, Ошкуковой и Пискулиной, Журавлевой, Цепошниковой и др. занимаются производством деревянной (4) _____ (до 7000 шт.), (5) _____, (800 скатов), выгонкой (3) _____ и дегтя и бондарным ремеслом. В первых трех кроме того плетут кузова, короба и корзинки. Здесь путник въезжает в пределы одного из оживленных кустарных районов, который тянется вплоть до (7) _____, захватывая всю часть уезда между (6) _____ и Пышмой и по берегам их притоков...




Ключевое слово _____

Значение ключевого слова _____

Связь ключевого слова с содержанием отрывка _____

Задание № 2. Определите имена Героев Советского Союза, наших земляков, по их наградам.

За каждый правильный ответ 2 балла. Максимальный балл за задание - 6.






17 октября 1943 года был удостоен звания Героя Советского Союза. Награжден также орденом Красной Звезды и медалью "За отвагу"	Фамилия _____ Имя _____ Отчество _____
10 января 1944 года удостоен звания Героя Советского Союза. Также был награжден орденами Красного Знамени, Отечественной войны 1-й и 2-й степени, медалями «За оборону Кавказа», «За боевые заслуги», «За победу над Германией».	Фамилия _____ Имя _____ Отчество _____
Медаль «Золотая Звезда» Героя Советского Союза от 29.08.1939 г. Также был награжден четырьмя орденами Ленина, пятью орденами Красного Знамени, двумя орденами Суворова и I степени и Кутузова I степени, а также другими орденами и медалями.	Фамилия _____ Имя _____ Отчество _____

Задание № 3. Соотнесите события истории Мемориального комплекса на площади поселка Тугулым и даты, когда они происходили.

Максимальный балл за задание - 10.

Даты	События
А) 1965 год	1. Установили стелу с именами погибших воинов Тугулымского поселкового совета
Б) 1967 год	2. С окраин поселка к памятнику перенесена урна с прахом, расстрелянных красноармейцев в годы Гражданской войны.
В) 1980 год	3. Памятник дополнен новыми деталями: с одной стороны - мать с серпом на плече и детьми – олицетворяет сельское хозяйство, а с другой – рабочие промышленного Урала, кующие победу.
Г) 1985 год	4. Открытие памятника воинам Тугулымского района погибшим в боях за свободу нашей Родины на центральной площади
Д) 2000 год	5. У могилы погибших в гражданскую войну и у памятника воинам-тугулымцам, павшим в боях за Родину в годы Великой Отечественной, впервые вспыхнул огонь
Е) 2009 год	6. Рядом с памятником поставлен камень в память о солдатах, погибших в послевоенных боевых действиях





Даты	События
Ж) 2010 год	7. Открытие обелиска на братской могиле участникам Гражданской войны
З) 2011 год	8. Посадка голубых елей с правой стороны парадного входа к памятнику
И) 9 мая 2019 года	9. Установка баннеров с правой стороны – открытие Аллеи Славы
К) 5 августа 2019 года	10. С правой части аллеи, рядом с баннером Изегову И.Р., была установлена памятная плита «Аллея памяти и Славы»

Ответ:

А	Б	В	Г	Д	Е	Ж	З	И	К

Задание № 4. Поселку Тугулым 330 лет. За это время он разросся. Сегодня в нем около сотни разных улиц: маленьких и больших. Старых, известных, новых, незнакомых. Вам предстоит найти названия некоторые из них. Имена улиц спрятаны в сетке, слова идут прямо, поворачивая на угол 90 градусов вправо или влево (смотрите образец). Для помощи даны определения названий. Нужно записать названия 11 улиц по определениям и останется название 12 улицы. Дайте ответ на вопрос, почему она так названа.

За каждый правильный ответ 1 балл. Максимальный балл за задание - 12.

Образец: Улица названа по стороне света Восточная

Улица названа именем известного в нашей стране человека _____

Улица названа в честь календарного праздника _____

Улица названа званием людей, которые воевали _____

Улица названа в честь события, произошедшего в стране _____

Улица названа по зданию, которое на ней расположено _____

Улица названа в честь членов молодежного союза _____

Название улицы указывает на цвет _____

Название улицы указывает на отсутствие войны _____


Переулок с названием предприятия, которое не существует _____

Название улицы указывает, что здесь раньше был лес _____

Название улицы указывает на природный объект _____

Название какой улицы осталось в сетке _____

Почему она так названа _____


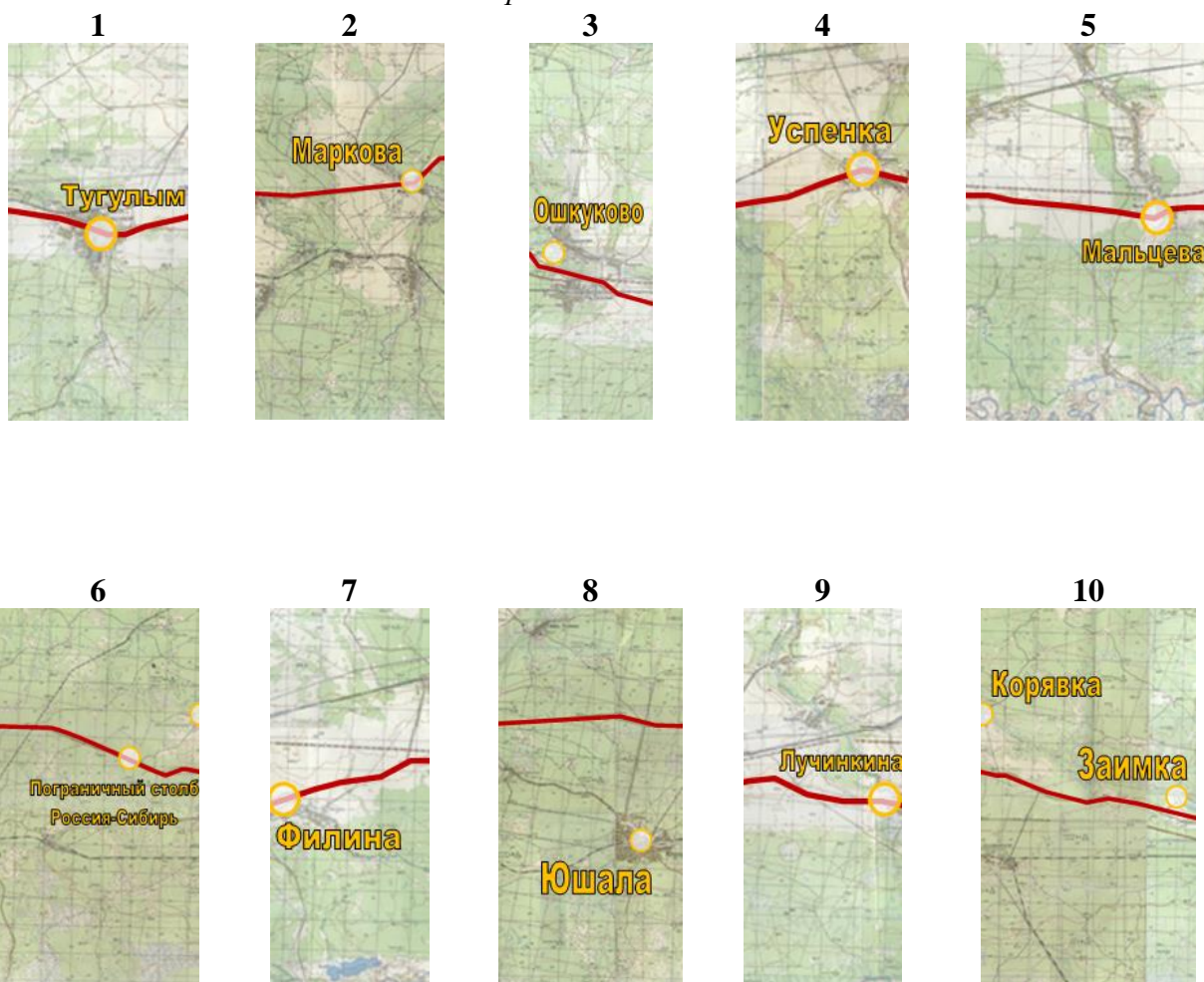




	Н	А	Я	О	Г	К	О	М	К	Л		Я
З	Ё	Т	И	П	Р	А	Ф	С	О	Ю	Ч	А
Е	Л	В	О	С	М	И	И	И	М	О	Е	В
Г	А	Ш	К	Т	К	Р	А	Г	Р	Л	Ь	С
В	Г	А	О	О	О	Л	М	О	И	Б	Н	К
Е	А	Р	Л	Ч	Н	А	Я	Г	О	Я	А	А
Т	Н	И	Ь	О	М	П	С	К	Р	О	В	Я
Е	Я	А	Н	Л	И	И	Й	А	Я	П	А	
Р	А	Н	О	В		Я	А	Й	А	Е	Р	
							К	С	М	О	В	

Задание № 5. Перед Вами фрагменты карты Тугулымского района и соседних территорий с указанием Сибирского тракта. Соберите из них полную карту. Укажите в какой последовательности должны идти номера.

Полный верный ответ – 10 баллов.





Ответ:

--	--	--	--	--	--	--	--	--	--

Задание № 6. Литературное краеведение. Задание подготовлено по рассказам тугулымского писателя Вадима Кузьмича Светашова. Его произведения о природе, главные герои – «братья наши меньшие». Автор ничего не придумывает, сюжеты рассказов дарит сама природа. Подумайте, о чем рассказывает автор.

За каждый правильный ответ до 4 баллов. Максимальный балл за задание - 12.

Необычное рядом

Казалось бы, что можно увидеть необычного и интересного, сидя дома в эту дождливую промозглую погоду. Да ничего особенного, кроме скуки и досады. Ан, нет! Случаются иногда интересные моменты в жизни!

Почти середина осени, первая декада октября. Автор получил задание от жены снять с окон москитные сетки – подготовка к зиме.

... Только надежно устроился у окна, только принялся отворачивать первый шуруп, как над моей головой с яростным чириканьем закружились два воробья. Автоматически определяю: самец и самка домовых воробьев. Крики постепенно становятся какими-то безнадежно нерешительными, даже жалкими. Я быстро заканчиваю с шурупами, снимаю рамку с сеткой и уношу в дом. Тотчас возвращаюсь, и осторожно выглядываю из-за угла веранды. Парочка тихо переговариваясь, сидит на ветке сирени под окном. Кажется, успокоились... но вот воробья сорвалась с ветки и залетела под застреху в стороне от окна.

Что необычное, поразительное в дальнейшем описывается в этом рассказе? Сформулируйте ответ в одном-двух предложениях.

Салочки

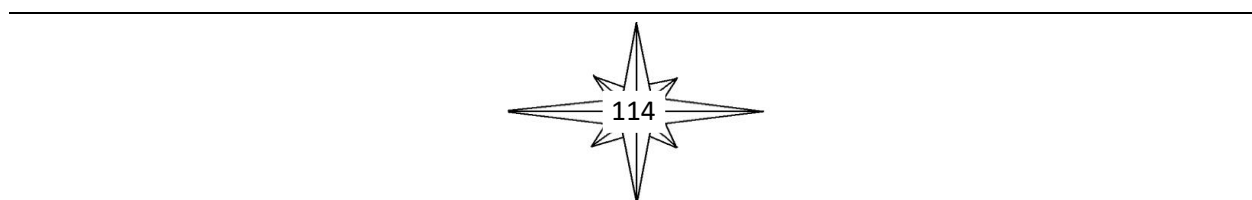
Мягко ступает нога, по еле заметной лесной тропинке. Кто ее протоптал? Грибники, вздымщики, а может звери? Неизвестно. Сейчас она завалена разноцветными опавшими листьями, которые пропитались влагой и не издают ни малейшего шороха.

Автор гуляет по лесу, наблюдает за его жителями. Спрятавшись, с помощью манка подозвал близко к себе рябчика.

... Без какой-либо видимой причины, рябчик вдруг взлетел, с руганью пересек поляну и исчез за деревьями. Тут же услышал взлёт рябчика за спиной и его удаляющееся испуганное чириканье. Ни первый, ни второй увидеть меня никак не могли. Выходит, их спугнул кто-то мне невидимый? Я медленно, боком принялся выдвигаться из можжевельника.

Неожиданно, как бы отвечая на мой безмолвный вопрос, на поляну буквально вылетели...

Автор «стал свидетелем зверской игры в догонялки, в салочки.» Кто с кем «играл»? Кто стал победителем? Сформулируйте ответ в одном-двух предложениях.





Теремок. (Хроника)

«Терем, теремок. Кто в тереме живёт?» Кому в детстве не рассказывали родители или бабушка с бабушкой эту старую-престарую сказку? Но встречаются такие сказочные теремки и в нашей жизни.

Повествование состоит из семи очерков, которые называются «Год первый», «Год второй», Год третий» и т.д. На протяжении всего этого времени автор наблюдает за тем, как разные животные обживают «теремок», построенный во дворе. Что это за теремок? Кто его построил? Кто в нем в разное время жил? Сформулируйте ответ в два-три предложения.

Задание № 7. Соотнесите предметы быта и их изображения, среди предложенных названий нет четырех изображений. Нарисуйте их.

За каждый правильный ответ 1 балл. Максимальный балл за задание – 10.

Предметы быта: жернова, серп, лохань, рубель, прялка, ухват, помело, садник, ступа, коромысло.


Рисунки:



Название



Название



Название



Название



Название




	<p><i>Ваш рисунок</i></p>	<p><i>Ваш рисунок</i></p>
<p><i>Название</i></p> <p>_____</p>	<p><i>Название</i></p> <p>_____</p>	<p><i>Название</i></p> <p>_____</p>

<p><i>Ваш рисунок</i></p>	<p><i>Ваш рисунок</i></p>
<p><i>Название</i></p> <p>_____</p>	<p><i>Название</i></p> <p>_____</p>

Задание № 8. Творческое задание. Максимальный балл за задание – 15.

Дорогой участник Олимпиады, выберите один из предложенных вариантов, который станет темой Вашего творческого задания. Изложите свои мысли по выбранной теме. Постарайтесь поднять проблему, раскрыть ее и предложить пути ее решения. Аргументируйте свой ответ.

При написании работы постарайтесь исходить из того, что Жюри, оценивая Ваш ответ, будет руководствоваться следующими критериями:






6. Обоснованность выбора темы.
7. Связность и логичность повествования.
8. Корректность использования фактов и терминов.
9. Четкость и доказательность основных положений.
10. Поощряется знание участником Олимпиады различных точек зрения по данному вопросу, а также демонстрация личной позиции.

Темы развернутых ответов:

1. Памятник, который бы я установил в Тугулымском районе
 2. Здание, которое украсит мой поселок.
 3. Человек, достойный звания Почетный гражданин Тугулымского городского округа.
 4. Современное краеведческое движение в нашем крае.
-





**Ответы на задания школьного этапа олимпиады школьников по краеведению
в Тугулымском городском округе**

5-6 классы

2017 год

Блок «История родного края»

1 - Б	2 - В	3 - Г	4 - Г	5 - А
-------	-------	-------	-------	-------

6. Федюнинский И.И., Метелев В.П., Белопухов Е.С
7. д. Ошкукова, ст. Тугулым, п. Тугулым, д. Лучинкина, д. Филина, д. Мальцева
8.

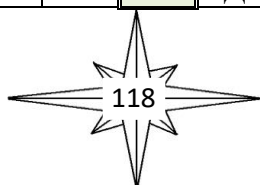
Фамилия, инициалы участника войны	Место рождения участника войны	Сведения об участнике войны
Изегов И.Р	п. Троицкий	Организатор снайперского движения на Волховском фронте
Пьянков М.И.	п. Заводоуспенское	Разведчик, полный кавалер орденов славы
Колмогоров А.В.	с.Тугулымское	Сапер, защитник Ленинграда
Марков Ф.Г	д.Яр	Разведчик, полный кавалер орденов славы
Дейнега Н.И	с. Незамаевское	Помощник командира взвода, полный кавалер орденов славы

Блок «Биология и охрана окружающей среды»

9 - Г	10 - Г	11 - А	12 - В	13 - Б
-------	--------	--------	--------	--------

- 14 . Душица, мята, мелисса, зверобой, иван-чай (кипрей), таволга (лабазник), лист смородины, лист брусники, и т.д.
15. Кедр, сосна, пихта, ель, лиственница, из кустарников – можжевельник (встречается в виде деревьев в северной зоне)
16.

1 Ш	М	П	О	В	Н	И	К
2 О	Л	Ь	Х	А			
		3 М	А	Л	И	Н	А
			4 К	Е	Д	Р	





		5 П	О	Д	О	Р	О	Ж	Н	И	К
6 С	М	О	Р	О	Д	И	Н	А			
				7 К	Р	А	П	И	В	А	
	8 Р	Я	Б	И	Н	А					
		9 Л	И	П	А						

Корневище (корень)

Блок «География»

17 - В	18 - Б	19 - Б	20 - А	21 - В
--------	--------	--------	--------	--------


22. Беляковка, Тугулымка, Айба, Балда, Кармак, Еленка, Кила, Змеевка
23. Слободо-Туринский, Байкаловский, Талицкий
- 24.






2018 год

1. Б) Юшково
2. А) Челябинская
3. Г) 1934
4. В) Е.С.Белопухов
5. Д.В.Бердинских, В.А.Щепин, Д.М.Кудинов, М.А.Постников, Д.Х.Щекин, Н.Д.Козодаев, Н.Ф.Мохов, В.Н.Ковалёв, Крылов, Троценко. Н.П.Архипов призван из Талицкого р-на, после войны жил в Юшале, если будет названа его фамилия, ошибкой не считать.
6. М.И.Пьянков, Ф.Г.Марков, Н.И.Дейнега
- 7.



8. Г) Можжевельник
9. Б) Липа
10. В) Ёж
11. Б) Бородатая неясать
12. Ласка, лисица, медведь, бурундук, россомаха.
Ключевое слово- *кидус* - гибрид соболя и лесной куницы, встречается в природе
13. Г) Байкаловский
14. А) Беляковка
15. А) Саковское
16. Г) 52
17. Ключики, Кузнецовский, Новая деревня, Корявка, Термигуль, Удино, Ивановка (у Заводоуспенки), Вновь-Скородум, Троицкий, Шанауры, Лужбина, Минина, Крутиха, Грибной, Комарова, Первомайка, Козьма-Демьянское, Орлы, Золотово, Гавань, Борки, Кугай, Логушки...





18. Айба, Балаир, Тугуцлымка, Беляковка, Балда, М.Кармак, Юшала, Еленка, Змеевка, Кила, Чернушка.

2019 год


Блок «История родного края»

1. В) 2. В) 3. Б) 4. Г) 5. Опорный край державы
6. И.И. Федюнинский, В.П. Метелёв, Е.С. Белопухов
7.

1	2	3	4
В	А	Г	Б

8.


1	2	3	4	5	6
Г	Е	А	В	Б	Д





Блок «Биология и охрана окружающей среды в родном крае»

9.



Блок «География»


10. а) 11. В) 12. Б) 13. Г)

14. Юшала, Еленка, Беяковка, Кила, Змеевка (Заевка), Тугулымка, Езевка, Гаванюшка, Чернушка, Айба, Малый Кармак, Кармак, Балда

15. Напишите о населённом пункте, в котором Вы живёте. Расскажите, почему это место так важно для Вас. Объем - не более 20 предложений. Придумайте заголовок. При написании мини-сочинения пользуйтесь черновиком. Чистовой вариант перепишите в бланк. Постарайтесь не допускать ошибок.

Максимальный балл за задание - 10.

Оценивается: наличие заголовка, количество интересных фактов, полнота сведений, логичность и связность изложения.





7-9 классы

2017 год

Блок «История родного края»

1 - А	2 - В	3 - Б	4 - А	5 - А
-------	-------	-------	-------	-------

6. Колмогоров А.В., Кузнецов Д.И., Метелев В.П., Бабушкина Л.В., Филатов В.П., Машьянова Е.И., Сомова Л.Н., Верхолетов Ю.Р., Ласкин В.З., Боровинская М.П., Багаева З.Г., Купцов В.А., Шамрикова В.А., Зобнин Г.А., Асеев П.К., Адарьев В.А., Иванов В.П., Онищенко О.Н.

7. Белый (серебристый), Синий (лазоревый), желтый

8.


Фамилия, инициалы участника войны	Место рождения участника войны	Сведения об участнике войны
Изегов И.Р	П. Троицкий	Организатор снайперского движения на Волховском фронте
Пьянков М.И.	П. Заводоуспенское	Разведчик, полный кавалер орденов славы
Колмогоров А.В.	С.Тугулымское	Сапер, защитник Ленинграда
Марков Ф.Г	Д.Яр	Разведчик, полный кавалер орденов славы
Дейнега Н.И	С. Незамаевское	Помощник командира взвода, полный кавалер орденов славы

Блок «Биология и охрана окружающей среды»

9 - А	10 - В	11 - Г	12 - Б	13 - В
-------	--------	--------	--------	--------

14. Лось, козуля, Северный олень, пятнистый олень

15. Озеро Гурино, Лагушинский бор, Ветлачихинский пруд, Авраамов остров, участки сосновых боров с вереском обыкновенным.





16.

1	Ш	И	П	О	В	Н	И	К				
2	О	Л	Б	Х	А							
			3	М	А	Л	И	Н	А			
				4	К	Е	Д	Р				
		5	П	О	Д	О	Р	О	Ж	Н	И	К
6	С	М	О	Р	О	Д	И	Н	А			
				7	К	Р	А	П	И	В	А	
		8	Р	Я	Б	И	Н	А				
			9	Л	И	П	А					

Корневище (корень)


Блок «География»

17 - А	18 - Б	19 - Б	20 - Г	21 - А	22 - А
--------	--------	--------	--------	--------	--------

23. Еленка, Никитка, Фоминка, Липка

24. Ертарский, Заводоуспенский, Зубково

25





2018 год

1. б) с. Зубково
2. в) д.Кармак
3. а) юго-восточной
4. а) Пышминский
5. в) Западно-Сибирской равнине;
6. в)юго-западное

7.	Д.Большой Рамыл	<u>Беляковка</u>
	Д. Колобова	<u>Айба</u>
	Д. Цепошникова	<u>Балда</u>
	С. Верховино	<u>Кармак</u>
	С. Яр	<u>Пышма</u>

8. в) 1944-1945гг;
9. а) выделение защитных полос лесов вдоль автомобильных дорог;
10. б) три
11. г) болото Термигуль.
12. в) экологическая тропа "Крутые берега";
13. Дейнега Никифор Иванович, Пьянков Михаил Иванович, Марков
Феоктист Георгиевич,


14. - организатор снайперского движения на Волховском фронте Иzegoв И Р
- участника прорыва блокады Ленинграда А.В.Колмогоров
- участник парада 7 ноября 1941 на Красной площади Егоров В.Г
- Героя Советского Союза, командира пулемётной роты Белопухов Е.С.
- Героя Советского Союза, командира 56 танковой бригады Метелев В.П.

15.

1. Багаева З.Г.	Главный конструктор ледокола «Арктика», ГСС	<u>2</u>
2. Перевозчиков А. Е.	Краевед, написал несколько книг и краеведческих ларцов, в том числе «Героям и жертвам Гражданской войны»	<u>4</u>
3. Малых В.А.	Краевед, автор нескольких сборников, в том числе – «Наш вклад в Победу»	<u>1</u>
4. Поротников Л.Т.	Один из основателей туристско-краеведческого полевого лагеря на Гурино, и инициатор районного брейн-ринга	<u>5</u>
5. Горопов В. В.	Один из создателей первой атомной электростанции в г.Обнинск	3.

16. 100;

17. а). Луговской_ б) Корявка_ в) Тугулым г). Трошково д). Пилигримова
18. Пограничный столб "Россия - Сибирь; Тугулым - к Тобольской, Юшала - к Пермской губернии
19. в) в Луговской школе
20. в) районном Доме пионеров;





21. в) им. П.Морозова
22. в) в 1954 году;
23. г) 6 (шесть)
24. б) п.Тугулым
25. Кроссворд

		3 К		
	2 Л	О		5 С
	А	Р		В
1 У	П	О	4 Р	Е
Х	О	М	У	Т
В	Т	Ы	Б	Е
А	Ь	С	Е	Ц
Т		Л	Л	
		О	Ь	

26. Творческое задание.
(Каждый факт - 1 балл; оценивается разнообразие фактов и плотность информации)

2019 год

1. Каждый правильный ответ - 1 балл (Всего 5 баллов):

Вопрос:	1.1.	1.2.	1.3.	1.4.	1.5.
Ответ:	в) р.Кармак	г) р.Пышма	б) р.Айба	а) р.Балда	е) р.Липка


2. Кроссворд "Птицы родного края" в картинках. (10 баллов)

	¹ с				² ц										⁴ г
⁵ с	о	р	о	к	а	⁶ с	о	й	⁷ к	а					л
	в				п			п		л					у
	а				л			о		е			⁸ ч		х
				⁹ д	я	т	е	л		¹⁰ с	и	н	и	ц	а
								з		т			б		р
								е					и		ь
								н					с		
								ь							

а) Изображена сойка (1 балл);
она олицетворяет собой
природные богатства и красоту
края, хозяйственность и
трудолюбие его жителей (1
балл).

3. Каждый правильный ответ - 1 балл:

1. В.П.Метелев
2. Е.С.Белопухов
3. В.Г.Егоров
4. Ф.Г.Марков
5. М.И.Пьянков
6. И.Р.Изегов





4. Каждый правильный ответ - 1 балл

- 4.1. - 75; 4.2. - 2015; 4.3. - а).Китова Н.А., Силиванова Н.И.;
4.4. - г).Поротников Александр Витальевич;

5. (Всего 6 баллов, по баллу за каждое слово):

(Уралмаш – шиповник – Кармакская МТС – стеклозавод – Двинское – Ертарская)

6. За каждый прав. ответ - 1 балл

- а) Луговской б) б.д.Корявка в) п.г.Тугулым г) с.Трошково д) д.Пилигримова

7. Пермской и Тобольской губерний. За каждую - по 1 баллу

8. 1 балл за каждое верное толкование. (10 баллов) *Возможные варианты:*

- а) аршин - русская мера длины, равная 0,71 м б) палица - трость; дубина; палка
в) бдеть - бодрствовать; не спать заботиться; быть на страже, бдительным
г) лапти - низкая обувь из древесного лыка, берёсты или пеньки
д) онучи - обмотки для ноги под сапог или лапоть, портянка
е) избыток - довольство; изобилие ж) портки - штаны, брюки,
з) авось - либо, возможно, может быть
и) возбранять - препятствовать; удерживать, не позволять к) тятя - отец, папа

9. Творческое задание .

Максимальный балл за задание - 10. Оценивается полнота сведений, количество достоверных фактов, связность изложения.

10-11 класс

2017 год

Блок «История родного края»


1 - Б	2 - Б	3 - В	4 - В	5 - Г
-------	-------	-------	-------	-------

6. Богданов А., Ласкин В., Беньш Т., Кушникова Л., Оборнева , Теплоухов М., Панфилов В., Панфилова Н., Надеев В., Симйонка Т.,

7. Белый, синий, зеленый

8.

Звания, награды, должность	Фамилия, инициалы	Школа
Заслуженный учитель школы РСФСР	Любушкина М.А.	Тугулымская
Заслуженный учитель школы РСФСР, почетный гражданин Тугулымского района	Сомова Л.Н.	Луговская
Заслуженный учитель школы РСФСР, директор школы	Корчагин А.Н	Верховинская
Орден Ленина	Журавлева А.И.	Юшалинская
Заслуженный учитель школы РСФСР, Герой Социалистического Труда	Шевелев А.И	Пышминская,





Блок «Биология и охрана окружающей среды»

9 - А	10 - В	11 - В	12 - Б	13 - Б
-------	--------	--------	--------	--------

14. п. Ертарский ;

д. Щелконогова, или д. Ивановка (варианты)

болото Бахметское

15. Лапчатка прямостоячая (калган), Лопух (репей), Кровохлебка , Кувшинка (Одолень-трава), Иван-чай (Кипрей), Одуванчик , Пырей,

16.

					1 Ш	М	П	О	В	Н	И	К			
					2 О	Л	Б	Х	А						
							3 М	А	Л	И	Н	А			
								4 К	Е	Д	Р				
						5 П	О	Д	О	Р	О	Ж	Н	И	К
6 С	М	О	Р	О	Д	И	Н	А							
							7 К	Р	А	П	И	В	А		
						8 Р	Я	Б	И	Н	А				
								9 Л	И	П	А				

Корневище (корень)


Блок «География»

17 - Б	18 - А	19 - Б	20 - Г	21 - В
--------	--------	--------	--------	--------

22. Ядрышниковая, Сажина, Верховино, Скородум, Гилево, Мальцева.

23. Торф, песок, глина

24





2018 год

Раздел 1. Блиц-тест

В заданиях 1-10 каждый верный ответ оценивается в 1 балл

- | | |
|----|---|
| 1 | в |
| 2 | а |
| 3 | б |
| 4 | в |
| 5 | г |
| 6 | г |
| 7 | б |
| 8 | в |
| 9 | в |
| 10 | в |


Раздел 2. Соотношения

В заданиях 11-20 каждый полностью верный ответ оценивается в 2 балла.

При верном ответе только двух цифр из 4 ставится 1 балл.

Одна верная цифра в ответе – 0 баллов.

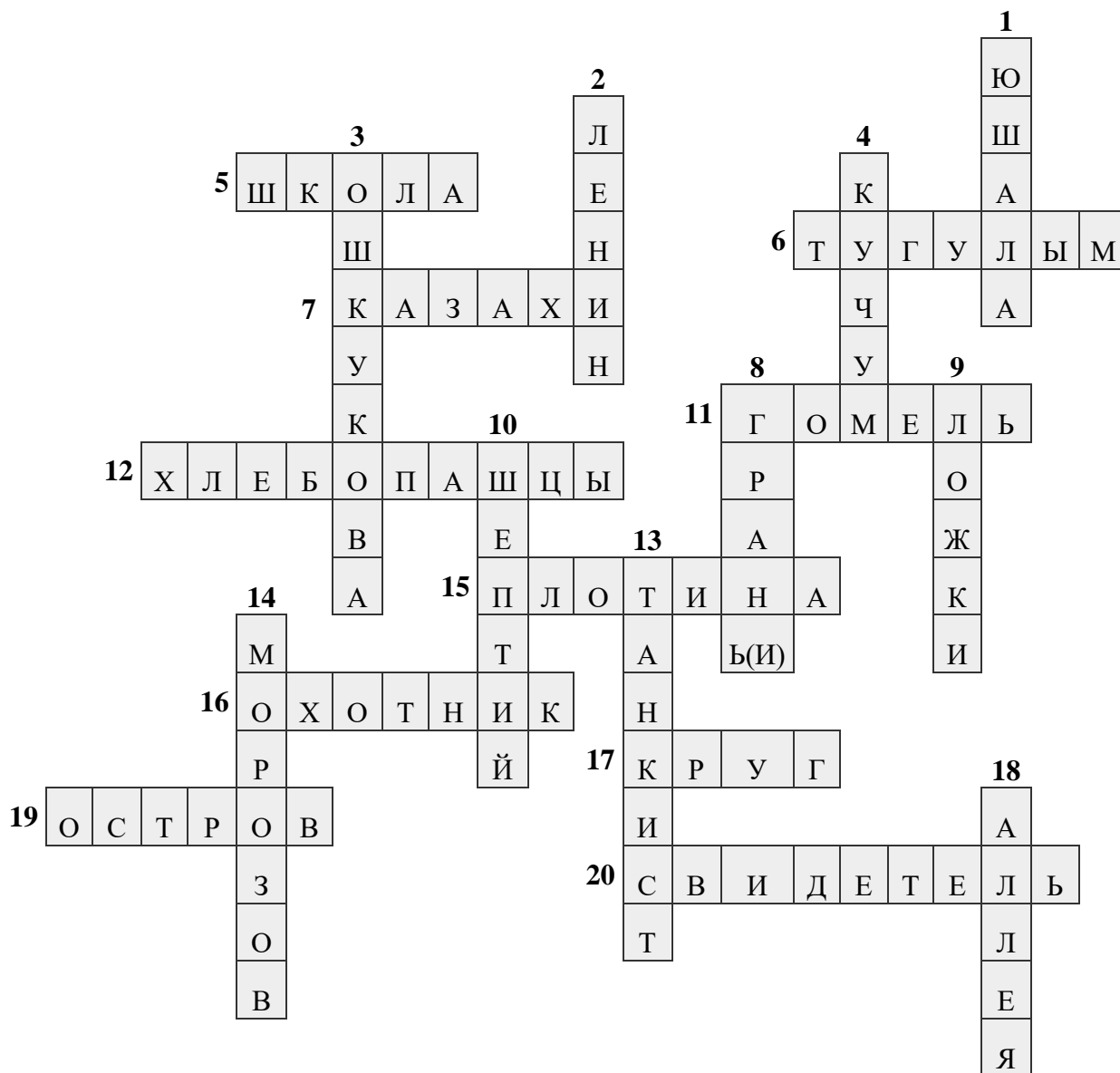
- | | |
|----|------|
| 11 | 2413 |
| 12 | 2143 |
| 13 | 2413 |
| 14 | 3214 |
| 15 | 2314 |
| 16 | 1423 |
| 17 | 1234 |
| 18 | 2134 |
| 19 | 3124 |
| 20 | 4321 |





Раздел 3. Кроссворд


Каждое верно разгаданное слово оценивается в 1 балл. За орфографическую ошибку в слове 0,5 балла



Раздел 4. Эссе

Максимальное количество баллов за выполненное задание – 10. Критерии:

- выражено свое мнение – 1 балл,
- ответ убедительно аргументирован – 2 балла,
- текст логически строен – 1 балл,
- использованы краеведческие факты (не менее 10) – 0,5 балла за каждый факт, но не более 5 баллов,
- особое мнение эксперта – 1 балл.





2019 год

Раздел 1. Блиц-тест

Каждое задание оценивается в 1 балл. Максимальное количество баллов – 10.

1. в) Калачики 2. в) Корявка 3. а) Символ леса 4. г) Юшкова
5. в) Е.С. Белопухов 6. б) Юшала
7. б) Сборник 13 «Летопись родного края», сборник детских работ
8. б) Зеркало 9. а) Павлика Морозова 10. в) Луговской

Раздел 2. Литературное краеведение

Каждое верно вставленное слово оценивается в 1 балл. Максимально баллов – 11.

Березы с елями судачат на ветру,
Росы серебряная россыпь поутру,
Морозным вечером над крышей вьется дым,
Все это родина моя – мой Тугулым

(Б. Халтурина)

Прошла по Мальцевой, Гилевой
Моя деревня стала новой.
Остались прежними река и берега:
Их память с детства сберегла.

Не стало школы-семилетки,
Не слышно голосов здесь детских.
На месте Рябовой огромные березы,
А по щекам катились слезы.

(А. Лунеева)


Мне вспомнилась девушка наша
В морозную ночь у костра.
Ее называли Надежда,
Бойцы звали просто «сестра».

Сидела и письма писала
Подругам, знакомым, родным.
И часто она вспоминала
Далекий родной Тугулым.

(З. Ласкин)

Я видел Лагушинский бор
Раз в жизни. Он незабываем.
Семнадцать лет прошло с тех пор,
Картина, как сейчас, живая.

Грустит безмолвно чудо-бор
На берегу лесной речушки.
Сосна к сосне, все на подбор,





Ласкает ветерок верхушки.

(В. Ласкин)

Затерялась в полях **Малахова**
Светом детских загадочных дней.
Верю, стала ты в жизни основой
Многих здешних десятков людей.

Две реки здесь, **Пышма** с **Беляковкой**,
Каждый этим гордиться готов.
Рек слиянье совсем недалёко,
И их воды влекут рыбаков.

(Т. Симёнка)


Распустились почки на смородине,
Предсказали скворчки судьбу.
Вновь весну встречает моя родина,
На которой много лет живу.
Разлилась **Пышма** от снега талого,
Омывает дождь зелень-траву.
Вот уж тридцать лет живу без малого,
В **Яровской** провинции живу.

(Л. Маркова)

Раздел 3. Парад Победы

Каждая фамилия оценивается в 2 балла. Максимально количество баллов – 10.

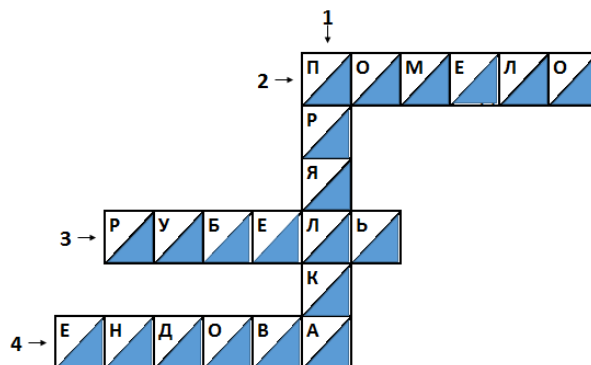
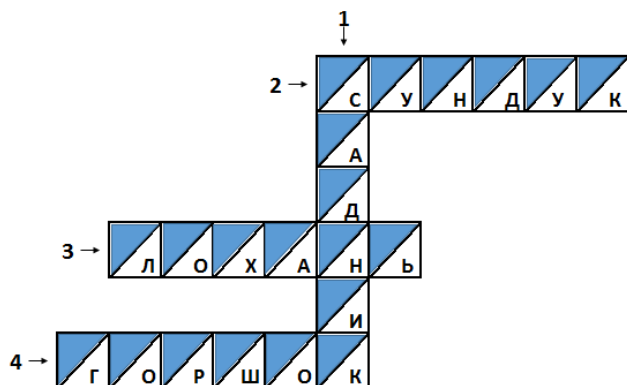
								Д 5		С 16	
				П 1	О 2	Б 3	Е 4	Д 5	А 6		
В 9	Е 4	С 16	Н 15	А 6			Й 11		М 14		
О 2		Б 3	А 6	Р 7	М 14	Е 4	Н 15	К 12	О 2	В 9	
Л 13				А 6			Е 4		Д 5		
О 2				Д 5			Г 10		Е 4		
Ш 19							А 6		Л 13		
С 16	И 11	М 14	А 6	Ч 18	К 12	О 2	В 9		К 12		
	Н 15								И 11		
									Н 15		





Раздел 4. Предметы крестьянского быта

Каждое слово оценивается в 1 балл. Максимально количество баллов – 8.



Раздел 5. Хронология

Каждое соответствие (дата – событие) оценивается в 1 балл.

Максимально количество баллов – 11.

ДАТЫ:

1637 – начало XVIII в.	7
1708 г.	3
1719 г.	4
1764 г.	6
1782 г.	1
1796 г.	5

2 марта 1920 г.	9
3 ноября 1923 г.	8
17 июня 1925 г.	2
1934 г.	11
1938 г.	10



Ответы на задания муниципального этапа олимпиады школьников по краеведению
в Тугулымском городском округе

Задания для 5-6 классов

2018 год

Блок «История родного края»

1. в) Челябинскую 2. в) 1938 3. б) Уралмаш
4. а) мотоциклы 5. г) Пышма
6.

Памятники	1	2	3	4	5
Названия	Д	Г	А	Б	В
Населённые пункты	а	в	б	д	г


7.1 Колмогоров Александр Васильевич. Родился в 1918 году в Тугулыме. В апреле 1941 года был призван в ряды Красной Армии в инженерные войска Краснознамённого Балтийского флота. Здесь встретил войну, воевал на Ленинградском фронте. Принимал участие в обороне города Ленина и снятии его блокады. Затем в составе 2-й Ударной армии под командованием нашего земляка И.И.Федюнинского участвовал в освобождении Прибалтики, Польши, штурме Кенигсберга, ликвидации группы гитлеровских войск в Восточной Пруссии. В 1946 году демобилизовался, вернулся в родной Тугулым, продолжил работу в Доме культуры. В 1949 году переходит в школу учителем черчения и рисования.

В 1954 году открыт Дом пионеров и его бессменным руководителем на долгие годы (1954 - 1981) становится А.В. Колмогоров. Проводится методическая и массовая работа со школами: это смотры, праздники, различные соревнования, слёты, игры на местности и т.д. Он ведёт различные кружки: судо-авиамодельный, ракетомодельный, мотоспортивный, картингистов. Занимается обработкой древесины и других материалов, возглавляет изостудию и драмкружок. Одна за другой появляются на свет удивительные вещи, созданные руками мастера – рисунки, картины, предметы из дерева и пенопласта, открываются выставки в библиотеке и историко-краеведческом музее, проводятся встречи с учащимися.

Тугулым его малая Родина, Родина его отца и деда, поэтому большинство рисунков посвящено родному посёлку и его окрестностям. Многие из них печатались на страницах районной газеты «Знамя труда». За особые заслуги перед районом ему присвоено звание «Почётный гражданин Тугулымского района».

7.2 Бажов Павел Петрович. Родился в 1879 году в поселке Сысертского завода. Дом, в котором родился и провел детские годы Павел Петрович, увы, сгорел в 1892 году. Во дворе сохранились постройки — баня, сарай, конюшня. В 70-х годах 20 века это ветхое здание было заменено новоделом и с 27 марта 1980 года здесь располагается мемориальный дом-музей Бажова. Учился Бажов сначала в Екатеринбургском духовном училище, потом отдал в Пермское духовное училище, потому что там была самая низкая плата за обучение. Но становиться священником Павел Бажов не планировал. Принятию сана он предпочел работу учителя. Занимался журналисткой и писательской деятельностью.

Первая книга очерков «Уральские были» вышла в 1924 году. А уже в 1936 году был опубликован первый из уральских сказов «Девка Азовка». Первое издание «Малахитовой





шкатулки» вышло в 1939 году в Свердловске. Всего Павлом Петровичем Бажовым было написано 56 сказов. Все произведения Павла Бажова написаны в доме на углу улиц Чапаева и Большакова (бывших Архиерейской и Болотной) в Екатеринбурге. После смерти писателя (1950г.) в доме до 1968 года жила его жена Валентина Александровна. 3 февраля 1969 года здесь был открыт мемориальный дом-музей Бажова.

8. Белый, синий, зелёный

9. Полный герб Свердловской области

В червленом поле серебряный восстающий **соболь**, держащий передними лапами золотую **стрелу**, положенную в столб оперением вверх.

Щит увенчан золотой императорской **короной**. Щит поддерживают золотые **грифоны**, держащие поставленные в столб **знамена** в цвет флага Свердловской области с золотыми древками, бахромой, навершиями и подтоками, стоящие на подножии из золотых **кедровых** ветвей, перевитых червленой лентой с золотыми каймами, на которой серебряными буквами начертан девиз «**ОПОРНЫЙ КРАЙ ДЕРЖАВЫ**».



Блок «Биология и охрана окружающей среды в родном крае»

			¹ Л												² ч							
			и					³ Г		⁴ Л		е										
			п			⁵ Л		о		и		р										
⁶ о	н	д	а	т	р	а		р		⁷ с	в	ё	к	⁹ л	а							
						н		н		т		м		и								
						д		о		в		у		с								
						ы		с		е		х		и								
			⁹ д	у	¹⁰ б			¹¹ ш	а	т	у	н	а	ц								
					е			а		н				а				¹² ж				
			¹³ з	в	е	р	о	¹⁴ б	о	й		и									а	
					ё	а						ц									в	
					з	р				¹⁵ л	а	с	¹⁶ к	а							о	
¹⁷ б	е	л	к	а	с								у								р	
					у					¹⁸ ш	и	ш	к	о	я	г	о	д	ы			
					к								у								н	
					¹⁹ ё								ш								о	
²⁰ м	о	ж	ж	е	в	е	л	ь	н	и	к										к	
																						а

Блок «География»


11. Чусовая
12. Липка, Межница, Мостовка, Бочанка, Канырка
- 13.

1	2	3	4	5	6	7
В	Е	А	Д	Б	Ж	Г

14. В, Г Северный Урал, Средний Урал
15. В г. Конжаковский камень 16. Б юго-восточной.

2019 год

1. Рюкзак; 2. Компас; 3. Лес; 4. Палатка; 5. Котёл; 6. Гитара
- В выделенном столбике: костёр.
2. а) 3. в) 4. б) 5. а), в)
6. в); этот участок границы находится на: б)
7. Яр, Мадахова, Дёмино, Ниж. Коркина, Пилигримова, Луговая, Луговской, Александровка, Месед, Остров, Бочкари, Мостовщики.
8. 1. Стриж, 2. Ворон, 3. Бекас, 4. Луток, 5. Дятел. По диагонали: Сокол.
9. в), г)
10. Крапива. «Дикие лебеди»
11. Конёк - верхнее горизонтальное ребро крыши, образуемое пересечением ее двух скатов. Деталь кровли в традиционном русском жилище, бревно, закрывающее верхний стык скатов крыши. Украшалось изображением коня.





Наличник – украшение вокруг окна. Наличники у окон были деревянными, и благодаря резным узорам, каждый дом был особенным.

Крыльцо - пристройка к дому, вход, лестница. Может быть с крышей или без неё. Бывают высокие, бывают низкие. Крыльцо соединяло избу с улицей и открывалось всем гостям или прохожим. Крыльцо – «визитная карточка дома и его хозяев». Дом считался нежилым, если у него разрушено крыльцо.

Завалинка - земляная невысокая насыпь вдоль наружных стен избы. Её часто использовали как лавку, на которой можно посидеть, отдохнуть, а вечером собирались песни петь.

Изгородь – ограда, забор. Можно сделать плетёную из прутьев или сколотить из жердей. Бывают ещё «живые» изгороди из растений.

12.

13. б) 14. б) 15. г) 16. б) 17. б) 18. Оконное стекло
19. Изегов И.Р. 20. Колмогоров А.В. 21. а), г).

Задания для 7-9 классов

2017 год

Блок «История родного края»

1	2	3	4	5	6	7
Б	А	А	В	А	Б	А

8.

Великоустюжский уезд (где это место расположено, в какой части России)

Вологодская область – 1 балл; на севере европейской части России – 1 балл; на севере – 0,5 балла

Полтрети выти (объяснить сколько) третья часть выти, третья часть некоторого участка – 1 балл (в действительности выть не имела постоянной величины, поэтому не требуем от учеников точного ответа, ключевое слово в ответе – третья часть)

Собинная пашня участок земли в личном пользовании – 1 балл

Залежная земля неиспользуемый, необрабатываемый участок земли – 1 балл

Десятина (сколько гектар) Применялось несколько разных размеров десятины. Самое распространенной, принятое в России до введения метричных мер, точное значение – 1,09 га. Была еще и круглая десяти, она равна 1,45 га. Считать верным ответом 1-1,5 га – 1 балл

9. *За каждый названный источник – 1 балл, максимум – 5 баллов; фрагмент названия (в том числе ошибка в названии) снижает на 0,2 балла; отсутствие автора (только название) и отсутствие источника (например, книги Л.Т. Поротникова) – 0,5 балла. Возможны варианты:*

Л.Т. Поротников Летопись Тугулымского края;

А.Г. Кайгородов История заселения Тугулымского края;

З.Г. Багаева Календарь-справочник по истории Тугулымского района;


В.К. Светашов Гнездовый период птиц Тугулымского района;

В.В. Торопов 50 лет Тугулымскому лесхозу;

официальный сайт Администрации Тугулымского городского округа;

официальный сайт центральной районной библиотеки;

сборники детских исследовательских работ и др.





10. Участник олимпиады сам выбирает план изложения материала. Мы даем полный ответ, многие факты участник может не называть или обобщать. Баллы даны ориентировочно, в большем количестве. Член жюри может добавить к баллам, набранным участником за перечисленные факты – до 2 баллов за логичность, особый стиль, оригинальность и т.п. Максимальный балл – 13.

Иван Иванович Федюнинский родился 30 июля 1900 года (1 балл) в деревне Гилёва (1 балл) Успенской волости Тюменского уезда Тобольской губернии (в настоящее время Тугулымский район Свердловской области), в семье крестьянина.

В 1939 году служил на границе с Монголией (1 балл) Указом Президиума Верховного Совета СССР от 29 августа 1939 года полковнику Федюнинскому Ивану Ивановичу было присвоено звание Героя Советского Союза (1 балл) с вручением ордена Ленина и медали «Золотая Звезда» № 155. Постановлением Президиума Великого народного хурала Монгольской Народной Республики от 15 июля 1975 года И. И. Федюнинский был удостоен звания Героя МНР (1 балл)

В период Великой Отечественной войны войска под командованием Ивана Ивановича Федюнинского участвовали в боях на Западном, Ленинградском, Волховском, Брянском и 2-м Белорусском фронтах, в обороне Ленинграда и прорыве блокады, в Тихвинских оборонительной и наступательной операциях, 1-й Ржевско-Сычёмской наступательной операции, Курской битве, Брянской, Красносельско-Ропшинской, Нарвской, Таллинской, Восточно-Прусской и Берлинской операциях. За успешные боевые действия, руководимые им войска 25 раз отмечались в приказах Верховного Главнокомандующего (до 2 баллов)


После войны занимал разные командные посты (1 балл), имел воинское звание генерал армии (1 балл). Награды: Медаль «Золотая Звезда» Героя Советского Союза № 155; четыре ордена Ленина; пять орденов Красного Знамени; два ордена Суворова I степени; два ордена Кутузова I степени; орден Красной Звезды; орден «За службу Родине в Вооружённых Силах СССР» III степени; медаль «За воинскую доблесть. В ознаменование 100-летия со дня рождения В. И. Ленина»; медаль «За отличие в охране государственной границы СССР»; медаль «За оборону Ленинграда»; медаль «За оборону Киева»; медаль «За победу над Германией в Великой Отечественной войне 1941-1945 гг.»; медаль «За взятие Кёнигсберга»; медаль «За взятие Берлина»; медаль «За освоение целинных земель» - до 2 баллов;

Памяти И.И. Федюнинского на родине, в д. Гилевой открыт дом-музей (1 балл), в п. Тугулым и г. Тюмени – названы улицы (1 балл), в п. Тугулым на Аллее Славы есть стенд (1 балл), ему установлены монумент в Гилевой и памятник в Тюмени (1 балл). В его честь проводится турнир по дзюдо (самбо) (1 балл).

Блок «География родного края»

1	2	3	4	5	6	7
В	А	А	В	Б	Б	В

8. ...Еще несколько тысяч лет тому назад наш край изобилует озерами. Многие из современных болот сразу после завершения последнего **Ледникового периода** (1 балл), примерно 15 тысяч лет назад, были озерами с чистой холодной водой, раскинувшимися на просторах обширной **тундры** (1 балл). Чем более теплый формировался климат, тем интенсивнее зарастали озера, превращаясь в настоящие болота. К примеру, еще в начале прошлого века на севере района существовало **Гимгинское** (1 балл) озеро, рядом стояла деревня с таким же названием. Огромное в настоящее время **Бахметское** (1 балл) болото в недалеком прошлом также было озером. Подтверждением тому являются не только





передающиеся из поколения в поколение воспоминания людей, но и реальные предметы, обнаруженные на многих болотах, где велась разработка и добыча **торфа** (1 балл), например, долбленные из дерева старинные лодки...

9. 1,25 балла за верный ответ, 0,75 балла – если поменялись местами два объекта, 0,25 баллов – если верно выделен только крайний объект. Максимальный балл – 5.

По увеличению численности населения Зубкова, Верховино, Юшала, Тугулым

По увеличению протяженности р. Юшала, р. Кармак, р. Айба, р. Балда

По расположению с юга на север п. Ертарский, с. Яр, п. Юшала, с. Зубкова

По удаленности от п. Тугулым р. Пышма, граница с Тюменской областью, оз. Гурино, п. Заводоуспенский.

10. Участник олимпиады сам выбирает план изложения материала. Мы даем полный ответ, многие факты участник может не называть или обобщать. Баллы даны ориентировочно, в большем количестве. Член жюри может добавить к баллам, набранным участником за перечисленные факты – до 2 баллов за логичность, особый стиль, оригинальность и т.п. Максимальный балл – 13.

На фотографии – озеро Гурино и его восточный берег (1 балл). Выступом смотрится склон – это Гуринские увалы (1 балл). Озеро Гурино расположено в северной части Тугулымского района (1 балл). Рядом деревни Гурина, Ивановка (1 балл). Озеро Гурино предположительно имеет искусственное происхождение (1 балл). Оно возникло в результате постройки плотины на выходе из озера р. Липка (1 балл). Озеро Гурино является гидрологическим и зоологическим памятником природы (2 балла). В районе озера произрастают редкие и исчезающие виды растений (1 балл), такие как гвоздика песчаная и др. (1 балл). Озеро богато водной флорой. В озере водятся карась, щука и др. рыбы (1 балл). Озеро и окрестности известны своей красотой, грибными и ягодными местами (1 балл). Это место активного отдыха населения края и города Тюмени (1 балл). Здесь каждое лето работают детский лагерь «Гурино» и экологический лагерь «Исток» (1 балл).

Блок «Биология и охрана окружающей среды»

1	2	3	4	5	6	7
А	Б	В	Б	А	А	В


8. Одна ошибка в первом абзаце земляника не растет на болотах – 1 балл

Две ошибки во втором абзаце – облепиха не является распространенной в наших краях – 1 балл; клюква – не является редким видом – 1 балл.

Две ошибки в третьем абзаце сосна сибирская (это кедр) дает кедровые орехи (1 балл); шишко-ягоды дает можжевельник (1 балл)

9. Памятники природы – озеро Гурино (1 балл) и Аврамов остров (1 балл), севернее озера Гурино – деревня Ивановка (1 балл), если участник ответит д. Гурина (0,5 балла). В южной части карты – п. Щелконоговский лесоучасток (1 балл), если участник отвечает – д. Щелконогова (0,5 балла). Объект охраны – вереск, венерин башмачок и др. – достаточно только одного названия (1 балл).

10. Эксперты оценивают стиль изложения, последовательность, структуру, оригинальность темы, ее соответствие содержанию. Обязательно в истории должны быть краеведческие факты не менее 3 – это могут быть названия объектов природы, их





Сборник олимпиад по краеведению (школьный и муниципальные туры)

1	О	Н	Д	А	Т	Р	А										
2	Л	И	С	Т	В	Е	Н	Н	И	Ц	А						
			3	Б	У	Р	Ы	Й									
4	П	И	Х	Т	А												
			5	К	А	Б	А	Н									
			6	Т	А	Й	М	Е	Н	Ь							
						7	С	О	С	Н	А						
											8	В	Е	Р	Е	С	К
14	М	О	Ж	Ж	Е	В	Е	Л	Ь	Н	И	К					

* Памятник природы - 16

* озеро Гуриновое, Ветлацихинский пруд, Лагушинский бор, участки сосновых боров с вереском обыкновенным - 46

* Летяга, вереск 2 балла

Литературное краеведение

10. По 26 за верно указанную фамилию - 6 баллов (А.В.Богданов, В.З.Ласкин,

11. б) Серебряное перышко - 2 балла

12. (Каждый правильный ответ - 2 балла, до 10 баллов)

(В.Крапивин, П.П.Бажов, Д.Н.Мамин-Сибиряк, А.П.Бондин, В.Бирюков, Г.Дробиз, Ликстанов ИИ, Е.Пермяк, И.Я.Стяжкин, Л.Татьяничева, Ю.Шинкаренко, Н.П.Вагнер, Н.З.Соломко, С. Лаврова, С.Мальцев, Сергей Тимофеевич Аксаков, Евгений Пермяк, Николай Никонов, Александр Твардовский, Борис Ручьев, Валентин Сорокин, Елена Хоринская, Степан Щипачёв,...)

13. (макс. 3 балла, повторяющееся название учитывается 1 раз) По тексту: А.П. Чехов; Екатеринбург, Маминым-Сибиряком; Екатеринбург

14. граница "Россия - Сибирь", находится возле б.д.Корявка, между Тугулымом и Юшалою (макс. 2 балла: 1 балл - название места, 1 балл - место нахождения)

15. Замечательные люди Тугулымского района (10 баллов)


(макс. 10 баллов, по 2 балла за верное соотнесение) 1- Мичуров Иван Романович; 2- Колмогоров Александр Васильевич; 3 - Багаева Зоя Георгиевна; 4 - Корчагин Анатолий Никандрович; 5- Хананова Людмила Ивановна.

2019 год

Географическое краеведение

1. Поле для ответов: (1 балл за правильный ответ, всего 10 баллов)

Вопрос:	Ответ:	Вопрос:	Ответ:
1.1.	в) д.Гилёва	1.6.	е) д.Гурина
1.2.	з) д.Ивановка	1.7.	б) п.Тугулым
1.3.	и) с.Яр	1.8.	а) д.Зубкова





1.4.	г) д.Остров	1.9.	ж) д.Юшкова
1.5.	к) п.Заводоуспенский	1.10.	д) п.Ертарский

2. По 1 баллу за правильный ответ, всего 5 баллов

- 2.1. в) 1885 года
- 2.2. а) в д.Юшковой
- 2.3. б) в п.Тугулым
- 2.4. а) континентальный
- 2.5 б) зима


Биология и охрана окружающей среды - по 1 баллу за правильный ответ, всего 10 баллов.

3. 3.1. а) лилия волосистая
- 3.2. а) вереск обыкновенный
- 3.3. б) любка двулистная
- 3.4. а) адонис весенний
- 3.5. а) кубышка желтая
- 3.6. в) летяга
- 3.7. в) луговой лунь
- 3.8. а) большой кроншнеп
- 3.9. б) бородатая неясыть
- 3.10. в) медянка обыкновенная

Литературное краеведение

4. Прочитайте данный отрывок из статьи и вставьте недостающие слова (пояснения к недостающим местам даны в скобках). Каждый правильный ответ - 1 балл (Всего ~ 11 баллов)

" Литературный клуб Тугулымского района "**Журавушка**" (название лит.клуба) отметил недавно **25**- летний (сколько лет клубу) юбилей. Первым председателем литклуба был Киров Николай Александрович, а сегодня его возглавляет любитель поэзии, почетный гражданин Тугулымского городского округа **Ласкин Валерий Зиновьевич** (ФИО). За годы своего существования литературный клуб принял в свой круг более 30 самодельных поэтов разных поколений - от заслуженных ветеранов труда до молодых и юных жителей разных сёл района, и выпустил **три** (количество) общих сборника стихов. Некоторые самодельные поэты выпускают личные, авторские сборники стихов; а широкая общественность может ознакомиться с их творчеством на страницах **районной газеты "Знамя труда"** (название органа печати), где с 2002 года проводится литературный конкурс "**Иду тропинкою лесной**" (название литературного конкурса). Активными членами литературного сообщества являются: **Басканов М.А., Беньш Т.А., Богданов А.В., Киров Н.А., Климов В.Т., Коркина В.Ф., Кушникова Л.С., Лунева А.Т., Маркова Л.А., Надеев Ю.Н., Оборнева Л.И., Панфилов В.А., Панфилова Н.В., Пелымская О.П., Сарычев Н.А., Светашов В.К., Серова М.А., Симйонка Т.И., Стариков В.С., Теплоухов М.Б., Тепышева Н.М., Фетисова Л.А. ...** (перечислить ФИО).





А стихи самой "почтенной" по возрасту поэтессы Халтуриной Берты Григорьевны (ФИО) "Родное село" положены на музыку местным музыкантом Верхолетовым Ю.Р., и давно звучат со сцены районного Дома культуры, став неофициальным гимном Тугулыма".

Тугулымцы в годы Великой Отечественной войны.

5. Ответы (каждый полный ответ - 2 балла, всего 8 баллов):

- 5.1. Белопухов Е.С., Герой Советского Союза.
- 5.2. Дейнега Н.И., кавалер 3-х орденов Славы.
- 5.3. Теплоухов М.С., Герой Советского Союза
- 5.4. Марков Ф.Е. (Ф.Г.), кавалер 3-х орденов Славы.

6.

- 6.1. Снаряды и мины, - 1балл, на Уралмаше - 1 балл (Всего 2 балла).
- 6.2. От 16 до 55; до 50; лошади, трактора, автомобили (за каждый ответ по 1 баллу, всего 6 баллов).

Историческое краеведение (каждый полный ответ - 2 балла, всего 8 баллов)

7. 7.1. Памятник на месте бывшей деревни Корявки, посвящён деревне и жившим в ней людям.

7.2. В п.Юшала, посвящён Белопухову, проживавшему в доме в указанное время.

7.3. Восстановленный памятник «Россия – Сибирь», на границе бывших губерний – Тобольской и Пермской на старом Сибирском тракте

7.4. Памятник погибшим воинам тугулымцам в годы войны и работникам тыла и детям на площади Тугулыма

8. Шарманка – архив – валежник – колок – колун –наличник – корчага – амбар - реверс – слобода - алтын - недуг - гончар - рало– оглобли (за каждое правильное слово - 1 балл, всего - 15 баллов)

Задания для 10-11 классов

2017 год

Блок «История родного края»

1	2	3	4	5	6	7
Г	А	Б	Г	Г	В	А

8. Бобыль безземельный, одинокий крестьянин (1 балл), одинокий мужчина (0,5 балла)


дмп душ мужского пола (1 балл) дети мужского пола (0,5 балла)

Кортомить арендовать, брать в наем (1 балл)

Пономарь служитель церкви (0,5 балла), звонарь, помогающий на службе в церкви (1 балл)

Полчети выти четвертая часть выти, четвертая часть некоторого участка – 1 балл (в действительности выть не имела постоянной величины, поэтому не требуем от учеников точного ответа, ключевое слово в ответе – четвертая часть)

9. За каждый названный источник – 1 балл, максимум – 5 баллов; фрагмент названия (в том числе, ошибка в названии) снижается на 0,2 балла; отсутствие автора (только





название) и отсутствие источника (например, книги Л.Т. Поротникова) – 0,5 балла.
Варианты ответов:

- З.Г. Багаева След на Земле;
- З.Г. Багаева Календарь-справочник по истории Тугулымского района;
- В.В. Торопов 50 лет Тугулымскому лесхозу;
- Л.Т. Поротников Последние солдаты войны;
- Сайт Подвиг народа – допускается русское название;
- Сайт ОДБ Мемориал;
- Сайт Память народа и др.

10. Участник олимпиады сам выбирает план изложения материала. Мы даем полный ответ, многие факты участник может не называть или обобщать. Баллы даны ориентировочно, в большем количестве. Член жюри может добавить к баллам, набранным участником за перечисленные факты – до 2 баллов за логичность, особый стиль, оригинальность и т.п. Максимальный балл – 13.

Евстрат Степанович Белопухов (1 балл) родился 5 января 1922 года (1 балл) в деревне Вновь-Скородумской (ныне — Тугулымский район Свердловской области) в крестьянской семье (1 балл).

В ноябре 1941 года был призван на службу в Рабоче-крестьянскую Красную Армию. В 1942 году он окончил курсы командиров взводов при Черкасском военном пехотном училище, после чего был направлен на фронт (1 балл). Отличился во время битвы за Днепр (1 балл).

26 сентября 1943 года Белопухов вместе с бойцами своего взвода переправился на подручных средствах через Днепр у села Окуниново Козелецкого района Черниговской области. Захватив плацдарм на западном берегу, взводу удалось отразить все немецкие контратаки. 29 сентября в бою за высоту к востоку от села Страхолесье Чернобыльского района Киевской области, заменив выбывшего из строя командира роты, успешно управлял действиями подразделения (до 3 баллов).

Указом Президиума Верховного Совета СССР от 17 октября 1943 года лейтенант Евстрат Белопухов был удостоен высокого звания Героя Советского Союза с вручением ордена Ленина и медали «Золотая Звезда» (1 балл) Был также награждён орденом Красной Звезды и рядом медалей (1 балл).


После окончания войны проживал и работал в городе Миасс Челябинской области (1 балл). Умер 18 февраля 1980 года. (1 балл) На улице в Миассе, где проживал Белопухов, установлена мемориальная доска (1 балл). Памяти Белопухова проводится турнир по настольному теннису (1 балл), мемориальная доска есть в п. Юшала (1 балл), в д. Гилева – аншлаг (1 балл), стенд на Алее Славы в п. Тугулым (1 балл).

Блок «География родного края»

1	2	3	4	5	6	7
Б	Г	Б	Б	Б	В	А

8. Свыше 220 озер расположено в пойме реки **Пышма** (1 балл). При этом большая их часть (около 160) расположена по левобережной пойме. Более двух десятков озерков, из которых одно крупное озеро **Саковское** (1 балл) (или **Изяково**), находятся на острове **Васильевском** (1 балл).

... Имеются пойменные озера и у реки **Беяковки** (1 балл), большинство из них разбросаны по левобережной пойме...





Пойменные озера в весеннее половодье заливаются внешними водами, частично очищаются от старой водной растительности и наполняются водой. Основная рыба этих озер **карась** (1 балл), в крупных озерах водятся щука, окунь и другие...

9. 1,25 балла за верный ответ, 0,75 балла – если поменялись местами два объекта, 0,25 баллов – если верно выделен только крайний объект. Максимальный балл – 5.

По увеличению численности населения Мальцева, Зубкова, Яр, Верховино

По увеличению протяженности р. Айба, р. Беляковка, р. Пышма, р. Тура

По увеличению площади оз. Глубокое, оз. Чегодаево, оз. Тугулымское, оз. Тунгаш

по расположению с востока на запад: д. Гилева, п. Тугулым, с. Ошкуково, п. Юшала

10. Участник олимпиады сам выбирает план изложения материала. Мы даем полный ответ, многие факты участник может не называть или обобщать. Баллы даны ориентировочно, в большем количестве. Член жюри может добавить к баллам, набранным участником за перечисленные факты – до 2 баллов за логичность, особый стиль, оригинальность и т.п. Максимальный балл – 13.

На фотографии – озеро Гурино и его северо-западный берег (1 балл). На берегу раскинулась деревня Гурина (1 балл), названная по имени Гурия – одного из братьев, которые имели мельницу на берегу озера (1 балл). Территория эта расположена в северной части Тугулымского района (1 балл). Озеро Гурино предположительно имеет искусственное происхождение (1 балл). Оно возникло в результате постройки плотины на выходе из озера р. Липка (1 балл). Озеро Гурино является гидрологическим и зоологическим памятником природы (2 балла). В районе озера произрастают редкие и исчезающие виды растений (1 балл), такие как гвоздика песчаная и др (1 балл). Озеро богато водной флорой. В озере водятся карась, щука и др. рыбы (1 балл). Озеро и окрестности известны своей красотой, грибными и ягодными местами (1 балл). Это место активного отдыха населения края и города Тюмени (1 балл). Здесь каждое лето работают детский лагерь «Гурино» и экологический лагерь «Исток» (1 балл).

Блок «Биология и охрана окружающей среды»

1	2	3	4	5	6	7
Г	А	В	Б	А	А	Г

8. Ошибка во втором абзаце хмель не является кустарником (1 балл)

Ошибка в третьем абзаце речь в абзаце идет не о вереске, а о можжевельнике (1 балл)


Ошибка в четвертом абзаце указанные кустарники появились благодаря деятельности человека, а не изменению климата (1 балл)

Ошибка в пятом абзаце волчье лыко имеет несъедобные ягоды (1 балл)

Ошибка в шестом абзаце люди собирали бруснику не в березовых рощах, а в сосновых борах (1 балл)

Примечание: если участник указывает ошибку, но не исправляет ее – то 0,5 балла.

9.



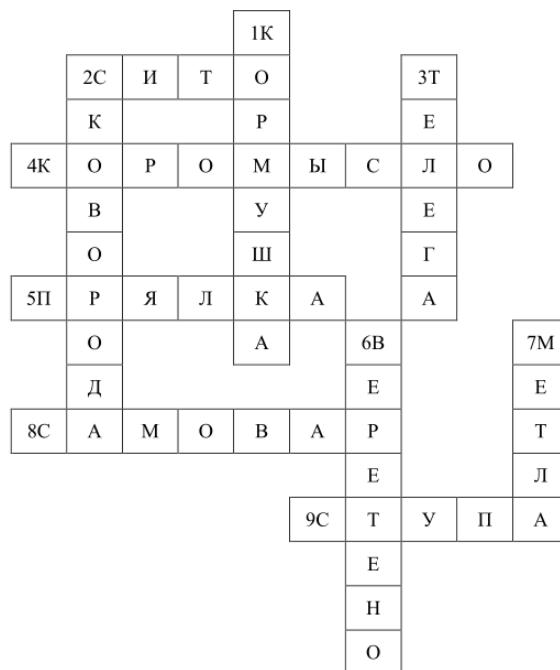


Деревня в истоке р. Липка, на северном берегу озера Гурино. В окрестностях - базы отдыха, детские лагеря.	д. Гурина (1 балл)
Ботанический памятник природы. Участки никогда не рубившихся светлохвойных и темнохвойных древостоев с участием кедра на южном пределе его ареала в Зауралье.	Острова Аврамов, Пустынный, Пихтовый, Сосновый (1 балл)
Поселок в верхнем течении в левобережье р. Айба. Окружен лесом.	п. Щелконоговский (Щелконоговский лесоучасток) (1 балл)
Деревня, расположена в долине р. Айба, в верхнем течении. Первое упоминание относится к 1719 г. Быстрому развитию способствовали обилие земли, пригодной для обработки и хорошие сенокосные угодья для заготовки кормов.	д. Щелконогова (1 балл)
Ботанический памятник природы. Местонахождение вереска обыкновенного в отрыве от своего основного ареала в Восточной Европе.	Участки сосновых боров с вереском обыкновенным (1 балл)

10. Эксперты оценивают стиль изложения, последовательность, структуру, оригинальность темы, ее соответствие содержанию. Обязательные элементы: актуальность – 1 балл, цель – 1 балл, форма проведения – 1 балл, место – 1 балл, организаторы – 1 балл, участники – 1 балл, планируемый результат – 1 балл. Если этих элементов нет – не может быть балл максимальным. Не обязательно в истории должны быть краеведческие факты, но если они есть, то ставить дополнительные баллы. Максимальное число баллов – 13.

Блок «Предметы русского быта»

Каждое верное слово – 1 балл, орфографическая ошибка в слове – 0,5 балла.





2018 год

Задание № 1. За каждый правильно заполненный пропуск - 2 балла; максимальный балл - 8.

Ответ:

1	2	3	4
Ермак	Бабинов	Тюмень	Верхотурье

Задание № 2. За каждый правильный ответ - 1 балл; максимальный балл - 12.

2.1. Ответ:

1	2	3	4	5	6
Б	А	Г	Д	Е	В

2.2. Ответ:



1	2	3	4	5	6
Б	Г	В	Д	А	Е

Задание № 3. За каждый правильный ответ - 2 балла; максимальный балл - 10.

Ответ:

1.	Гражданская война
2.	Сибирский тракт. Пограничный столб Россия Сибирь
3.	Селина Галина Григорьевна
4.	Маляры красили в избах стены, потолки
5.	Сойка

Задание № 4. За каждый правильный ответ - 1 балл; максимальный балл – 6.

	А	Б
Изображение		
	Ответ:	Ответ:
Название	Коромысло	Ухват
Предназначение	Для переноски воды	Для того, чтобы доставать и ставить в печь чугунок
Почему отпала необходимость предмета в настоящее время	Вода поступает из крана, нет надобности ее носить	Пищу готовят в духовках, микроволновках; нет русских печей

Задание № 5. За каждый правильный ответ - 1 балл; максимальный балл за все задание - 8.





Сборник олимпиад по краеведению (школьный и муниципальные туры)

	А	Б
Название	Лучинкина	Маркова
Удаленность от Тугулыма	7 километров	27 километров
Численность населения	35 человек (по переписи 2010г.)	74 человека (по переписи 2010г.)
Чем примечательно	Было большое оживленное село на Сибирском тракте. Здесь был дом декабристов	Музей Сибирского тракта Последняя деревня России на Сибирском тракте

Задание № 6. За каждое верное суждение - 2 балла; максимальный балл - 6

Ответ:

1	4	6
---	---	---

Задание № 7. По 1 баллу за каждый правильный ответ; максимальный балл – 6

Ответ:

	А	Б	В
Фамилия, имя, отчество	Бажов Павел Петрович	Попов Александр Степанович	Гагарин Юрий Алексеевич
Имя человека в истории Урала или малой родины	Родился на Урале, писал сказы об Уральских мастерах	Родился в Краснотурьинске (на Урале)	Его именем названы улицы в многих городах

Задание 8. По 2 балла за каждый правильный ответ; максимальный балл – 10.


Ответ:

	Объединяющий признак	Лишнее понятие
8.1.	Города Свердловской области	Чусовские городки
8.2.	Существующие в настоящее время населенные пункты	Первомайский
8.3.	Почетные граждане Тугулымского района	Селиванов С.А.
8.4.	Промышленные предприятия Тугулымского района	Конезавод
8.5.	Хвойные деревья на территории района	Туя

Участники олимпиады могут предложить свой признак для связи понятий, это не должно снижать результат при условии, что этот признак имеет краеведческий аспект. Например, 8.3. участники могут выделить лишним Метелева В.П. по признаку не участвовали в Великой Отечественной войне или люди, проживающие постоянно в Тугулымском районе

Задание 9. До 5 баллов за ответ.

Ответ:	5	4	6	3	2	1
--------	---	---	---	---	---	---






Задание 10. До 5 баллов за ответ.

Предприятия	Ответ (номера населенных пунктов):
«Уральское полесье»	3 Ошкуково
Завод Лэкс/Lex	2 Луговской
ООО «Радуга»	1 Мальцево
Деревообрабатывающий комбинат	5 Юшала
Крестьянское хозяйство «Ключи»	6 Ядрышникова
ООО «Трио+»	4 Тугулым

Задание № 11. Творческое задание (развернутый ответ) (до 14 баллов).

1. Обоснованность выбора темы и задач работы (до 2 баллов).
2. Творческий характер (до 3 баллов).
3. Корректность использования фактов и терминов (до 3 баллов).
4. Четкость и доказательность основных положений ответа (до 3 баллов).
5. Приведены различные точки зрения по освещаемому вопросу (до 3 баллов).





2019 год

Задание № 1.

За каждый правильно заполненный пропуск - 2 балла, 2 балла за ключевое слово, 2 балла за объяснение ключевого слова. Максимальный балл за задание - 10.

1К	О	В	Ё	Р					
		2О	В	Ч	И	Н	А		
3С	М	О	Л	А					
		4П	О	С	У	Д	А		
5К	О	Л	Е	С	О				
		6Т	У	Р	А				
7Т	Ю	М	Е	Н	Ь				

Ключевое слово **Волость**

Значение ключевого слова **Административная единица Российской империи**

Связь ключевого слова с содержанием отрывка перечисленные в отрывке населенные пункты входили в Тугулымскую волость

Задание № 2.

За каждый правильный ответ 2 балла (1 балл – фамилия, 2 балл – имя и отчество). Максимальный балл за задание - 6.

Ответы по порядку: **Белопухов Евстрат Степанович, Метелев Василий Петрович, Федюнинский Иван Иванович.**

Задание № 3. Максимальный балл за задание - 10. Каждое соответствие – 1 балл.


А	Б	В	Г	Д	Е	Ж	З	И	К
4	2	3	1	5	8	9	6	10	7

Задание № 4. За каждый правильный ответ 1 балл. Максимальный балл за задание - 12.

Улица названа именем известного в нашей стране человека	Гагарина
Улица названа в честь календарного праздника	Первомайская
Улица названа званием людей, которые воевали	Ветеранов
Улица названа в честь события, произошедшего в стране	Олимпийская
Улица названа по зданию, которое на ней расположено	Школьная
Улица названа в честь членов молодежного союза	Комсомольская
Название улицы указывает на цвет	Зелёная
Название улицы указывает на отсутствие войны	Мира
Переулок с названием предприятия, которое не существует	Типографии
Название улицы указывает, что здесь раньше был лес	Грибная
Название улицы указывает на природный объект	Ключевая
Название какой улицы осталось в сетке	Колмогорова

Почему она так названа **В честь почетного гражданина Тугулымского городского округа А.В. Колмогорова, участника войны, первого директора Дома пионеров, краеведа, художника, педагога**

Задание № 5. Полный верный ответ – 10 баллов.





2	8	6	10	3	1	9	7	5	4
---	---	---	----	---	---	---	---	---	---

Задание № 6. За каждый правильный ответ до 4 баллов. Максимальный балл за задание - 12.

Необычное рядом

Воробьи вывели птенцов в необычное время года – осенью.

Салочки

В «салочки играли» лиса и заяц. Заяц обманул лису и убежал, лиса осталась.

Теремок. (Хроника)

«Теремок» - это скворечник, сделанный автором рассказа. В скворечнике жили воробьи, синицы, скворцы и другие мелкие птицы, а еще однажды там жили дикие осы.

Задание № 7. За каждый правильный ответ 1 балл. Максимальный балл за задание – 10.

Предметы быта: жернова, серп, лохань, рубель, прялка, ухват, помело, садник, ступа, коромысло.

Рисунки:



Жернова



Серп



помело



Рубель



Садник



Прялка

Ваш рисунок



Коромысло

Ваш рисунок



Лохань

Ваш рисунок



Ухват

Ваш рисунок



Ступа

Задание № 8. Творческое задание. Максимальный балл за задание – 15.

Критерии


11. Обоснованность выбора темы – 2 балла.
12. Связность и логичность повествования – 3 балла.
13. Корректность использования фактов и терминов – 3 балла.
14. Четкость и доказательность основных положений – 4 балла.
15. Поощряется знание участником Олимпиады различных точек зрения по данному вопросу, а также демонстрация личной позиции – 3 балла.



Список источников


Литература

1. Барабанщиков Н.З. Воспоминания: Краеведческий ларец. Сб. № 7.- Тугулым, 2012.- 84 с.- (Общество Уральских краеведов. Тугулымское районное общество краеведов).
2. Богданов А. А зимою мне снится лето: Сб. стихов.- Камышлов: ГУП СО «Камышловская типография», 2005.- 135с.
3. Божий дар: Таланты родного края / Сост. З.Г.Багаева.- Тугулым, 1996.- 50с.
4. Героям и жертвам Гражданской войны. В память погибшим и помнить живым: Краеведческий ларец. Сб. № 14 / Сост. Л.Т.Поротников.- Тугулым-Тюмень: ООО «ИПЦ «Экспресс», 2017.- 122с.- (Общество Уральских краеведов. Тугулымское районное общество краеведов).
5. Грани талантов юных исследователей: Краеведческий ларец. Сб. № 6 / Сост.: Г.Г.Селина, А.В.Поротников.- Тугулым, 2009.- 140с.- (Общество Уральских краеведов. Тугулымское районное общество краеведов).
6. Грехов П.Л. Не кривя душой / П.Л. Грехов.- Тюмень: Исетская типография, 1992.- 194с.
7. Журавлиное ожерелье: Сб. стихов.- Тугулым, 2003.- 125с.- (Литературный клуб «Журавушка»).
8. Замечательные люди Тугулымского района: Сб. биографических статей.- Тугулым, 2008.- 228с.- Летопись Тугулымского края.
9. Именитым землякам посвящается: Краеведческий ларец (сб. № 15).- Тугулым, 2019.- 160 с.- (Общество Уральских краеведов. Тугулымское районное общество краеведов).
10. Кайгородов Г.А. История заселения Тугулымского края: Краеведческий ларец. Сб. № 12.- Тугулым, 2015-2016.- 178с.- (Общество Уральских краеведов. Тугулымское районное общество краеведов).
11. Календарь памятных дат в истории Урала. 2017 год / авт.-сост.: А.Г.Мосин.- Екатеринбург: ООО «Новый стандарт», 2017.-168с.
12. Календарь-справочник по истории Тугулымского района / Сост. З.Г.Багаева.- Тугулым, 1988.- 46с.
13. Календарь-справочник по истории Тугулымского района: 2-е изд./ Сост. З.Г.Багаева.- Тугулым, 1991.- 78с.
14. Краеведческий ларец. Сб. № 2.- Тугулым, 2008.- 38с.- (Общество Уральских краеведов. Тугулымское районное общество краеведов).
15. Краеведческий ларец. Сб. № 7. Серия: Памяти именитых земляков – защитников Отечества. Кн. 1. Турнир «Юный снайпер РОСТО», посвящённый памяти снайпера Ивана Романовича Изегова / Колл. Авторы.- Тугулым, 2011.- 72с.- (Общество Уральских краеведов. Тугулымское районное общество краеведов).
16. Красная книга Свердловской области: животные, растения, грибы / Отв. ред. Н.С.Корытин.- Екатеринбург: Баско, 2008.- 256с.: ил.
17. Лаврентьева Л.С., Смирнов Ю.И. Культкра русского народа. Обычаи, обряды, занятия, фольклор.- СПб.: «Паритет», 2005.- 448с.
18. Ласкин В.Ю. Посёлок Юшала: История уральской глубинки.- Екатеринбург: «Экспресс-дизайн», 2007.- 128с.





19. Летопись родного края. Сборник детских исследовательских работ: Краеведческий ларец. Сб. № 13.- Тугулым-Тюмень: ООО «ИПЦ «Экспресс», 2016.- 200с.- (Общество Уральских краеведов. Тугулымское районное общество краеведов).
20. Медалисты школ района: Краеведческий ларец. Сб. № 3 (Изд-е второе, доп.).- Тугулым, 2009.- 82с.- (Общество Уральских краеведов. Тугулымское районное общество краеведов).
21. Наш вклад в Победу 1941-1945: Сб./ Сост.З.Г.Багаева.- Тугулым,1995.
22. Новопашин М. и др. Крестьянский сарафан Малахитницы: Культурно-исторические очерки / Колл. Авт.- Екатеринбург: ИД «Сократ», 2003.- 368с.: ил.
23. Огненные строки Тугулымских поэтов: Поэтический сборник.- Тугулым, 2015.- 135 с.- (Муниципальное казённое учреждение культуры «Централизованная библиотечная система Тугулымского городского округа» Литературный клуб «Журавушка»).
24. Онищенко О.Н. Деревня, которая живёт в нашей памяти: [дер.Корявка].- Тугулым: Изд-во «ИП Сидоров»,2019.- 80 с., ил. Ю.М.Старикова.
25. Поротников Л.Т. 10 лет истории Тугулымского районного общества краеведов: Краеведческий ларец. Сб. № 11.- Тугулым, 2015.- 41с.- (Общество Уральских краеведов. Тугулымское районное общество краеведов).
26. Поротников Л.Т. Летопись Тугулымского края: Природа и природные ресурсы / Фото Л.Поротникова, С.Новопашина.- Екатеринбург: ООО «Баско», 2007.- 288с.: ил.
27. Поротников Л.Т. Последние солдаты Великой войны: Краеведческий ларец. Сб. № 10.- Тугулым, 2014.- 92 с.- (Общество Уральских краеведов. Тугулымское районное общество краеведов).
28. Поротников Л.Т. Сибирский тракт. Пограничный столб «Россия – Сибирь» / Л.Т.Поротников.- Тюмень: ИПЦ «Экспресс», 2016.- 92с.
29. Путеводитель по музеям Тугулымского городского округа: Краеведческий ларец (сб. № 4).- Тугулым, 2008.- 80 с.- (Общество Уральских краеведов. Тугулымское районное общество краеведов).
30. Район, в котором мы живём: Сборник викторин / сост. Г.Г.Селина.- Тугулым, 2012.- 61с.
31. Светашов В.К. Гнездовый период в жизни птиц Тугулымского района: Краеведческий ларец. Сб. № 6.- Тугулым, 2010.- (Общество Уральских краеведов. Тугулымское районное общество краеведов).
32. Сидоров В.В. Руководители предприятий и организаций Тугулымского района: Часть 1. [1925-1950гг.]- Тугулым, 2011.- 160с.
33. Сидоров В.В. Руководители предприятий и организаций Тугулымского района: Часть 2. [1951-1980гг.]- Тугулым, 2013.- 187с.
34. Сидоров В.В. Руководители предприятий и организаций Тугулымского района: Часть 3. [1981-2010гг.]- Тугулым, 2016.- 169с.
35. Сидоров В.В. Руководители предприятий и организаций Тугулымского района Свердловской области 1925–2015 гг.- Тугулым, 2019.- 455с.
36. Словарь туриста и краеведа: учеб.-метод. Пособие / Ю.С.Константинов, А.И.Персин / под общ. редакцией доктора педагогических наук Ю.С.Константинова – М.: ООО «Буки-веди», 2018.- 224с.
37. Торопов В.В. 50 лет Тугулымскому лесхозу. Очерк истории лесного хозяйства в Тугулымском районе.- Екатеринбург, 1997.- 184с.- (Лесное хозяйство).
38. Торопов В.В. Занимательная экология.- Екатеринбург: УралЭкоЦентр, 2003.- 159с.





39. Тугулымцы в годы войны: Сб. в 2 тт.- Тугулым, 2015.- (70-летию Победы посвящается).
40. Чагин Г.Н. Народы и культуры Урала в XIX-XX вв. / Учеб. пособие для учащихся 10-11 кл. общеобразовательных учреждений.- Екатеринбург: ИД «Сократ», 2002.-296с.: ил.

Интернет-ресурсы

41. Аникин А. Тугулымские истории. Где Россия прирастает Сибирью? // Наш Урал. - Режим доступа: <https://nashural.ru/article/istoriya-urala/tugulymskie-istorii-gde-rossiya-prirastaet-sibiryu/> (дата обращения 10.12.2019)
42. Бабиновская дорога // Ирбит. – Режим доступа: <http://irbit.info/history/analytics/34/1226/#prettyPhoto> (дата обращения 10.12.2019)
43. Вадим Светашов // Проза.ру.- Режим доступа: <https://www.proza.ru/avtor/lesnik3> (дата обращения 10.12.2019)
44. Валасина А. РУССКАЯ ИЗБА: МУДРОСТЬ ПРЕДКОВ // Родная тропинка.- Режим доступа: <http://rodnaya-tropinka.ru/russkaya-izba/> (дата обращения 10.12.2019)
45. Географическая справка.- интернет-газета Знамя труда.- Режим доступа: - http://znamitruuda.ucoz.ru/news/geograficheskaja_spravka/2010-09-24-319 (дата обращения 10.12.2019)
46. Исторические вехи // интернет-газета Знамя труда - Режим доступа: http://znamitruuda.ucoz.ru/news/istoricheskie_vekhi/2010-09-24-320 (дата обращения 10.12.2019)
47. Печуркина Р. Первая сухопутная дорога в Сибирь // Наука и жизнь.- 1999.- №4 .- Режим доступа в журн.: <http://www.nkj.ru/archive/articles/9105/> (дата обращения 10.12.2019)
48. Поротников Л., Новопащин С. О достопримечательных местах Тугулымского района и национального парка "Припышминские боры" // Тугулымский городской округ - Режим доступа: <http://semantic.uraic.ru/post/postbrowse.aspx?o1=4940&q=true&f=p> (дата обращения 10.12.2019)
49. Поротников Л., Новопащин С. ТУГУЛЫМ Mon Amour // Уральская библиотека - Режим доступа: http://urbibl.ru/Stat/Goroda_sela/tugulim.htm (Статья та же, только фото побольше) (дата обращения 10.12.2019)
50. Русская скоропись: как читать. – Режим доступа: <https://sites.google.com/site/ruskaaskoropiskakcitat/kto-by-mog-podumat> (дата обращения 10.12.2019)
51. Село Заводоуспенское.- Режим доступа: <http://zavodouspenskoe.com/> (дата обращения 10.12.2019)
52. ТЕРМИНЫ РУССКОЙ ИЗБЫ // сайт Оптимист.- <http://oppes.ru/terminy-russkoj-izby.html> (дата обращения 10.12.2019)
53. Шестак Ю. Тюменцы пройдут 320 км. по старому Сибирскому тракту.- Режим доступа: <http://www.vsluh.ru/news/tourism/291920> (дата обращения 10.12.2019)
54. Щи.ру. Русский народный быт.- Режим доступа: <https://schci.ru/> (дата обращения 10.12.2019)

